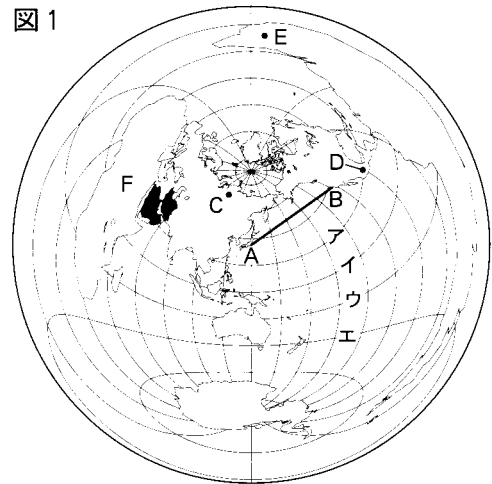


I 世界や日本の地理に関するあとの問いに答えなさい。

1 図1は、東京からの距離と方位が正しく示される地図である。これを見て、次の問いに答えなさい。

(1) 図1中のア～エのうち、赤道をあらわしているものを選んで、その符号を書きなさい。



(2) 図1中の直線A-Bは東京-サンフランシスコ間の最短距離を示している。緯線と経線が直角に交わった地図である図2中のア～エのうち、図1中のA-Bのルートを示しているものを選んで、その符号を書きなさい。

図1

(3) 図1に関する次のア～エの文のうち、適切でないものを1つ選んで、その符号を書きなさい。

ア 東京から飛行機で、東京から見た真東の方向に飛び続けると、最初に到達する大陸は南アメリカ大陸である。

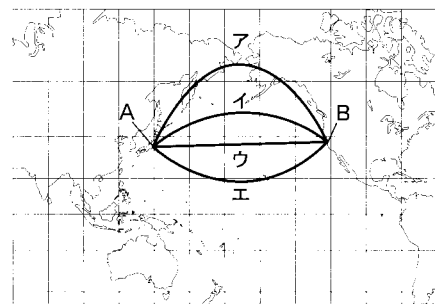
イ AからBに向かって最短距離を飛行機で飛び続け、日付変更線を越えると、日付を1日遅らせる。

ウ CとDの地点では、Cの方が冬至の日の日照時間が長い。

エ Eの地点を通る経線は、西経であらわされる。

図2

(4) 日本は2002年に、ある資源の総輸入量の80%以上を図1中の■で示した国々から輸入している。この資源として適切なものを、次のア～エから1つ選んで、その符号を書きなさい。



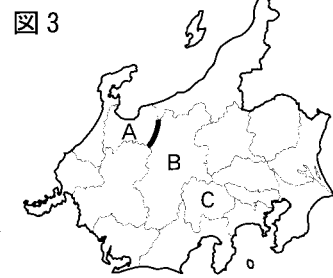
ア 石炭 イ 石油 ウ 鉄鉱石 エ 木材

(5) 図1中のFで示した大陸では、国境線の一部が緯線や経線にそって引かれているところが多い。その理由を、Fの大陸と、この大陸以外の国々との過去の関係から説明しなさい。

図3

2 図3を見て、次の問いに答えなさい。

(1) 図3中のA県とB県の県境である——で示した地域の地形の特色を述べた文として適切なものを、次のア～エから1つ選んで、その符号を書きなさい。



(島は一部省略している。)

ア けわしい山岳地帯となっている。

イ 稲作に適した平野が広がっている。

ウ なだらかな丘陵地帯となっている。

エ ゆるやかな河川の流域に湿原が広がっている。

(2) 次の表は、図3中に示されている都や県における、昼の人口から夜の人口を差し引いた数値を示している。昼の人口が夜の人口を下回っている県のうち、その差の大きい順に3つの県を選んで解答欄の白地図に■で示し、これら3つの県で昼の人口が夜の人口より著しく少ない理由を、表と作成した地図をもとに書きなさい。

表

(千人)								
茨城県	福井県	東京都	栃木県	千葉県	群馬県	富山県	新潟県	
-93	2	2,650	-11	-733	-2	-3	1	
神奈川県	山梨県	岐阜県	石川県	長野県	埼玉県	静岡県	愛知県	
-841	-7	-81	4	1	-940	4	115	

数値は2000年のものである。

(『データでみる県勢』より作成)

(3) 図3中のB県やC県ではぶどうの生産がさかんであるが、ぶどうの生産に関して次の説明を行うためには①～④以外に資料が1つ必要である。その資料を解答欄のこたばに合わせて書きなさい。

2002年の全国のぶどうの収穫量は前年より約3%増加しており、都道府県別にみるとC県の収穫量は全国で第1位、B県は第2位である。2002年のぶどうの栽培面積については、両県ともに前年より減少しているが、前年に引き続きC県が全国の第1位、B県が第2位を占めている。

- ① 2002年の全国のぶどう収穫量 ② 2002年の都道府県別のぶどうの栽培面積
 ③ 2001年の全国のぶどう収穫量 ④ 2002年の都道府県別のぶどう収穫量

II 日本のおもな建物や城を整理した表と、兵庫県の身近な建物や城を説明したカードA～Eを見て、あとの問いに答えなさい。

表

時 代	日本のおもな建物や城
飛 鳥	法隆寺が建てられる
奈 良	正倉院が建てられる
平 安	平等院鳳凰堂が建てられる
鎌 倉	東大寺南大門が再建される
室 町	銀閣が建てられる
安土・桃山	大阪城がつくられる
江 戸	姫路城がつくられる
明 治	富岡製糸場が建てられる
大 正	東京駅の駅舎が建てられる

カード

A 播磨国分寺・但馬国分寺・淡路国分寺

聖武天皇の命令により、国ごとに国分寺が建てられることになった。

B 浄土寺浄土堂

浄土堂は、東大寺の再建に活躍した僧により建てられ、東大寺南大門と同じ建築様式でできている。堂の中には阿弥陀仏の像が置かれた。

C 竹田城

但馬の守護大名山名氏の家臣であった武将の城で、羽柴（後の豊臣）秀吉軍に攻められ落城した。

D 篠山城

徳川家康が征夷大將軍になって以降に、家康の命令により交通の要地に築かれた城で、家臣・商工業者が住む城下町もできた。

E 移情閣

孫文と交流のあった実業家の別荘の一部として建てられた八角三階建の建物で、辛亥革命が起こった年の4年後に完成した。別荘に孫文が訪れたことがある。

- カードAとDについて、それぞれの内容があてはまる時代を表から1つずつ選んで、書きなさい。
- カードAに関して、次の文の に入る適切な語句を書きなさい。
聖武天皇は の力で国を守ろうとして、国ごとに国分寺を、都に大仏をつくるよう命じた。
- カードBに関して、次の問いに答えなさい。

- 資料1は、浄土堂内の阿弥陀仏の像の作者も制作に加わったとされる、東大寺南大門にある像の写真である。この像の名称を書きなさい。
- 浄土堂は鎌倉時代のはじめに建てられたが、鎌倉時代の農民について述べた文として適切なものを、次のア～エから1つ選んで、その符号を書きなさい。
ア 農民は、五人組に組み込まれ、衣類や食べ物などの日常生活も規制された。
イ 農民は、戸籍に基づき口分田を与えられ、租・庸・調を負担した。
ウ 農民は、武器をとりあげられ、農民と武士の身分がはっきりと分けられた。
エ 農民は、年貢だけでなく、地頭からさまざまな負担をかけられることもあった。

資料1



- 阿弥陀仏に救いを求め、極楽浄土に生まれかわることを願う信仰を浄土信仰（阿弥陀信仰）というが、阿弥陀仏の像を置き、この世に極楽浄土をあらわしたとされる建物を表中から1つ選んで、その建物の名称と、その建物のある都道府県名を書きなさい。

4 カードCに関して、但馬の守護大名山名氏が関係して起こった応仁の乱から豊臣秀吉の全国統一までの間のことがらについて、次の問いに答えなさい。

(1) 応仁の乱以降、家臣が力を伸ばし主君の権力を奪うなど、下の身分の者が実力で上の身分の者にとって代わる風潮が強まったが、この風潮のことを何というか、書きなさい。

(2) この間の文化について述べた文として適切なものを、次のア～エから1つ選んで、その符号を書きなさい。

- ア 遣唐使が派遣されなくなり、国風文化が発達した。
- イ 歌舞伎や人形浄瑠璃が流行し、浮世絵がはじまった。
- ウ 蘭学が発達し、西洋の医学書を翻訳した『解体新書』が出版された。
- エ ヨーロッパ人の来航により、鉄砲やキリスト教が伝えられた。

5 カードDに関して、次の問いに答えなさい。


(1) 篠山城の城下には、家臣や商工業者が住む城下町ができ、商業や流通の中心として発展した。篠山城が築かれた時代の商業や流通について述べた文として適切なものを、次のア～エから1つ選んで、その符号を書きなさい。

- ア 土倉や酒屋とよばれる金融業者や、専門の運送業者が活躍した。
- イ 港が整備され、宋との貿易がすすめられた。
- ウ 航路や街道などの交通路が整備され、株仲間もつくられた。
- エ 産業革命の進展にともない、財閥が成長した。

(2) 篠山城には、資料2の特徴を取り入れた建物がある。資料2に関して述べた次の文章の ・ に入る適切な語句を書きなさい。

将軍であった が建てた銀閣は慈照寺の中にあり、資料2の同仁齋と呼ばれる部屋は、慈照寺の東求堂内につくられた。この部屋は 造の特徴を示しており、その後、篠山城のほか大阪城や姫路城にもこの造りの建物がつくられた。

資料2



(慈照寺の東求堂同仁齋)

6 カードEに関して、次の問いに答えなさい。

(1) 移情閣が建てられた大正時代に始まったことがらとして適切なものを、次のア～エから1つ選んで、その符号を書きなさい。

- ア ラジオ放送 イ 洋服の着用 ウ 郵便制度 エ 電信

(2) 辛亥革命以降の日本と中国の関係について、次のア～エを起こった順に並べ、その符号を書きなさい。

- ア 日本が中国に対して二十一か条の要求を出す。 イ 日中平和友好条約が結ばれる。
- ウ 中国で五・四運動が起こる。 エ 日中戦争が始まる。

Ⅲ 日本の政治や経済について、あとの問いに答えなさい。

1 ある商品の価格に消費税が含まれていた。消費税と同様に、税金を納める人と税金を負担する人が異なる税として適切なものを、次のア～エから1つ選んで、その符号を書きなさい。

- ア 酒税 イ 所得税 ウ 法人税 エ 相続税

2 商品情報など、さまざまな情報を提供するうえで、マスコミュニケーション（マスコミ）のはたす役割は大きい。大量の情報を多数の人々に提供する仲立ちとなるテレビや新聞などのことを何というか、書きなさい。

3 右の図は、ジュースなどの缶につけられているマークである。このマークに関して述べた次の文の に入る適切な語句を書きなさい。

図



空き缶を資源として再利用することを といい、消費者は空き缶の分別収集や回収に協力することが大切である。

- 4 消費者を保護するために1994年に制定された製造物責任法（PL法）について述べた文として適切なものを、次のア～エから1つ選んで、その符号を書きなさい。
- ア 生活に大きな影響を与える電気料金などを、公共料金と定めている。
- イ 製品の欠陥によって被害を受けた場合、生産者などに損害賠償を求めやすくしている。
- ウ 訪問販売などでの売買契約後、一定期間内であれば、契約を解除できる。
- エ 企業の独占や不公正な取り引きを監視する機関として、公正取引委員会が設置されている。
- 5 地方公共団体が、住民の意思に基づいて、その地域の政治を自主的に行っていくことを何というか、書きなさい。
- 6 地方公共団体が定める条例に関して述べた文として適切でないものを、次のア～エから1つ選んで、その符号を書きなさい。
- ア 法律では、住民が条例の制定や改廃を直接請求することができることを定めている。
- イ 地方公共団体は、法律の範囲内で条例を制定する。
- ウ 首長は、条例の制定に関する議会の議決に対して審議のやりなおしを求めることができる。
- エ 条例の制定には、住民の投票による過半数の賛成が必要である。
- 7 政治や社会の問題についての多くの人々の意見のまとまりは、政治を動かす力となる。このような意見のまとまりを何というか、書きなさい。
- 8 次の文章を読み、 ・ に入る適切な語句を、それぞれ書きなさい。

は、政治について同じ考えや政策をもつ人々が、その考えや政策を実現するためにつくる政治団体で、人々の意見を集約して、政治に反映させるはたらきをしている。 は、選挙では政策を明らかにし、議会での議席の獲得をめざして活動する。一般に、国会で多数の議席を占め、内閣を組織して政権を担当する のことを という。

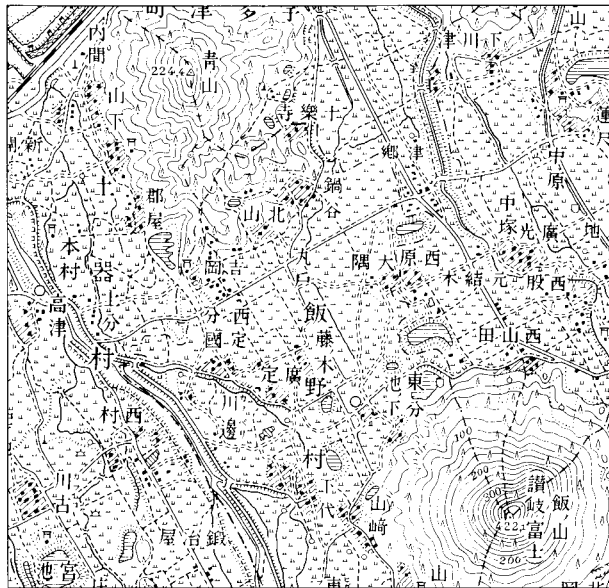
IV 日本の憲法と議会制度に関するあとの問いに答えなさい。

- 1 1874年、板垣退助らは議会を開くことなどを求めた民撰（選）議院設立建白書を政府に提出した。その後、この建白書の内容などを実現するためにくり広げられた運動を何というか、書きなさい。
- 2 政府は、大日本帝国憲法の草案を作成する際に、君主権の強いある国の憲法をおもに研究した。その国の国名を書きなさい。
- 3 大日本帝国憲法や帝国議会に関する文として適切なものを、次のア～エから1つ選んで、その符号を書きなさい。
- ア 華族や士族だけに帝国議会議員の選挙権が与えられた。
- イ 帝国議会は、参議院と衆議院の二つの議院から成り立っていた。
- ウ この憲法では、言論・出版などの自由は法律の範囲内で認めると定めていた。
- エ 主権が国民にあることを宣言し、この憲法が定められた。
- 4 日本国憲法のもとで、国会は二院から成り立っている。二院制の利点は何か、書きなさい。
- 5 日本国憲法のもとでの、国会のしくみや仕事、運営について述べた文として適切でないものを、次のア～エから1つ選んで、その符号を書きなさい。
- ア 法律案は、どちらかの議院に提出され、原則としてまず委員会で審議される。
- イ 国会は、外交関係を処理し、外国と条約を結ぶ。
- ウ 国会には、不適任だと訴えられた裁判官を裁くための弾劾裁判所が設置される。
- エ 法律案は、内閣または国会議員から提出される。
- 6 日本国憲法では、内閣は、国会の信任に基づいて成立し、国会に対して連帯して責任を負うことになっているが、このしくみを何というか、書きなさい。

V (選択問題) A, Bから1題を選んで、解答しなさい。

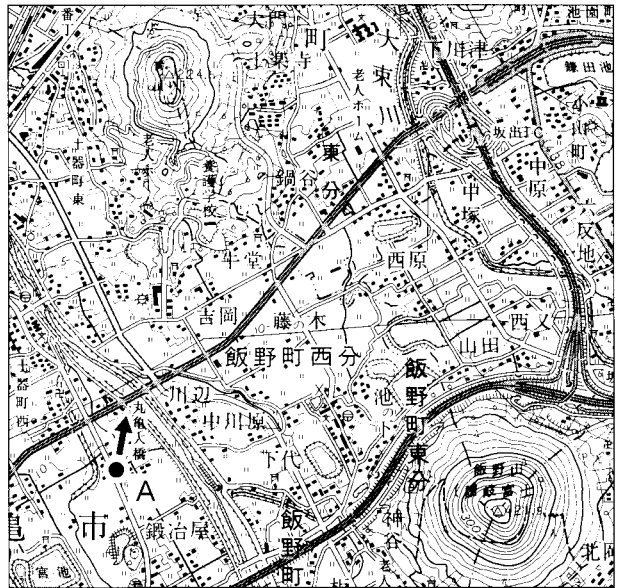
A 図1, 図2はいずれも香川県における、同じ地域の新旧2枚の地形図の一部である。これを見て、あとの問いに答えなさい。

図1




(5万分の1地形図「丸亀」(1906年)より)

図2



(5万分の1地形図「丸亀」(1999年)を一部改変)

1 図2中のA地点から矢印の方向を向き、正面に見える山の形を描いた図として適切なものを、右のア～ウから1つ選んで、その符号を書きなさい。



2 図1と図2を比較し、この地域の変化について述べた文として適切なものを、次のア～エから1つ選んで、その符号を書きなさい。

- ア 川をせき止めて発電用のダムができた。
- イ 川に沿って鉄道が建設され、駅がつけられた。
- ウ 山のふもとを通る高速道路が建設された。
- エ 河口部に飛行場がつけられた。

3 この地域ではどのような工夫をして米作りを行ってきたか、図1, 図2の地形図に共通してみられる特徴をもとに、香川県の気候の特色にふれながら説明しなさい。

B 下の表は、2002年のA～Cの各国の農業生産について示している。これを見て、あとの問いに答えなさい。

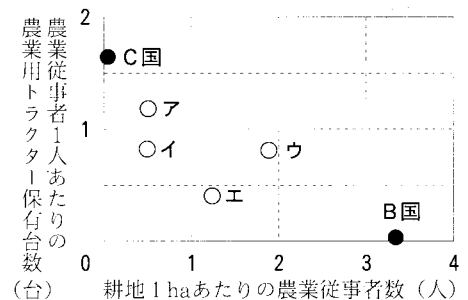
表

国	農業従事者数 (万人)	人口に占める農業従事者の割合(%)	耕地面積 (万ha)	農業用トラクター保有台数 (万台)
A	245	1.9	476	203
B	51,095	39.8	15,396	93
C	291	1.0	17,807	480

1 ha = 1 万m²

(『世界国勢図会』より作成)

グラフ



1 グラフ中には、表の数値をもとに、B国とC国が示されている。グラフ中のア～エからA国を示す適切なものを選んで、その符号を書きなさい。

2 表をもとに得られる数値として適切でないものを、次のア～エから1つ選んで、その符号を書きなさい。

- ア 耕地面積1 haあたりの農業用トラクター台数
- イ 農業従事者1人あたりの耕地面積
- ウ 人口1人あたりの耕地面積
- エ 耕地1 haあたりの穀物生産量

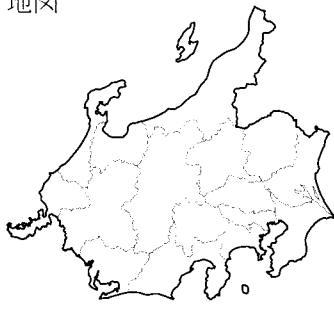
3 表とグラフの両方を用いて、C国で営まれている農業の特色として考えられることを、土地の耕作の面から、B国と比較して書きなさい。

受検番号 番

平成17年度兵庫県公立高等学校学力検査

得 点	
--------	--

社 会 解 答 用 紙

I	1	(1) _____ (2) _____ (3) _____ (4) _____	地図 
		(5) _____	
	2	(1) _____ 理由 _____ _____	
		(2) _____ _____	
		(3) ()年の() _____	
II	1	A _____ D _____	2
		(1) _____	3
		(3) 建物の名称 _____	4
		(1) _____ (2) _____	5
		(1) _____ (2) ① _____ ② _____	6
		(1) _____ (2) () → () → () → ()	
III	1	2	3
	4	5	6
	7	8 ① _____	② _____
IV	1	2	3
	4		
	5	6	

V (選択問題) 解答欄の左の の中に、A、Bのうち、選択した問題の符号を書きなさい。

符 号	
--------	--

1		2	
3			