

平成 19 年 度

兵庫県公立高等学校学力検査問題

社 会

注 意

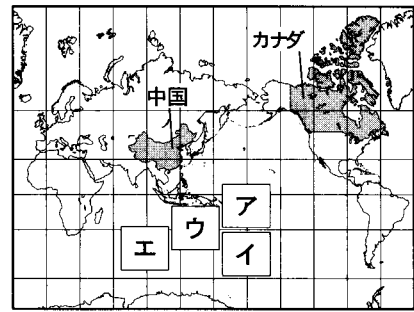
- 1 「開始」の合図があるまで開いてはいけません。
- 2 「開始」の合図で、1 ページから 5 ページまで問題が印刷されていることを確かめなさい。
- 3 解答用紙の左上の欄に受検番号を書きなさい。
- 4 答えは、すべて解答用紙の指定された解答欄に書きなさい。
- 5 問題は 5 題で、5 ページまであります。
 - (1) I, II, III, IVは、共通問題です。全員が解答しなさい。
 - (2) Vは、選択問題です。A, Bから 1 題を選んで、解答しなさい。
その際、解答欄の左の の中に、選択した問題の符号を書きなさい。
- 6 「終了」の合図で、すぐ鉛筆を置きなさい。
- 7 解答用紙と問題用紙は切り離さないで、解答用紙、問題用紙とも机の上に置いて、退室しなさい。

世界や日本の地理に関するあとの問いに答えなさい。

1 世界の地理と日本の食料に関する次の問いに答えなさい。

- (1) 図1は緯線と経線が直角に交わった略地図である。オーストラリア大陸が位置する場所として適切なものを、図1のA～Eから1つ選んで、その符号を書きなさい。
- (2) 中国とカナダの面積は地球儀上ではどちらも日本のおよそ25～26倍である。図1上では、中国とカナダの面積はどのようにあらわされているか、解答欄のこたばに合わせて書きなさい。

図1



(緯線、経線は30度間隔で描かれている)

- (3) 表1は日本の小麦・大豆の輸入先、表2は各国の米・とうもろこしの生産量を示している。表1と表2のA, B, Cはそれぞれ同じ国を示しており、次のA～ウのいずれかである。A, B, Cにあてはまる国をA～ウから選びなさい。
ア 中国 **イ** アメリカ合衆国
ウ オーストラリア

表1 日本の小麦・大豆の輸入先(2003年)

小麦		大豆	
国	(千t)	国	(千t)
A	2,983	A	3,858
B	1,168	ブラジル	890
カナダ	1,070	カナダ	189
C	21	C	143
その他を含む合計	5,246	その他を含む合計	5,173

(財務省貿易統計より作成)

表2 米・とうもろこしの生産量(2003年)

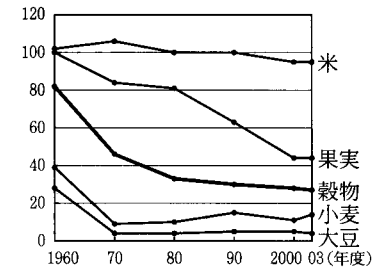
国	米(千t)	とうもろこし(千t)
A	9,034	256,905
B	391	316
C	166,417	114,175
日本	9,740	0.2

(『世界国勢図会』より作成)

- (4) 日本の食料に関する次の文章の下線部a～dのうち、表1、表2、図2から読み取ることができるものとして適切でないものを1つ選んで、その符号を書きなさい。

米、小麦などが含まれたa穀物自給率は、1980年度には40%を割っており、2003年度にはさらに低下している。1960年度の米と果実の自給率はほぼ同じであったが、b2003年度の果実の自給率は50%を下回っている。c米の自給率は1990年度から2003年度にかけてわずかに低下しており、2003年の米の生産量が日本よりも多いC国から米を輸入している。また、d2003年の小麦の輸入量は輸入先上位3か国で90%以上を、大豆の輸入量はA国のみで70%以上を占めており、それらの国の農業事情に影響を受けやすくなっている。

図2 日本の食料の自給率の推移



(『日本国勢図会』より作成)

2 写真1、写真2は図3のa～dのいずれかの場所に位置する伝統的な民家である。これらを見て、あとの問いに答えなさい。

写真1



写真2


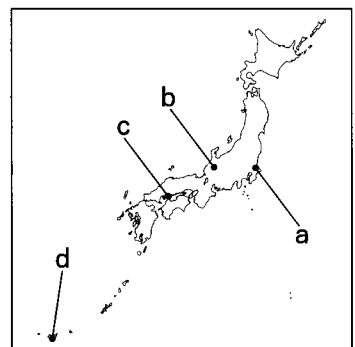


図3



- (1) 次の文章の に入る適切な語句を書きなさい。

日本の国土は南北に長いので、地域により気候に大きな差がみられる。また、冬は北西方向、夏は南東方向から とよばれる風がふいており、日本海側と太平洋側の気候の違いをつくりだしている。そうした気候の地域差の影響を受けてさまざまに工夫された民家が発達した。

- (2) 写真1で示した民家は、きびしい気候に備える工夫の1つとして、屋根の傾斜を急にしている。どのような気候の特色か、書きなさい。また、この民家が位置する場所を、図3のa～dから1つ選んで、その符号を書きなさい。
- (3) 写真2で示した民家には、ある自然災害に備えた工夫が見られる。この工夫について、写真2から読み取れることを、解答欄のこたばに合わせて書きなさい。また、この民家が位置する場所を、図3のa～dから1つ選んで、その符号を書きなさい。

II 日本の文化に関するおもなできごとを整理した表と、資料1～3を見て、あとの問いに答えなさい。

1 A ~ C に入るものを、次のア～ウから1つずつ選んで、その符号を書きなさい。

ア 俳諧(俳句) イ 茶の湯(わび茶) ウ 能

2 下線部 a に関して、弥生時代には米を貯蔵する土器がつくられるなど稲作が広まった。日本の農業に関して述べた次のア～エの文を古い順に並べ、その符号を書きなさい。

ア 稲の収穫には石包丁が使われ、豊作を神に祈る祭りなどに銅鐸などの青銅器が使われた。

イ 新しい土地の開墾が盛んに行われ、農具として備中ぐわが普及し千歯こきが発明された。

ウ 口分田が不足し、新しく開墾した土地を永久に私有することを認める法が定められた。

エ 稲と麦の二毛作や牛馬を使った農耕が広がり生産量が増え、市では大量の宋銭や明銭が農作物などの商品の取り引きに使われた。

3 下線部 b に関して、江戸時代に本居宣長は『古事記伝』をあらわした。宣長は日本の古典を研究し、儒教や仏教の影響を受ける前の日本人の考え方を明らかにしようとしたが、この学問を何というか、書きなさい。

4 下線部 c の時期の国際関係を示すものを、次のア～エから1つ選んで、その符号を書きなさい。

ア 遣隋使が派遣される イ 遣唐使の派遣が停止される
ウ 日明貿易がはじまる エ 朱印船貿易が終わる

5 資料1は京都の祇園祭のようすをえがいたものである。応仁の乱のために中断した祇園祭を室町時代に復興し、祭りの運営や京都の町の自治を行った有力な商工業者たちを何というか、書きなさい。

6 下線部 d に関して、キリスト教が伝わった背景について述べた次の文章の に入る適切な語句を書きなさい。

ヨーロッパでは、カトリック教会中心の教えや支配に抗議し、神への信仰にうちこむことの大切さを説くルターらによる運動が起こり、新しい教えを支持する信者が増えた。このような動きを という。これに対し、カトリック教会内部でも立て直しが図られ、イエズス会宣教師ザビエルなどによってアジアなどでの布教活動が行われた。

7 江戸時代の文化に関して述べた文として適切なものを、次のア～エから1つ選んで、その符号を書きなさい。

ア 寝殿造の住居があらわれ、風景や人物などをえがく日本独特の絵画が生まれた。

イ 都に壮大な寺院、地方に国分寺がつくられ、国際色豊かな文化が起こった。

ウ 武士の気風を反映した力強い彫刻がつくられ、禅宗が武士の間に広まりはじめた。

エ 人形浄瑠璃や歌舞伎が人気を集め、風景や人物などをえがく浮世絵が生まれた。

8 江戸時代の世界情勢を示す文として適切なものを、次のア～エから1つ選んで、その符号を書きなさい。

ア 独立戦争中に独立宣言が出され、その後アメリカがイギリスから独立した。

イ モンゴル民族が中国から西アジア、ロシアにまたがる広大な帝国を築き、東西文化が交流した。

ウ ロシアで革命が起こり、労働者や農民を中心とした社会主義国が生まれた。

エ イスラム教が開かれ、その後約1世紀の間に広大なイスラム帝国が成立した。

表

時代	おもなできごと
弥生	a <u>弥生土器がつくられる</u>
古墳	漢字が伝わる
飛鳥	法隆寺が建てられる
奈良	b <u>『古事記』がつくられる</u>
平安	c <u>かな文字が使用される</u>
鎌倉	軍記物が書かれる
室町	<input type="checkbox"/> A が大成される d <u>キリスト教が伝わる</u>
安土・桃山	<input type="checkbox"/> B が大成される
江戸	<input type="checkbox"/> C が芸術にまで高まる
明治	e <u>文明開化が起こる</u>
大正	f <u>民本主義</u> がとなえられる
昭和	テレビ放送がはじまる
平成	

資料1



9 下線部 e に関して、資料 2

資料 2、資料 3 は文明開化の時期のようすをえがいたものである。次の問いに答えなさい。

- (1) 2つの資料に共通して見られる、文明開化の特色を示す乗り物を1つ書きなさい。
 (2) 資料中の人物の姿に着目し、乗り物の利用のほかに、2つ



資料 3



の資料に共通して見られる文明開化の特色について、具体例を1つ示し、説明しなさい。

- (3) 文明開化の時期に、近代産業を育成するために欧米の技術を導入した官営の工場などがつくられたが、明治政府が行ったこの政策を何というか、書きなさい。

10 下線部 f は、吉野作造によってとなえられ、大正デモクラシーの風潮に影響を与えた。この風潮が起こった時期のことがらとして適切なものを、次のア～エから1つ選んで、その符号を書きなさい。

- ア 民選（撰）議院設立建白書が提出される イ 原敬の政党内閣が成立する
 ウ 福沢諭吉が『学問のすゝめ』を書く エ 農地改革が実施される

11 文化の広がりに関して述べた次の文章の ① ～ ③ に入る適切な語句を書きなさい。

古代には、渡来人や外交使節などにより伝わった大陸文化などが、おもに都の天皇や貴族などに広まった。中世には、平氏の繁栄から滅亡までをえがいた軍記物である ① を琵琶法師が語り歩くなど、文化は次第に、その担い手となる武士や庶民、地方へも広がった。近世には、「読み、書き、そろばん」を庶民に教える場である ② が増え、旅をえがいた書物などが庶民にも読まれた。近代には、文明開化の時期に、すべての国民に学校教育を受けさせようとする ③ が公布されて、全国に小学校がつくられはじめ、就学率が次第に上昇した。大正デモクラシーの時期には、ラジオ放送の開始や出版物の大量発行などにより文化の大衆化が進み、さらに、テレビ放送の開始でその大衆化は一層進んだ。

III ある生徒がまとめた日本の経済や政治に関する次のレポート 1、2 を読んで、あとの問いに答えなさい。

1 下線部 a に関して、商品が、生産者から消費者に 渡るまでの道すじのことを何というか、次のア～エから1つ選んで、その符号を書きなさい。

- ア 好況 イ 流通 ウ 需要 エ 利子

2 下線部 b に関して、家庭で使用している電気や水道などの料金は、人々の生活に大きな影響をおよぼすので、政府や地方公共団体によって決められている。このような料金を何というか、書きなさい。

3 下線部 c に関して、日本銀行が、一般の銀行などの金融機関にお金を貸し出したり、一般の銀行などのお金を預かったりする役割を表すことばとして適切なものを、次のア～エから1つ選んで、その符号を書きなさい。

- ア 発券銀行 イ 都市銀行 ウ 銀行の銀行 エ 政府の銀行

4 下線部 d に関して述べた次の文章の ① ・ ② に入る語句の組み合わせとして適切なものを、ア～エから1つ選んで、その符号を書きなさい。

コンビニエンスストアについて

コンビニエンスストアは、a 飲食料品などを販売しており、1970年代半ば以降、店舗数を伸ばした。なかには、b 電気料金を納めることができたり、c 銀行 A T M（現金自動預払機）で、お金をおろすことができたりするところもある。また、d 株式を購入できるところもある。

株式会社は、設立するときなどに、株式を発行して ① を集める。一方、① を提供し、株式を購入した人は株主とよばれ、会社が ② をあげたときは、その ② の分配を受ける。

- ア ①出資者 ②物価 イ ①資金 ②法人税 ウ ①利益（利潤）②物価 エ ①資金 ②利益（利潤）

5 コンビニエンスストアでは、以前は販売が認められなかった商品のうち、現在は販売が認められているものがある。このように、政府は、許認可を見直し、自由な競争をうながそうとする施策を進めてきた。このような動きを何というか、漢字 4 字で書きなさい。

6 下線部 e に関して、国会は、証人をよんで証言させたり、政府に記録の提出を求めたりして、政治の実際を調べることができる。この権限を何というか、次のア～エから1つ選んで、その符号を書きなさい。

- ア 法令審査権 イ 司法権
ウ 国政調査権 エ 団体交渉権

7 下線部 f に関して、内閣について述べた文として適切でないものを、次のア～エから1つ選んで、その符号を書きなさい。

- ア 内閣は、国会の信任に基づいてつくられ、国会に対して連帯して責任を負う。
イ 内閣は、国権の最高機関であって、国の唯一の立法機関である。
ウ 内閣は、内閣総理大臣とその他の国务大臣によって構成されている。
エ 内閣は、憲法や法律の規定を実施するために、政令を定めることができる。

8 レポート2の に入る適切な語句を書きなさい。

9 下線部 g に関して、次の文章の に共通して入る適切な語句を書きなさい。

自分たちが住んでいる地域の問題について、住民が自らの意思で行う政治が地方自治である。住民が地域を自ら治めることは そのものであり、「地方自治は の学校」といわれる。

10 法律では、住民には条例の制定・改廃や首長・議員の解職などを求める権利が認められている。これらの権利をまとめて何というか、書きなさい。

IV 右の資料は、世界遺産に登録されているフランスのベルサイユ宮殿の「鏡の間」である。これに関するあとの問いに答えなさい。

- 資料の場所で、1919年、連合国とドイツとの間でベルサイユ条約が調印された。この調印に先立ち開かれた会議などで、民族自決や国際連盟の設立を主張したアメリカ大統領はだれか、書きなさい。
- 世界遺産の登録などを行っているユネスコは、国際連合の専門機関の1つである。国際連合に関する次の文章を読んで、あとの問いに答えなさい。

国際連合の本部は、ニューヨークにある。国際連合は、総会・安全保障理事会などの機関からなる。フランスはアメリカや とともに安全保障理事会の常任理事国である。

(1) 下線部に関して、総会では、世界のさまざまな問題を話し合い、決議を出すことができる。1948年の国際連合総会で採択された宣言では、どの国においても守るべき人権の共通の基準をよびかけているが、この宣言を何というか、書きなさい。

(2) 文章中の に入る国の組み合わせとして適切なものを、次のア～エから1つ選んで、その符号を書きなさい。

- ア 中国、イタリア、ドイツ イ イタリア、スイス、ロシア
ウ 中国、イギリス、ロシア エ イギリス、スイス、ドイツ

3 資料の建物は、フランスのパリ郊外にある。ニューヨークが1月1日の午前10時のときの、パリの日付と時刻にあたるものを、次のア～エから1つ選んで、その符号を書きなさい。なお、ニューヨークの時刻の基準になる経線（子午線）は、西経75度で、パリはロンドンと1時間の時差がある。

- ア 12月31日午前4時 イ 12月31日午後4時 ウ 1月1日午前4時 エ 1月1日午後4時

4 ベルサイユ宮殿は、フランスの国王が絶対的な権力をにぎっていた時期に建てられた。この時期に、国王の政治を批判した思想家の1人にモンテスキューがいる。彼は『法の精神』で、権力をたがいに抑制させることによって、1つの権力が肥大化しないようにしようという考えを説いた。この考えを何というか、書きなさい。

レポート2

国と都道府県・市町村の仕事について

国は、e国会で決められた法律や予算をもとに、f国全体の仕事をしている。地方公共団体では、g都道府県知事や市町村長、議員を住民が直接選ぶことで、自分たちの手で地域にあったまちづくりやサービスを行っている。国の財政を国家財政、地方公共団体の財政を地方財政、国や地方公共団体の1年間の財政収入を歳入というが、次の資料は、都道府県と市町村などの地方公共団体の歳入全体の内わけを示している。資料 地方財政の歳入の内わけ（2005年度）

地方税	39.8%
地方交付税	20.2%
地方債	14.6%
<input type="text" value="A"/>	13.4%
その他	12.0%

、その他がある。
（『日本国勢図会』より）

資料



V (選択問題) A, Bから1題を選んで、解答しなさい。

A 図1, 図2は同じ地域の縮尺の異なる新旧の地形図である。これを見て、あとの問いに答えなさい。

1 図1の太枠で囲んだ学校の敷地全体の面積に最も近い数値を次のア～エから選んで、その符号を書きなさい。

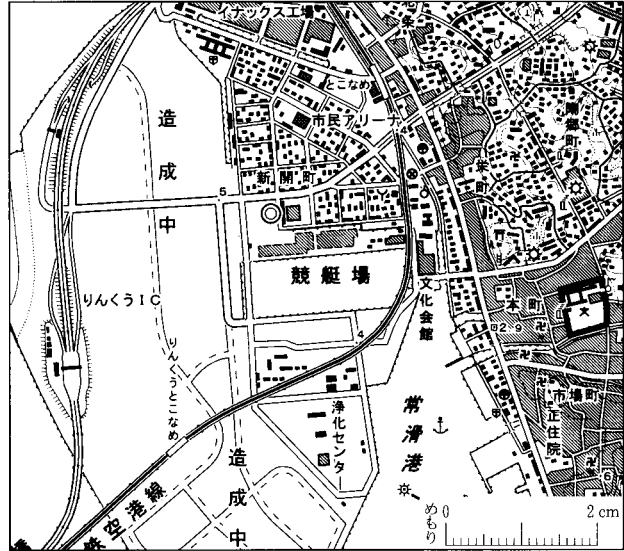
- ア 6,000 m² イ 21,000 m²
ウ 125,000 m² エ 210,000 m²

2 図1, 図2を比較し、この地域の変化について述べた文として、適切でないものを次のア～エから1つ選んで、その符号を書きなさい。

- ア 鉄道が延長され、新たに駅ができた。
イ 新しい道路とインターチェンジ(I C)ができた。
ウ 常滑港の西に浄化センターができた。
エ 市役所が「とこなめ」駅の東に移転した。

3 次の文章の ①・② に入る適切な語句を書きなさい。

図1



(2万5千分の1地形図「常滑」(2005年)を一部改変)

常滑は古くから焼き物のまちとして知られており、右の写真に見られるようなレンガ造りの ① のある工場からその歴史と伝統をうかがうことができる。図1の警察署から東へ約500 m、陶郷町付近には工場の記号があり、そのすぐ南西に ① の記号があるなど、現在も多くの製陶工場がある。また、中部国際空港が開港し、まちのようすも変わりつつある。図1には造成中の土地が見られるが、この土地は ② によってできたことが図1, 図2からわかる。




図2



(5万分の1地形図「半田」(1997年)より)

B 表1, 表2, 図を見て、あとの問いに答えなさい。

1 表1は、2005年の訪日外国人旅行者数の多い順に上位6か国・地域を並べ、1995年と比較したものである。10年間に増加した人数の多い順に並べると順位が1か所入れ替わる。順位が入れ替わる国・地域はどこどこか、a～fから選びなさい。

2 表1, 表2に関して述べた文として適切なものを、次のア～エから1つ選んで、その符号を書きなさい。

- ア 訪日外国人旅行者数において、1995年と2005年の間で増加した割合が最も高いのは、韓国である。
イ 2005年の訪日外国人旅行者数は、1985年の日本人海外旅行者数より少ない。
ウ 2005年には日本人の約10人に1人が海外旅行をしており、中国からはその人口の約100人に1人が日本を訪れている。
エ 1985年と1995年の間では、日本人海外旅行者数が急増し、訪日外国人旅行者数との差が広がったが、1995年と2005年の間ではその差が縮まっている。

3 図は最近、国内で見かけるものである。図, 表1, 表2を踏まえ、次の文章の ①・② に入る適切な語句を書きなさい。

国際化が進み、日本人海外旅行者と訪日外国人旅行者はともに増えている。近年は、 ① に属する各国・地域から近隣の日本を訪れる旅行者が著しく増え、 ① の言語でも書かれた観光ガイドや案内表示がつけられるなど、旅行者が使う言語による ② の発信や提供が、国際化に対応して行われている。

表1 上位6か国・地域(2005年)からの訪日外国人旅行者数 (万人)

国・地域	1995年	2005年
a 韓国	87	175
b 台湾	58	127
c アメリカ合衆国	54	82
d 中国	22	65
e ホンコン	10	30
f イギリス	13	22
その他を含む合計	335	673

(『観光白書』より作成)

表2 日本人海外旅行者数と訪日外国人旅行者数 (万人)

	1985年	1995年	2005年
日本人海外旅行者数	495	1,530	1,740
訪日外国人旅行者数	233	335	673

(『観光白書』より作成)

図



受検番号

番

平成19年度兵庫県公立高等学校学力検査

得点	
----	--

社会 解答用紙

I	1	(1)						
		(2)	中国とカナダの面積は、地球儀上に比べ、図1上では、() 緯度に位置するカナダが () あらわされている。					
		(3)	A		B		C	
2	(1)							
	(2)	(気候の特色)			(場所)			
	(3)	() に備えて () (場所)						
II	1	A		B		C		
	2	→ → →			3		4	
	5		6		7		8	
	9	(1)						
		(2)						
	(3)		10					
11	①		②		③			
III	1		2		3		4	
	5		6		7			
	8		9		10			
IV	1		2	(1)		(2)		
	3		4					

V (選択問題) 解答欄の左の の中に、A、Bのうち、選択した問題の符号を書きなさい。

符号	1		2	
	3	①	②	