

平成 20 年度

兵庫県公立高等学校学力検査問題

社 会

注 意

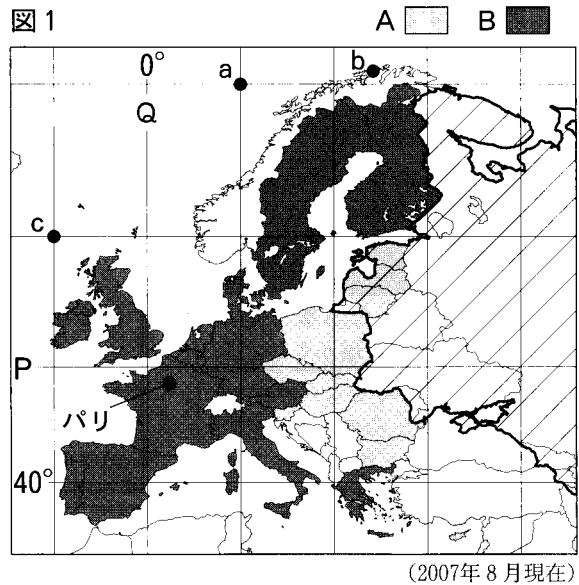
- 1 「開始」の合図があるまで開いてはいけません。
- 2 「開始」の合図で、1 ページから 5 ページまで問題が印刷されていることを確かめなさい。
- 3 解答用紙の左上の欄に受検番号を書きなさい。
- 4 答えは、すべて解答用紙の指定された解答欄に書きなさい。
- 5 問題は 4 題で、5 ページまであります。
 - (1) I, II, III は、共通問題です。全員が解答しなさい。
 - (2) IV は、選択問題です。A, B から 1 題を選んで、解答しなさい。

その際、解答欄の左の の中に、選択した問題の符号を書きなさい。
- 6 「終了」の合図で、すぐ鉛筆を置きなさい。
- 7 解答用紙と問題用紙は切り離さないで、解答用紙、問題用紙とも机の上に置いて、退室しなさい。

I 世界や日本の地理に関するあとの問いに答えなさい。

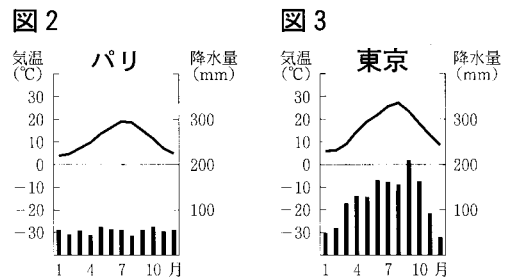
1 図1～3を見て、世界各地の位置関係や気候に関する次の問いに答えなさい。

- (1) 図1は緯線と経線を10度間隔で描いた略地図である。a地点の位置を緯度・経度を使って書きなさい。
- (2) 図1に関する次のア～エの文のうち、適切なものを1つ選んで、その符号を書きなさい。
 ア b地点は、パリと比べて冬の日照時間が長い。
 イ c地点と明石市の経度の差は、135度より大きい。
 ウ Pの緯線は東京を通る。
 エ Qの経線は南アメリカ大陸を通る。



(2007年8月現在)

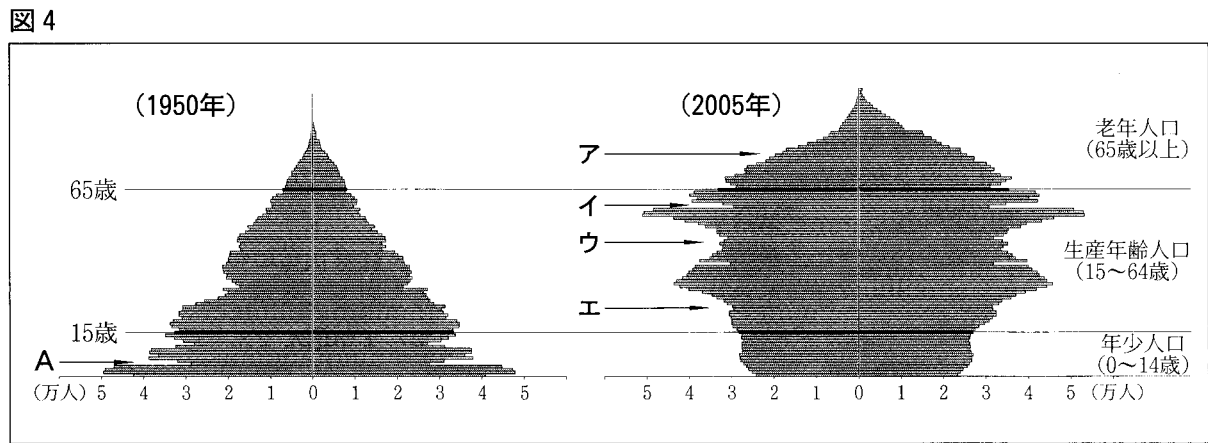
パリと東京はどちらも ① の気候帯に属している。しかし、季節ごとの降水量の違いに着目すると、パリと比べ東京では、夏と冬の降水量の ② ことがわかる。



(『理科年表 平成20年』より作成)

- (4) 図1のA、Bで示した国々は2000年以前にEUに加盟していた国々と、2001年以降に加盟した国々を示している。2001年以降に加盟した国々はA、Bのどちらか、その符号を書きなさい。
- (5) 図1の 〱 の部分は、かつて1つの国を構成していた。1991年に解体したこの国の名を書きなさい。

2 次の図4は1950年と2005年の兵庫県の人口構成を示している。図4を見て、あとの問いに答えなさい。








(『国勢調査報告』より作成)

- (1) 図4について述べた次の文章の ①, ② に入る適切な語句を書きなさい。

2つのグラフは、それぞれ縦軸は ① を、横軸は左右を ② で分けた人数を示している。これらから、県の人口構成の特色を読み取ることができる。

- (2) 1950年のグラフのAが示す部分は、出生数が減少したことをあらわしている。2005年のグラフでは1950年のAにあたる部分はどれか、ア～エから1つ選んで、その符号を書きなさい。
- (3) 日本では少子化、高齢化が進んできており、それは兵庫県にもあてはまる。兵庫県で少子化、高齢化が進んできていることを、図4の2つのグラフを比べ、「年少人口」、「老年人口」の2つのことばを使って説明しなさい。
- (4) 図4中の生産年齢人口は、産業活動などに従事する時期にあたる。2005年のグラフから予測して、2020年の生産年齢人口は、2005年と比べてどのように変化していると考えられるか、書きなさい。

II 船に関するカードA～Fと ←→ で示されたP～Sの時期に関して、あとの問いに答えなさい。なお、カードA～Fは、古いものから順に並べている。

<p>A</p>  <p>豊岡市で出土した木板に描かれた船の絵や、<u>古墳からの船形の出土品</u>などをもとに復元された船である。このような船が当時使われたと考えられる。</p>	<p>B</p>  <p>この船は、『蒙古襲来絵詞』に描かれた①元軍の船である。②幕府を支えていた御家人は、恩賞を期待して元軍に立ち向かった。</p>	<p>C</p>  <p>この船は、貿易のため海外に渡航することを許可する朱印状が与えられた船である。多くの日本人が、東南アジア各地に移住し日本町ができた。</p>
<p>D</p>  <p>大阪と江戸を往復する航路や東北・北陸地方の米などの物資を大阪や江戸に運ぶ航路が開かれ、このような船が行き来するようになった。</p>	<p>E</p>  <p>欧米諸国に派遣された岩倉使節団は、この船に乗って横浜港を出発した。この使節団には、政府の中心人物が多く加わっていた。</p>	<p>F</p>  <p>このような大型船によって原油が大量に輸入されるようになり、<u>臨海部に多くの石油化学コンビナート</u>ができた。</p>

1 カードAの下線部について、船の形以外に家や人の形、円筒形のものも出土している。古墳の上やまわりなどに並べられていた、このような土でつくられたさまざまな形をしたものは何か、書きなさい。

2 カードBに関して、次の問いに答えなさい。

(1) 下線部①の元について述べた文として適切なものを、次のア～エから1つ選んで、その符号を書きなさい。

ア この国は、イギリスとの間でおこったアヘン戦争後にいくつかの港を開いた。




イ 日本は、この国との国交を開き、勘合を用いた貿易を始めた。

ウ フビライ＝ハンが治めたこの国を、マルコ＝ポーロが訪れた。

エ この国の都にならって平城京がつけられ、鑑真が来日した。

(2) 下線部②の幕府の時代に、裁判の基準を御家人に示すため、武家社会の慣習などをまとめ、長く武家政治のよりどころとなった法律が定められた。この法律を何というか、書きなさい。

3 カードCについて、このカードにあてはまる船を次のア～ウから1つ選んで、その符号を書きなさい。



4 カードDについて、次の問いに答えなさい。

(1) 下線部について、東北・北陸地方の米などの物資を、日本海沿岸や太平洋沿岸を通過して、大阪や江戸に運ぶ航路を2つ書きなさい。

(2) 大阪と江戸を往復する航路が開かれるなど、海上輸送が盛んになったこの時代の交通や産業について述べた文章として適切なものを、次のア～エから1つ選んで、その符号を書きなさい。

ア 紡績業や製糸業などが各地で発展した。鉄道網が広がり物資の輸送が行われた。

イ 交通の要地に市が開かれ、銅銭が使われた。都市では土倉、酒屋とよばれる金融業者があらわれた。

ウ 国司が任命され、都と地方を結ぶ道路が整えられた。各地から税などとして物資が都に運ばれた。

エ 五街道が定められ、宿駅（宿場）が整備された。各地で商品作物が盛んに栽培された。

- 5 カード E に関して、次の問いに答えなさい。
- (1) 岩倉使節団が出発した年に、藩を廃し県が置かれ、政府が任命した役人が県令として地方に派遣された。このことによって、どのような国家がつけられたか、「政府」、「全国」の2つのことばを使って書きなさい。
 - (2) 岩倉使節団が派遣された主な目的は2つあった。このことに関して、次の問いに答えなさい。
 - ① 岩倉使節団が派遣された目的の1つは、不平等条約を改正することにあった。日本の関税自主権が認められていない内容を含む、日本がアメリカと結んだ条約名を書きなさい。
 - ② 岩倉使節団に加わった人物の多くは、帰国後、近代化を進めるためにさまざまな分野で活躍した。このことに着目し、この使節団が欧米諸国に派遣されたもう1つの目的を書きなさい。
- 6 カード F に関して、次の問いに答えなさい。
- (1) 下線部に関して、石油化学コンビナートが多く立地し、京浜や阪神などの工業地帯を含む、東京湾から九州北部にかけて带状にのびる工業地域を何というか、書きなさい。
 - (2) 1950年代中ごろから始まる日本の高度経済成長期のできごとを示す文として適切なものを、次のア～エから1つ選んで、その符号を書きなさい。

ア 東京でオリンピックが開催された。 イ 国連平和維持活動（PKO）協力法ができた。

ウ サンフランシスコ平和条約が結ばれた。 エ 日中平和友好条約が結ばれた。
- 7 \longleftrightarrow で示された P～S の時期に関する次の問いに答えなさい。
- (1) 平清盛が兵庫の港（大輪田泊）を整え貿易を進めたのは、P～Rのうち、いずれの時期か、その符号を書きなさい。
 - (2) Sの時期の日本の対外関係に関して述べた次のア～エの文を古い順に並べ、その符号を書きなさい。

ア ポーツマス条約が結ばれた。 イ 国際連盟に加盟した。

ウ 領事裁判権（治外法権）が撤廃された。 エ 満州事変がおこった。
- 8 船の発達に関して述べた次の文章の ①～③ に入る適切な語句を書きなさい。

帆などの発達とともに、船は次第に大きく、速度も速くなった。15世紀に、ポルトガル人やスペイン人は、直接アジアへ行く航路を開拓するため、帆をあやつり、探検に乗り出した。その後、日本人は、ポルトガル人やスペイン人と貿易を行うようになり、彼らのことを ① 人とよんだ。日本人もカード C の時期は盛んに海外に渡航した。やがて、日本人の海外渡航を禁止し貿易を制限する ② という政策がとられ、海外渡航の技術は停滞したが、カード D のように、国内航路での物資輸送は発達した。カード E の船には、イギリスで始まる産業革命において実用化された ③ が、動力として使われていた。

Ⅲ 日本の社会のしくみと私たちの生活に関するあとの問いに答えなさい。

- 1 図1は、2007年度の国の一般会計予算の歳出のうちわけである。あとの問いに答えなさい。

図1

総額 約83兆円	社会保障関係費 25.5%	A 25.3%	地方交付税交付金 17.6%	公共事業 関係費 8.4%	B 6.4%	C 5.8%	その他 11.0%
-------------	------------------	------------	-------------------	---------------------	-----------	-----------	--------------

〔『日本国勢図会 2007/08』より作成〕

- (1) 図1中のA, B, Cには、次のア～ウのいずれかがあてはまる。Aにあてはまるものを選んで、その符号を書きなさい。

ア 防衛関係費 イ 国債費 ウ 文教および科学振興費
- (2) 公共事業関係費に関して、公共事業は景気を調整するはたらきももつ。一般に、不景気のときに経済活動を活発にするためには、通貨を増やしたり、減税を行ったりするが、公共事業への支出についてはどうするか、書きなさい。
- (3) 1929年にアメリカで始まり、日本を含め各国に広がった深刻な不景気を何というか、書きなさい。
- (4) 地方交付税交付金（地方交付税）の目的について述べた次の文の に入る適切なことばを書きなさい。

地方交付税交付金は、地方公共団体の税収入の ことを目的に交付される。

- (5) 社会保障関係費に関して、社会保障制度は生存権を保障するための制度であるが、生存権を含む社会権をはじめて保障したものを、次のア～エから1つ選んで、その符号を書きなさい。

ア 大日本帝国憲法 イ 国際人権規約 ウ ワイマール憲法 エ 国際連合憲章

(6) 生存権を保障した日本国憲法第25条の一部を示した次の文の に入る適切な語句を書きなさい。

すべて国民は、健康で な最低限度の生活を営む権利を有する。

(7) 憲法では、予算の議決などで衆議院と参議院の議決が一致しないときは、最終的には衆議院の議決が優先される。それは衆議院の方が国民の意思をよく反映すると考えられているからであるが、そのように考えられている理由を書きなさい。

2 図2は、裁判中の法廷の様子をあらわしている。図2に関する次の問いに答えなさい。

(1) 図2にあらわされているのは、民事裁判、刑事裁判のどちらであるか、書きなさい。また、そう判断した理由を、図2中の で囲まれた語句を使って書きなさい。

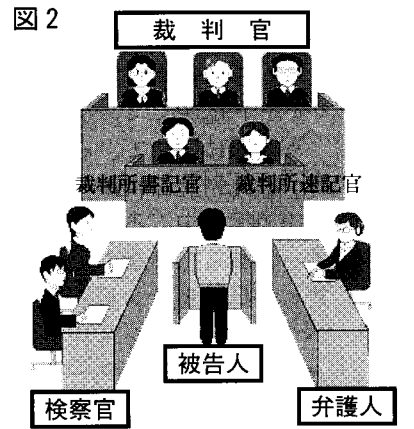
(2) 憲法で身分が保障されており、心身の故障や弾劾裁判によるほかはやめさせられないものを、図2中の で囲まれた語句から、1つ選んで書きなさい。

(3) 裁判所は、法律や国の行為が憲法に適合するかないかを判断する権限をもち、特に最高裁判所は、その最終的な決定権をもつことから「憲法の番人」ともよばれる。裁判所がもつこの権限を何というか、書きなさい。

(4) 司法制度改革の1つである裁判員制度について述べた次の文の に入る適切な語句を書きなさい。

裁判員制度とは、 が、裁判員として裁判に参加する制度である。

(5) 憲法や法律で保障された権利が侵された場合に、権利を回復したり、法に違反した者を裁いたりするのが司法の役割である。消費者としての権利も法律などによって守られているが、訪問販売などで契約をした場合、一定の期間内であれば消費者の側から契約を解除できる制度を何というか、書きなさい。



(裁判所ホームページより作成)

IV (選択問題) A, Bから1題を選んで、解答しなさい。

A 右の図は、2005年に東京都中央卸売市場で取り扱われたかぼちゃについて、主な産地の月ごとの取り扱い量と、1 kgあたりの平均価格をあらわしている。図を見て、次の問いに答えなさい。

1 日本の産地の取り扱い量が少ない時期に、ニュージーランド産の取り扱い量が多い。その理由の1つと考えられる、ニュージーランドの位置と季節の組み合わせとして適切なものを、次のア～エから1つ選んで、その符号を書きなさい。

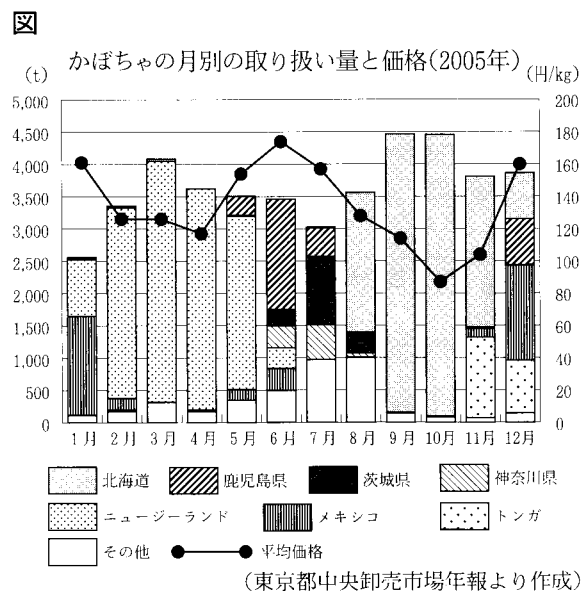
- ア 北半球に位置し、日本と季節が逆である。
- イ 北半球に位置し、日本と季節が同じである。
- ウ 南半球に位置し、日本と季節が逆である。
- エ 南半球に位置し、日本と季節が同じである。

2 図から読み取れることとして適切でないものを、次のア～エから1つ選んで、その符号を書きなさい。

- ア 1月と比べて10月は、平均価格が低く、国内の産地が占める割合が高い。
- イ 3月と比べて7月は、平均価格が高く、関東地方の産地が占める割合が高い。
- ウ 6月と比べて9月は、平均価格が低く、取り扱いが1つの産地に、より集中している。
- エ 8月と比べて12月は、平均価格が高く、外国の産地が占める割合が低い。

3 次の文の ①, ② に入る適切な語句を書きなさい。なお、 ① には都道府県名が入る。

図中の日本の産地の中で2番目に取り扱い量が多い ① からは、温暖な気候を生かして、5～7月に加えて12月にも出荷されており、1年の中でも平均価格が ② 時期に出荷されている。



(東京都中央卸売市場年報より作成)

B 図1, 図2, 写真を見て, あとの問いに答えなさい。

図1



(2万5千分の1地形図「奈良」(2006年), 「田辺」(2002年) を一部改変)

写真


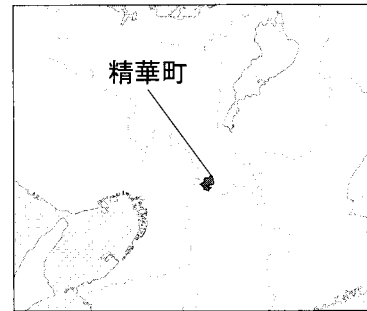


図2 精華町の位置



- 1 上の写真は, 図1のA~Dのいずれかの地点から矢印の方向を向いて写したものである。どの地点から写したのか, A~Dから1つ選んで, その符号を書きなさい。
- 2 図1から読み取れることについて述べた文として適切でないものを, 次のア~エから1つ選んで, その符号を書きなさい。
 ア P地点の西に消防署がある。 イ Q地点の標高はP地点より40 m 以上高い。
 ウ 鉄道の駅が2つある。 エ 「けいはんな記念公園」の北に隣接して田が広がっている。
- 3 次の文章の ①, ② に入る適切な語句を書きなさい。なお, ② には都道府県名が入る。

図1のA地点の東の建物は京都府精華町役場である。図1の東部を通る鉄道の周辺は, 集落や農地が広がる平地であるのに対して, 北西部から南へ通る, インターチェンジ (IC) のある道路の周辺は, 住宅地や森林が広がるなだらかな ① となっている。大都市の郊外では山地や台地, ① などを開発して住宅地などがつくられてきたが, 精華町でも近年, 住宅地が開発されて人口が急増してきた。精華町から京都府外への通勤・通学者も多く, その通勤・通学先の上位1, 2位は, 図2中の府県の中でも特に職場や学校が多い ② と, 精華町の南に接する奈良県である。

受検番号 番

平成20年度兵庫県公立高等学校学力検査

得点	
----	--

社会解答用紙

I	1	(1) (緯度) 度 (経度) 度				
		(2)	(3) ①	②		
		(4)	(5)			
	2	(1) ①	②	(2)		
		(3)				
		(4)				
II	1	2	(1)	(2)	3	
	4	(1)			(2)	
	5	(1)				
		(2) ①	②			
	6	(1)	(2)			
	7	(1)	(2)	→	→	→
	8	①	②	③		
	III	1	(1)	(2)	(3)	
(4)			(5)			
(6)			(7)			
2		(1)	(判断した理由)			
		(2)	(3)	(4)		
		(5)				

IV (選択問題) 解答欄の左の の中に, A, Bのうち, 選択した問題の符号を書きなさい。

符号	1			2		
	3	①		②		