



平成 23 年 度

兵庫県公立高等学校学力検査問題

社 会

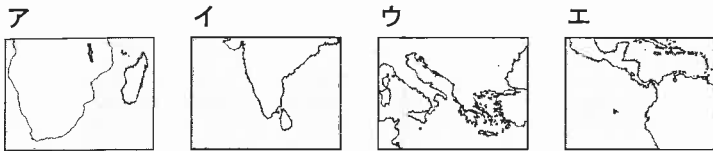
注 意

- 1 「開始」の合図があるまで開いてはいけません。
- 2 「開始」の合図で、1 ページから 4 ページまで問題が印刷されていることを確かめなさい。
- 3 解答用紙の左上の欄に受検番号を書きなさい。
- 4 解答用紙の  の得点欄には、何も書いてはいけません。
- 5 答えは、すべて解答用紙の指定された解答欄に書きなさい。
- 6 問題は 4 題で、4 ページまであります。
 - (1) I, II, III は、共通問題です。全員が解答しなさい。
 - (2) IV は、選択問題です。A, B のうちいずれかを選んで、解答しなさい。
その際、選択した問題の解答欄の左にある  の中に、必ず○印を付けなさい。
- 7 「終了」の合図で、すぐ鉛筆を置きなさい。
- 8 解答用紙は、机の上に置いて、退室しなさい。

I 世界や日本の地理に関するあとの問いに答えなさい。

1 オーストラリアとその周辺に関する次の問いに答えなさい。

(1) 図1中のBの都市の緯度と同じ緯度が含まれている図を、次のア～エから1つ選んで、その符号を書きなさい。



(2) 図1中のP地点は、イギリスのロンドンから見て地球の正反対側にあたる。P地点から経線に沿ってロンドンを通り、地球を1周した場合、通過する大陸として適切でないものを、次のア～エから1つ選んで、その符号を書きなさい。

ア ユーラシア大陸 イ アフリカ大陸 ウ 南アメリカ大陸 エ 南極大陸

(3) 図1中のZで囲んだ部分は、地震や火山が多く、日本列島と同じ造山帯に属している。この造山帯の名称を書きなさい。

(4) 次の文章の に入る適切な数字を書きなさい。

都市Cを9月4日午後2時55分に出発した列車が、9月7日午前9時10分にパースに到着した(いずれも現地の時間)。所要時間は68時間15分であった。このことから、都市Cとパースには 時間の時差があることがわかる。

図1

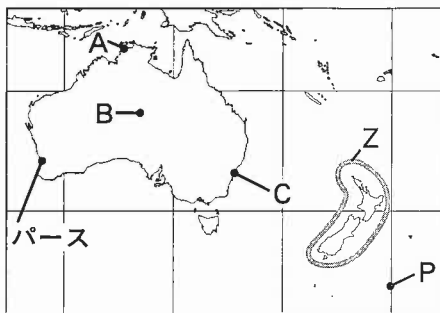
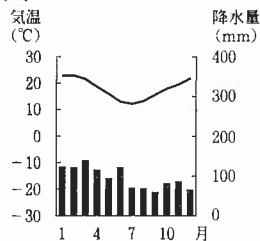


図2



(『理科年表 平成23年』より作成)

(5) 図2のグラフは図1中のA～Cのいずれかの都市の気温と降水量を示している。どの都市にあたるか、A～Cから1つ選んで、その符号を書きなさい。

(6) 表1はサウジアラビア、中国、アメリカ合衆国、オーストラリアの日本への輸出総額と輸出品の割合を示している。オーストラリアにあたるものを、表1中のア～エから1つ選んで、その符号を書きなさい。

表1

(2009年)

国	日本への輸出総額 (億円)	日本への輸出品の割合 (%)		
		第1位	第2位	第3位
ア	114,360	機械類 (37.9)	衣類 (17.1)	がん具 (3.3)
イ	55,123	機械類 (28.6)	航空機類 (6.7)	とうもろこし (6.2)
ウ	32,423	石炭 (42.4)	液化天然ガス (15.8)	鉄鉱石 (13.7)
エ	27,197	原油 (89.2)	液化石油ガス (5.3)	石油製品 (4.3)

(『日本国勢協会』より作成)

2 関東地方に関する次の問いに答えなさい。

(1) 図3中のA～Eは県庁所在地を示している。A～Eのうち、都市名が県名と同じものを1つ選んで、その符号を書きなさい。

(2) 図3は、1960年から2007年にかけての各都県の人口増加数を示しており、表2は図3の各都県に関する4項目の数値を示したものである。図3、表2から読み取れることを述べた文として適切なものを、次のア～エから1つ選んで、その符号を書きなさい。

- ア 人口増加数が最も多いのは東京都である。
- イ 海水浴場が最も多い都県は人口が2倍以上に増えた。
- ウ 100世帯あたりの乗用車保有台数が最も多い都県の2007年の人口は360万人以上である。
- エ 100世帯あたりの乗用車保有台数が100台未満の都県は、1960年の人口が300万人未満であった。

(3) 埼玉県にあたるものを、表2中のa～dから1つ選んで、その符号を書きなさい。

(4) 表2中のXにあたる項目として適切なものを、次のア～エから1つ選んで、その符号を書きなさい。

- ア 耕地面積
- イ 小売業年間販売額
- ウ 森林面積
- エ 工業出荷額

図3

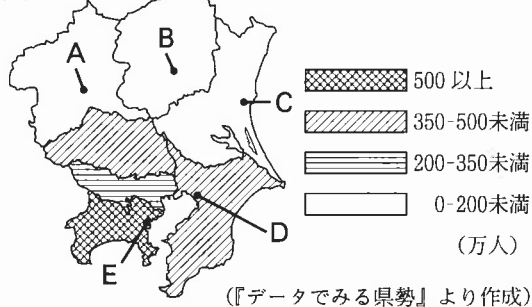


表2

都県	1960年	2007年		
	人口 (千人)	100世帯あたり乗用車保有台数(台)	海水浴場 (施設数)	X (兵庫県を100とした割合)
群馬	1,578	170.7	0	52
a	1,514	166.4	0	59
b	2,047	164.9	16	81
c	2,431	108.0	0	95
千葉	2,306	106.4	76	91
d	3,443	80.5	28	128
東京	9,684	52.9	35	69

(『データでみる県勢』より作成)

II 各時代に定められた法令・制度を見ると、その時代の政治の方針や社会のようすを知ることができる。次の表は、社会科の授業で各時代のおもな法令・制度をまとめたものである。あとの問いに答えなさい。

1 表中の下線部に関する次の問いに答えなさい。

(1) 下線部 a は、儒教や仏教の考えを取り入れた、役人の心得を示したものである。その一部を示した次の資料の [] に入る適切な語句を、漢字1字で書きなさい。

一に曰く、[] をもって貴しとなし、さからうことなきを宗とせよ。
二に曰く、あつく三宝を敬え。三宝とは仏・法・僧なり。

(2) 下線部 b は、御家人の権利や義務などの武士の慣習をまとめたものである。この法令を定めた北条泰時が、当時ついていた地位として適切なものを、次のア～エから1つ選んで、その符号を書きなさい。

ア 摂政 イ 関白 ウ 執権 エ 管領

(3) 下線部 c は、大名の統制のために定められたものである。この法令には、大名は1年おきに江戸と領地に住む制度が定められた。この制度の名称を書きなさい。

(4) 下線部 d は、25歳以上の男子に選挙権をあたえるものである。普通選挙制や政党政治の実現を求め、吉野作造が提唱した考え方を何というか、漢字4字で書きなさい。

(5) 下線部 e は、1946年11月3日に公布されたものである。この翌年、日本国憲法の精神にのっとり、小・中学校を義務教育とし、男女共学などについて規定した法律の名称を書きなさい。

2 表を見て、日本での土地に関する次の問いに答えなさい。

(1) 表中の (X) に関して、次の文章の [①] , [②] に入る適切な語句を、あとのア～オから1つずつ選んで、その符号を書きなさい。

人口が増加し、[①] が不足してきた。そこで朝廷は、743年にこの法を定めた。その結果、貴族や寺社などが開墾を進め、平安時代には私有地である [②] が広がった。

ア 調 イ 庸 ウ 公領 エ 荘園 オ 口分田

(2) 表中の (Y) は、課税の基準を収穫高から地価にし、税の納め方を米から現金に変更する改革である。この地租改正の目的を、財政の面から、解答欄のことに合わせて書きなさい。

(3) 次のア～エの文を、年代の古いものから順に並べ、その符号を書きなさい。

ア 全国の田畑の面積、収穫高、耕作者を調べ、検地帳に記した。
イ 各藩主が支配していた土地(版)と人民(籍)を天皇に返させた。
ウ 御家人に先祖伝来の領地の支配を認め、てがらに依じて領地や守護・地頭の職をあたえた。
エ 地主から土地を強制的に買い上げ、小作人に安く売りわたした結果、多くの自作農が生まれた。

3 表中の I, II, III の時期のできごとについて次の問いに答えなさい。

(1) I について、この時期には唐の文化をもとにしながら、日本の風土や生活に合った文化が生まれた。池や築山の庭がある貴族の住宅の様式を何というか、書きなさい。

(2) II について、この時期の世界のできごとに関する次のア～エの文を、年代の古いものから順に並べ、その符号を書きなさい。

ア チンギス=ハンがモンゴル民族を統一した。 イ アメリカで独立宣言が発表された。
ウ イギリスと中国との間でアヘン戦争がおこった。 エ バスコ=ダ=ガマがインドに到達した。

(3) III について、次の資料に関して述べたあとの文章の [①] , [②] に入る適切な語句を書きなさい。

一、広ク会議ヲ興シ万機公論ニ決スヘシ 一、智識ヲ世界ニ求メ、大ニ皇基ヲ振起スヘシ

上の資料は [①] の一部である。1868年に新政府はこの [①] を出し、新しい政治の方針を内外に明らかにした。新政府はこの年、江戸を東京と改称し、年号を改め、改革をはじめた。こうして幕末以来、政治・経済・社会の近代化をめざして進められた一連の改革を [②] という。

表

時代	おもな法令・制度	
飛鳥	a <u>十七条の憲法</u>	
奈良	墾田永年私財法 (X)	
平安		I
鎌倉	b <u>御成敗式目</u>	
室町		II
安土・桃山		
江戸	c <u>武家諸法度</u>	
明治	地租改正 (Y)	III
大正	d <u>普通選挙制</u>	
昭和	e <u>日本国憲法</u>	

Ⅲ 日本の政治や経済のしくみと私たちの生活に関するあとの問いに答えなさい。

1 「トライやる・ウィーク」(社会体験活動)の感想文を読んで、あとの問いに答えなさい。

《特別養護老人ホームで活動したAさん》
 施設には、入所している人が生活しやすいようにa さまざまな工夫がしてありました。車いすに乗っている人と話をする時は、できるだけ同じ目線で話をするように心がけました。

《スーパーマーケットで活動したBさん》
 野菜や果物を並べたり、b 商品に値引きシールをはったりしました。最初は、お客さんが来ても「いらっしゃいませ」と大きな声で言えませんでした。慣れるにつれて言えるようになりました。

- (1) 下線部aに関して、特別養護老人ホームなどのトイレには、右の写真のような工夫が見られる。このように、高齢者や障害のある人が、安全・快適に社会生活をおくることができるよう、身体的、精神的、社会的な障壁を取り除こうという考え方を何というか、カタカナ6字で書きなさい。
- (2) 社会保障制度の中で、社会の高齢化に対応するため、2000年4月、国が新たに導入した社会保険として適切なものを、次のア～エから1つ選んで、その符号を書きなさい。

写真



ア 医療保険 イ 介護保険 ウ 雇用保険 エ 年金保険

- (3) Aさんは活動を通して、すべての人が平等なあつかいを受けることの大切さを学んだ。次の文は、平等権を定めた日本国憲法第14条の一部である。□に入る適切な語句を書きなさい。

すべて国民は、□に平等であって、人種、信条、性別、社会的身分又は門地により、政治的、経済的又は社会的関係において、差別されない。

- (4) 下線部bに関して、需要と供給の関係について述べた次の文の□①～□③に入る語句の組み合わせとして適切なものを、あとのア～エから1つ選んで、その符号を書きなさい。

□① 量が □② 量を上回っているため、値引きシールをはることで、□③ 量を増加させる。

ア ① 需要 ② 供給 ③ 需要 イ ① 需要 ② 供給 ③ 供給
 ウ ① 供給 ② 需要 ③ 需要 エ ① 供給 ② 需要 ③ 供給

- (5) 市場での価格は需要と供給の関係で変化する。しかし、生産の集中が進むと競争は弱まり、少数の企業が足なみをそろえて価格を決めることがある。このような価格を何というか、書きなさい。
- (6) Bさんは活動を通して、スーパーマーケットが買物客を増やすためにさまざまな努力をしていることを学んだ。私企業が経済活動をしている目的を、「資本」、「利潤」の2つのことばを使って、解答欄のことばに合わせて書きなさい。

2 国や地方の政治のしくみについて示した図1と図2を見て、次の問いに答えなさい。

- (1) 図1と図2の①、②には、それぞれ同じ語句があてはまる。①、②にあてはまる語句として適切なものを、次のア～エから1つずつ選んで、その符号を書きなさい。

ア 違憲審査 イ 解散 ウ 任命 エ 不信任決議

- (2) 内閣の仕事として、日本国憲法に定められているものを、次のア～エから1つ選んで、その符号を書きなさい。
- ア 条約を締結する。 イ 弾劾裁判所を設置する。
 ウ 法律案を議決する。 エ 国政調査権を行使する。

- (3) 内閣が、国会の信任にもとづいて成立し、国会に対して連帯して責任を負う制度を何というか、書きなさい。
- (4) 法律の範囲内で地方議会が制定し、その地方公共団体にだけ適用されるきまりを何というか、書きなさい。
- (5) 地方自治について述べた次の文章の□①、□②に入る適切な語句を書きなさい。

図1 国会と内閣の関係

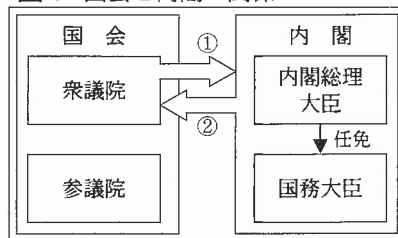
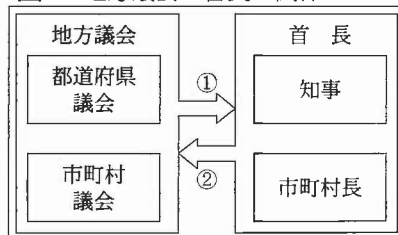


図2 地方議会と首長の関係



地方自治を発展させるには、住民が積極的に政治に参加し、ともに地域をつくっていく姿勢をもつことが大切である。近年、住民が□①公開制度を活用して行政を監視したり、住民と行政が話し合っ
 てまちづくりの計画を作成したりする動きが広がっている。一方、1999年には□②を推進するために□②一括法が制定された。これは、国と地方公共団体の関係を対等とするために、国の権限を地方に移していこうとするものである。

IV (選択問題) A, Bのうちいずれかを選んで、解答しなさい。

A 写真, 資料, 図を見て, あとの問いに答えなさい。

写真



資料

島根県に位置するこの地域では, ①に②方面から吹く季節風をさえぎるため, 写真のように北西に防風林を植えている家屋が多く見られる。

1 資料中の ①, ②に入る適切な語句を, 次のア〜キから1つずつ選んで, その符号を書きなさい。

- ア 春 イ 夏 ウ 秋 エ 冬
オ 太平洋 カ 日本海 キ 瀬戸内海

2 図から読み取れることについて述べた文として適切なものを, 次のア〜エから1つ選んで, その符号を書きなさい。

- ア ならかな丘陵に田が広がっている。
イ 家屋はすべて道路沿いに密集している。
ウ 2つの郵便局は直線距離で3 km以上離れている。
エ 工場の西南西に畑があり, 消防署の南に果樹園がある。

3 上の写真は, 図中の a~dのいずれかの地点から矢印の方向を向いて写したものである。どの地点から写したのか, a~dから1つ選んで, その符号を書きなさい。

B 米, 野菜, 果実, 肉類(鯨肉を除く)の4品目について日本の輸入量の推移を示した図1と, 日本の農業総産出額の内訳を示した図2を見て, あとの問いに答えなさい。

1 次の文は, 図1中の a~dのいずれかの時期について述べたものである。適切な時期を a~dから1つ選んで, その符号を書きなさい。

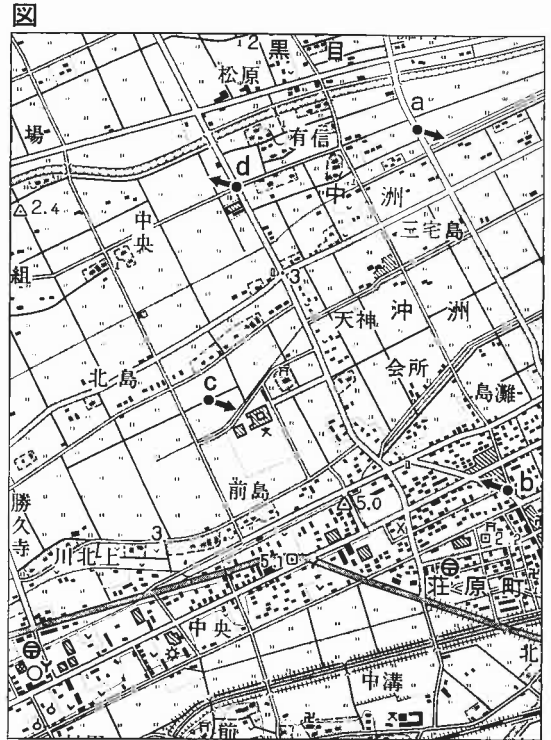
日本はアメリカ合衆国との貿易摩擦を解消するため, 輸入数量制限を撤廃したこともあり, 4品目ともこの時期に輸入量が2倍以上に増加した。

2 図1と図2から読み取れることについて述べた文として適切なものを, 次のア〜エから1つ選んで, その符号を書きなさい。

- ア 1960年と2008年を比べると, 果実は輸入量, 産出額ともに最も増えている。
イ 1975年と2008年を比べると, 野菜の輸入量は3倍以上となり, 2008年の産出額は野菜が米より多い。
ウ 2008年の輸入量は米と野菜の合計が果実より多く, 2008年の産出額も米と野菜の合計が果実より多い。
エ 2008年の輸入量は米が最も少なく, 2008年の米の産出額は1960年の米の産出額より減っている。

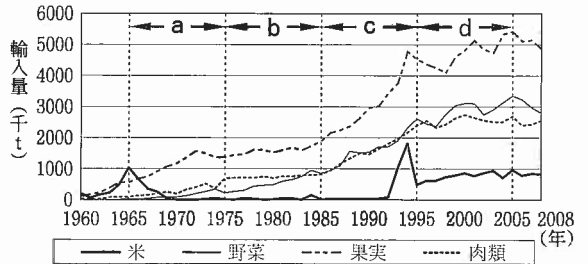
3 次の文章の ①, ②に入る語句として適切なものを, 図1に示した4品目から1つずつ選んで, その品目名を書きなさい。

日本では, 高度経済成長以降, 人々の食生活が大きく変化した。生活が豊かになるとともに, 食生活の洋風化が急速に進み, しだいに食生活が多様化していくにつれて, ①の消費量が減り, ②や乳製品の消費量が増えた。その結果, 図2において, 2008年の農業総産出額の内訳を見ると, ②を含んだ項目が最も高い割合を占めている。



(2万5千分の1地形図「出雲今市」(2002年)を一部改変)

図1 輸入量の推移



(農林水産省『食料需給表』より作成)

図2 農業総産出額の内訳

年	農業総産出額の内訳			
	米	野菜	果実	畜産
1960年 19千億円	47.4%	9.1	18.2	19.3
2008年 85千億円	22.5%	24.9	8.8	30.5

(農林水産省『生産農業所得統計』より作成)

受検番号

平成23年度兵庫県公立高等学校学力検査

社会解答用紙

得点

I 〔 点 〕	1 〔 点 〕	(1)	
		(2)	
		(3)	造山帯
		(4)	時間
		(5)	
		(6)	
	2 〔 点 〕	(1)	
		(2)	
		(3)	
		(4)	

II 〔 点 〕	1 〔 点 〕	(1)		
		(2)		
		(3)		
		(4)		
		(5)		
	2 〔 点 〕	(1)	①	
			②	
		(2)	政府の ため。	
	3 〔 点 〕	(3)	→	→
		(1)		
		(2)	→	→
		(3)	①	
			②	

III 〔 点 〕	1 〔 点 〕	(1)		
		(2)		
		(3)		
		(4)		
		(5)		
	2 〔 点 〕	(6)	私企業は、 ことを目的にしている。	
		(1)	①	
			②	
		(2)		
		(3)		
(4)				

IV (選択問題) A, Bのうち, 選択した問題の解答欄の左にある □ の中に, 必ず○印を付けなさい。

□	A 〔 点 〕	1 〔 点 〕	①	
			②	
		2 〔 点 〕		
		3 〔 点 〕		

□	B 〔 点 〕	1 〔 点 〕		
		2 〔 点 〕		
		3 〔 点 〕	①	
②				