

平成 24 年 度

兵庫県公立高等学校学力検査問題

社 会

注 意

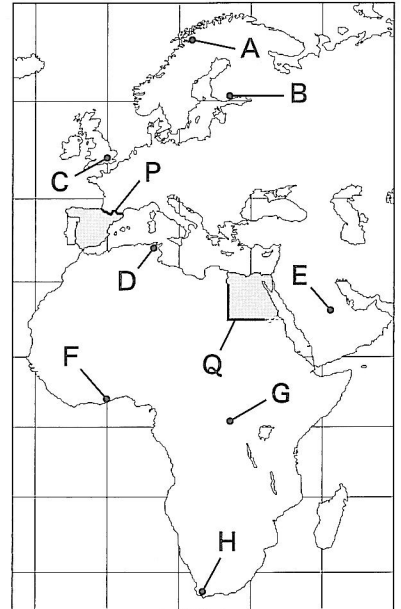
- 1 「開始」の合図があるまで開いてはいけません。
- 2 「開始」の合図で、1 ページから 6 ページまで問題が印刷されていることを確かめなさい。
- 3 解答用紙の左上の欄に受検番号を書きなさい。
- 4 解答用紙の  の得点欄には、何も書いてはいけません。
- 5 答えは、すべて解答用紙の指定された解答欄に書きなさい。
- 6 問題は 4 題で、6 ページまであります。
  - (1) I, II, III は、共通問題です。全員が解答しなさい。
  - (2) IV は、選択問題です。A, B のうちいずれかを選んで、解答しなさい。  
その際、選択した問題の解答欄の左にある  の中に、必ず○印を付けなさい。
- 7 「終了」の合図で、すぐ鉛筆を置きなさい。
- 8 解答用紙は、机の上に置いて、退室しなさい。

I 世界や日本の地理に関するあとの問いに答えなさい。

1 ヨーロッパとアフリカ周辺に関する次の問いに答えなさい。

- (1) 世界の三大洋のうち、図1中の都市Fの地球の正反対側にあたる地点が位置する大洋の名称を書きなさい。
- (2) 図1中の都市A、C、D、Gのうち、東京の緯度に最も近い緯度にある都市を1つ選んで、その符号を書きなさい。
- (3) 図1中の都市A、C、D、Hに関して述べた文として適切なものを、次のア～エから1つ選んで、その符号を書きなさい。  
 ア Aでは、6月には太陽が地平線上にのぼらない日が続く。  
 イ Cでは、12月より6月の方が昼の時間が長い。  
 ウ Dは、Aと比べて12月の昼の時間が短い。  
 エ Hでは、6月より12月の方が昼の時間が短い。

図1



(4) 写真①～④は熱帯、乾燥帯、温帯、亜寒帯(冷帯)のいずれかの気候の特徴的な風景の1つをあらわしている。図1中の都市B、Eとそれぞれ同じ気候の写真の組み合わせとして適切なものを、次のア～カから1つ選んで、その符号を書きなさい。

- ア B-① E-②    イ B-① E-③  
 ウ B-② E-④    エ B-③ E-①  
 オ B-③ E-④    カ B-④ E-①

(5) 図1中の太線で示したP、Qは、国境線の一部である。国境線に関して述べた次の文章の ① ～ ③ に入る組み合わせとして適切なものを、あとのア～エから1つ選んで、その符号を書きなさい。

国境線には、Pのような ① を利用した国境線や、Qのような ② を利用した国境線などがある。このP、Qのうち、③ は、この地域が植民地として支配されたときに引かれた境界線のなごりである。

- ア ① 自然地形      ② 緯度や経度      ③ P  
 イ ① 自然地形      ② 緯度や経度      ③ Q  
 ウ ① 緯度や経度      ② 自然地形          ③ P  
 エ ① 緯度や経度      ② 自然地形          ③ Q

(6) 表1は地域別の人口増加率、1人あたりエネルギー消費量、日本からの輸出額を示しており、a～cはアジア、ヨーロッパ、アフリカのいずれかである。ヨーロッパとアフリカの組み合わせとして適切なものを、次のア～カから1つ選んで、その符号を書きなさい。

- ア ヨーロッパーa      アフリカーb  
 イ ヨーロッパーa      アフリカーc  
 ウ ヨーロッパーb      アフリカーa  
 エ ヨーロッパーb      アフリカーc  
 オ ヨーロッパーc      アフリカーa  
 カ ヨーロッパーc      アフリカーb

2 中部地方に関する次の問いに答えなさい。

(1) 図2は中部地方の水田率(耕地面積のうち田が占める割合)、図3は工業出荷額を示している。水田率が40%以上であり、工業出荷額が4兆円未満の県のうち、県名と県庁所在地の都市名が異なる県を1つ選んで、その県庁所在地の都市名を書きなさい。

写真


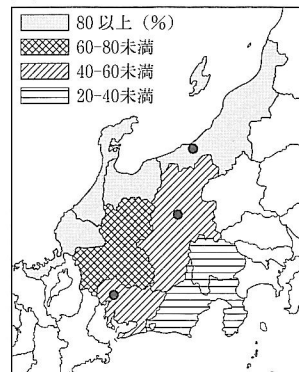


表1

地域	人口増加率(%) (2009～10年)	1人あたりエネルギー消費量(kg) (石油に換算した場合) (2007年)	日本からの輸出額(十億円) (2009年)
a	2.32	353	886
b	1.05	1,054	31,391
c	0.18	3,207	7,943

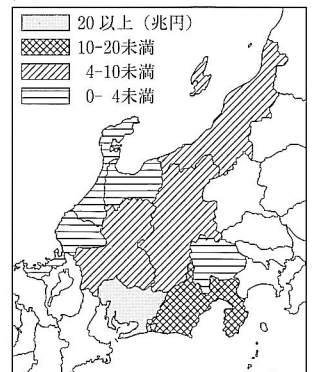
(『世界国勢図会』などより作成)

図2 水田率 (2009年)



(『日本の統計』より作成)

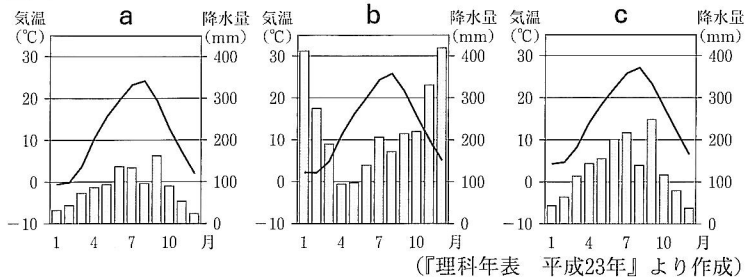
図3 工業出荷額 (2009年)



(『データでみる県勢』より作成)

(2) 図4のa～cのグラフは、図2中に●で示したいずれかの都市の気温と降水量を示している。次の文①～⑥のうち、cのグラフにあたる都市について述べた文の組み合わせとして適切なものを、あとのア～カから1つ選んで、その符号を書きなさい。

図4



- ① 3つの都市の中で1月の気温が最も高い。
- ② 3つの都市の中で8月の気温が最も低い。
- ③ 3つの都市の中で12月の気温が最も低い。
- ④ 3つの都市の中で9月の降水量が最も多い。
- ⑤ 3つの都市の中で12月の降水量が最も多い。
- ⑥ 3つの都市の中で年間の降水量が最も多い。

ア ①・④    イ ①・⑤    ウ ②・③  
 エ ②・⑥    オ ③・④    カ ⑤・⑥

(3) 表2は中部地方の各県に関する4項目の数値を示したものである。表2中のある県の野菜の栽培の工夫について述べた次の文の ① ～ ③ に入る語句の組み合わせとして適切なものを、あとのア～カから1つ選んで、その符号を書きなさい。

表2

県名	平均高度 (m) (2000年)	面積 (km <sup>2</sup> ) (2009年)	耕地面積 (km <sup>2</sup> ) (2009年)	米の産出額 (億円) (2009年)
新潟	401	12,584	1,749	1,509
富山	571	4,248	595	455
石川	299	4,186	434	292
福井	348	4,190	410	290
山梨	913	4,465	251	66
長野	1,033	13,562	1,113	456
岐阜	698	10,621	583	241
静岡	448	7,780	714	198
愛知	205	5,165	797	323

(『データでみる県勢』などより作成)

図4のaのグラフにあたる都市がある ① 県は、平均高度が他県に比べて ② , 夏の ③ な気候を利用して野菜を栽培し、出荷時期を他の地域とずらす工夫がみられる。

ア ①岐阜 ②高く ③冷涼    イ ①岐阜 ②低く ③温暖    ウ ①長野 ②高く ③冷涼  
 エ ①長野 ②高く ③温暖    オ ①愛知 ②低く ③冷涼    カ ①愛知 ②低く ③温暖

(4) 図2, 図3, 表2から読み取れることを述べた文として適切なものを、次のア～エから1つ選んで、その符号を書きなさい。

- ア 中部地方の中で耕地面積が上位の3県は、いずれも水田率が80%以上である。
- イ 太平洋に面した2県はともに、工業出荷額が10兆円以上である。その2県はともに、県全体の面積のうち耕地面積が占める割合が10%以下である。
- ウ 内陸に位置する3県は、平均高度が中部地方の中で上位の3県である。その3県はすべて、米の産出額が中部地方の中で下位の3県となっている。
- エ 日本海に面した4県は、いずれも水田率が80%以上である。その4県の中には、中部地方の中で、田の面積が最も大きく米の産出額が1位の県がある。

II 社会科の授業で、日本と中国との交流について調べた。あとの問いに答えなさい。

1 次のカードA～Eは、古代から近世における日本と中国とのかかわりについてまとめたものである。あとの問いに答えなさい。

<b>A</b>	武士としてはじめて太政大臣となった <input style="width: 50px;" type="text"/> は、瀬戸内海の航路を整え、兵庫（現在の神戸市）の港を整備し、中国との貿易を積極的に行った。
<b>B</b>	中国では国内が乱れ、9世紀にはその勢力が急速におとろえたため、日本は <input style="width: 50px;" type="text"/> を停止（中止）した。
<b>C</b>	幕府は、中国からの要求に応じて、倭寇を禁じるとともに、 <input style="width: 50px;" type="text"/> という合い札（割符、割札）を正式な貿易船にあたえた。

D 幕府は、キリスト教の禁止を徹底することなどを目的とし、日本人の海外渡航と海外からの帰国を禁止したが、中国船と  船のみに長崎での貿易を許した。

E 中国の歴史書によると、邪馬台国の女王である  が魏に使いを送り、皇帝から「親魏倭王」の称号や銅鏡などをさずけられた。

- (1) カードAに関して、次の問いに答えなさい。
- ① 文中の  に入る適切な人物名を書きなさい。
  - ② このカードAとカードCの時期の中国の国名の組み合わせとして適切なものを、次のア～エから1つ選んで、その符号を書きなさい。  
ア A—明 C—宋    イ A—宋 C—隋    ウ A—宋 C—明    エ A—隋 C—宋

- (2) カードBに関して、次の問いに答えなさい。
- ① 文中の  に入る、中国の制度や文化を取り入れるために送られた使節を何というか、書きなさい。
  - ② この使節とともに中国に渡り、帰国後、比叡山に延暦寺を建てた人物とその人物が広めた教えの組み合わせとして適切なものを、次のア～エから1つ選んで、その符号を書きなさい。  
ア 人物—空海    教え—真言宗    イ 人物—最澄    教え—天台宗  
ウ 人物—空海    教え—天台宗    エ 人物—最澄    教え—真言宗

- (3) カードCに関して、次の問いに答えなさい。
- ① 文中の  に入る適切な語句を書きなさい。
  - ② この頃の文化について述べた文として適切なものを、次のア～エから1つ選んで、その符号を書きなさい。  
ア 田楽や猿楽などの芸能が、観阿弥と世阿弥によって能（能楽）として大成された。  
イ 人形浄瑠璃や歌舞伎が人気を集め、町人の風俗などをえがいた浮世絵が生まれた。  
ウ 日本の風物をえがいた大和絵や漢字から発達したかな文字の使用が広まった。  
エ 合戦のようすなどを、漢字とかなをまじえた力強い文章でえがいた軍記物が生まれた。




- (4) カードDに関して、次の問いに答えなさい。
- ① 文中の  に入る適切な国名を書きなさい。
  - ② 幕府は当初、キリスト教を黙認していた。その理由を、「利益」という語句を使って、解答欄のことばに合わせて書きなさい。

- (5) カードEに関して、次の問いに答えなさい。
- ① 文中の  に入る適切な人物名を書きなさい。
  - ② このカードのできごとよりも前におこったできごとを、次のア～エから1つ選んで、その符号を書きなさい。  
ア 日本は百済を助けるために大軍を送ったが、新羅・唐の連合軍に白村江で敗れた。  
イ 倭王が5代にわたって、中国の南朝に使いを送った。  
ウ 中国や朝鮮半島から渡来人と呼ばれる人々が日本に移り住み、漢字や仏教などを伝えた。  
エ 倭の奴国の王が漢（後漢）に使いを送り、皇帝から金印をさずけられた。

- (6) カードA～Eを年代の古いものから順に並べたとき、2番目と4番目にあたるカードの組み合わせとして適切なものを、次のア～カから1つ選んで、その符号を書きなさい。

ア 2番目—A    4番目—B    イ 2番目—A    4番目—C    ウ 2番目—B    4番目—A  
エ 2番目—B    4番目—C    オ 2番目—C    4番目—A    カ 2番目—C    4番目—B

2 近代以降の日本と中国とのかかわりについて、次の図1～図3を見て、あとの問いに答えなさい。



- (1) 図1に関して述べた次の文章の  に入る適切な語句を書きなさい。

図1は、何度も日本へ亡命し、神戸で「大アジア主義」という題で講演した人物である。1911年、軍隊の反乱をきっかけに、清を打倒するための革命がはじまった。彼は、近代的な国家をつくろうと革命を指導し、清をたおした。これを  という。

- (2) 図2に関して述べた次の文章の  ①,  ② に入る組み合わせとして適切なものを、あとのア～エから1つ選んで、その符号を書きなさい。

図2は、北京郊外の  ① のようすである。1937年7月にこの  ① 付近で、日中両国軍の武力衝突がおこった。この武力衝突をきっかけに、 ② がはじまった。

- ア ① 柳条湖 ② 日中戦争      イ ① 盧溝橋 ② 日中戦争  
ウ ① 柳条湖 ② 満州事変      エ ① 盧溝橋 ② 満州事変

- (3) 図3に関して述べた次の文章の  に入る適切な語句を書きなさい。

日本は、1972年に中華人民共和国と共同声明を発表し、国交を正常化した。また、1978年には  条約が結ばれ、経済や文化の面で両国の交流が深まった。図3は、この条約の調印式のようすである。

III 日本の政治や経済のしくみに関するあとの問いに答えなさい。

- 1 次の各文は、国会に関する日本国憲法の一部である。あとの問いに答えなさい。

- ・ a 国会は、衆議院及び参議院の両議院でこれを構成する。(第42条)
- ・ 衆議院が  されたときは、 の日から40日以内に、衆議院議員の総選挙を行ひ、その選挙の日から30日以内に、国会を召集しなければならない。(第54条①)
- ・ b 衆議院で可決し、参議院でこれと異なった議決をした法律案は、衆議院で出席議員の3分の2以上の多数で再び可決したときは、法律となる。(第59条②)

- (1) 下線部 a に関して述べた次の文の①～④のうち、正しいものの組み合わせとして適切なものを、次のア～カから1つ選んで、その符号を書きなさい。

- ① 衆議院と参議院は、内閣不信任の決議を行うことができる。  
② 参議院議員の任期は6年であり、3年ごとに議員の半数が改選される。  
③ 国務大臣は内閣総理大臣が任命し、その全員が国会議員でなければならない。  
④ 国会は、内閣が外国と結ぶ条約を承認する。

- ア ①・②    イ ①・③    ウ ①・④    エ ②・③    オ ②・④    カ ③・④

- (2) 文中の  に共通して入る適切な語句を書きなさい。

- (3) 下線部 b に関して、衆議院と参議院が異なった議決をした場合、意見を調整するために開かれることがある機関を何というか、書きなさい。

- (4) 衆議院と参議院が異なった議決をした場合、衆議院の優越が認められているものとして適切なものを、次のア～エから1つ選んで、その符号を書きなさい。

- ア 弾劾裁判所の設置    イ 予算の議決    ウ 憲法改正の発議    エ 国政調査権の行使

- (5) 国民と議会を結ぶ役割を持ち、国民の意見を集約して政治に反映し、同じ考えを持つ人々が政権の獲得や政策の実現をめざす政治団体のことを一般に何というか、書きなさい。

- (6) 衆議院議員の選挙は、1選挙区から1名の当選者を出す制度と比例代表制を組み合わせで行われている。このうち、1選挙区から1名の当選者を出す制度を何というか、書きなさい。

- 2 国の財政について、あとの問いに答えなさい。

☒ 国の歳入(収入)のうちわけ(平成23年度一般会計予算)

租税及び印紙収入				公債金 46.8%	その他 収入 10.0%
所得税 14.2%	消費税 10.8%	<input type="text"/> 8.2%	その他 10.0%		

(財務省『日本の財政関係資料』より作成)

- (1) 図中の  に入る適切な語句を、次のア～エから1つ選んで、その符号を書きなさい。

- ア 酒税      イ 相続税      ウ たばこ税      エ 法人税

- (2) 図中の所得税には、累進課税の方法がとられている。累進課税制度とはどのような制度か、「税率」という語句を使って、解答欄のこたばに合わせて書きなさい。
- (3) 税金などの国の財政資金を出し入れすることから、政府の銀行としての役割を果たしている日本における中央銀行を何というか、書きなさい。
- (4) 政府が一般の財政とは異なる計画にもとづいて、市場から資金を調達し、公団、地方公共団体、民間企業に投資したり、貸し出したりすることを何というか、次のア～エから1つ選んで、その符号を書きなさい。
- ア 財政投融资      イ 市場価格      ウ 不良債権      エ 政府開発援助
- (5) 不景気（不況）のときに景気の回復をうながすことを目的として、一般的に政府が実施する政策について述べた文として適切なものを、次のア～エから1つ選んで、その符号を書きなさい。
- ア 増税を行ったり、公共事業への支出を増やしたりする。  
 イ 増税を行ったり、公共事業への支出を減らしたりする。  
 ウ 減税を行ったり、公共事業への支出を増やしたりする。  
 エ 減税を行ったり、公共事業への支出を減らしたりする。
- (6) 次の文章の ①，② に入る語句の組み合わせとして適切なものを、あとのア～エから1つ選んで、その符号を書きなさい。

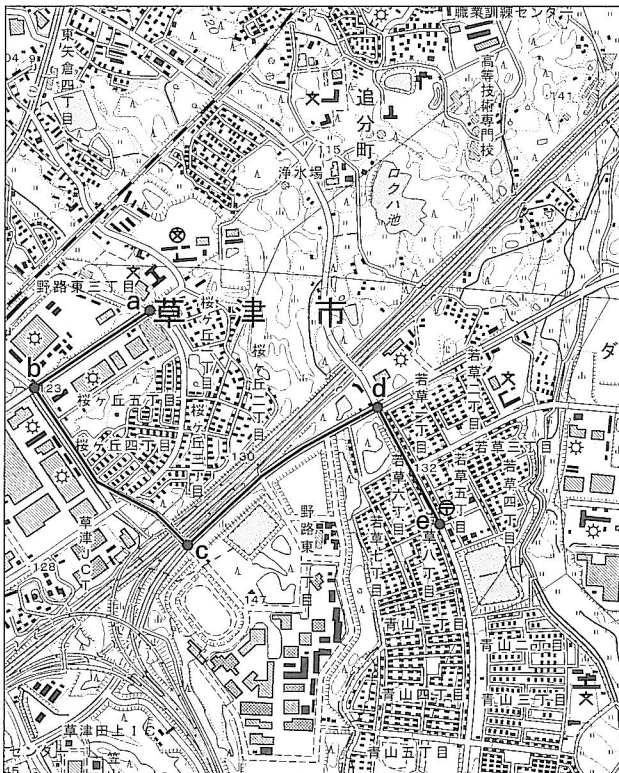
国の歳出（支出）のなかみは、税金などの使いみちを示すものである。その内容は、社会保障関係費、地域ごとの財政収入のばらつきを補正するために地方公共団体に配分される ①，公債のうち国の借金の返済、利子の支払いのための支出である ② 費などに分けられる。このように国の歳出は、国全体に対する公共的な事業のために使われる。

- ア ① 地方交付税交付金（地方交付税）      ② 社会資本  
 イ ① 地方交付税交付金（地方交付税）      ② 国債  
 ウ ① 国庫支出金      ② 社会資本  
 エ ① 国庫支出金      ② 国債

IV （選択問題）A、Bのうちいずれかを選んで、解答しなさい。

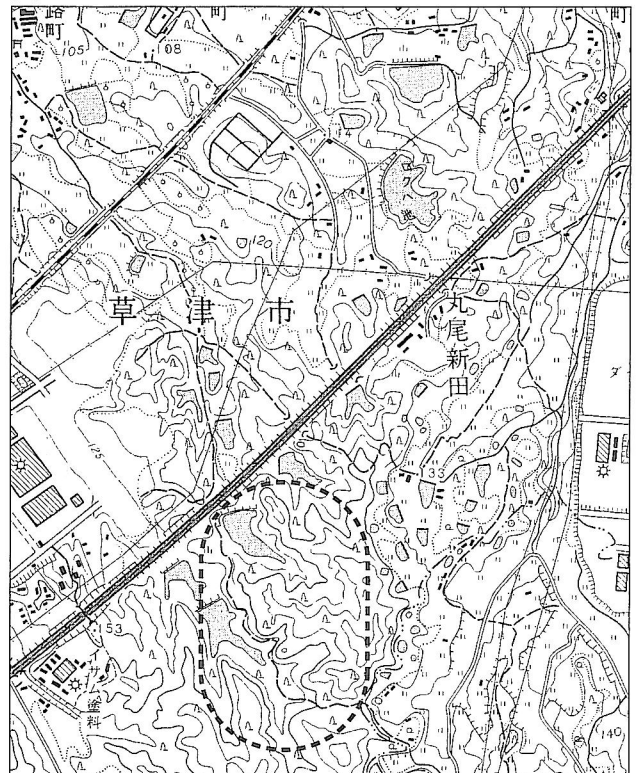
A 図1と図2は、同じ地域の新旧2枚の地形図である。これを見て、あとの問いに答えなさい。

図1



（2万5千分の1地形図「瀬田」（2008年）を一部改変）

図2



（2万5千分の1地形図「瀬田」（1971年）を一部改変）

- 1 図1中に太線で示したコースをa地点から順にe地点まで歩くことを考えた。次の文章の下線部ア～エのうち、図1から読み取ることができるものとして適切なものを1つ選んで、その符号を書きなさい。

a地点を出発し、b地点を左に曲がる。b地点からc地点へ向かう途中、右にア 住宅地がある。c地点を曲がり、d地点へ向かってイ 南西に進む。d地点を右に曲がり、ウ 田の間を進み、e地点にさしかかると左にエ 郵便局がある。

- 2 図1中のa地点からb地点までの距離に最も近いものを、次のア～エから1つ選んで、その符号を書きなさい。

ア 100m      イ 500m      ウ 1000m      エ 2000m

- 3 図1と図2を比較し、この地域の変化について述べた文として適切なものを、次のア～オから2つ選んで、その符号を書きなさい。

ア 図中の○で囲んだ部分では、針葉樹林が広がっていた丘陵をけずり、田が広がった。

イ ロクハ池が埋め立てられ、浄水場ができた。

ウ 鉄道と有料（高速）道路の間に小学校または中学校が2つできた。

エ 鉄道の北に果樹園が広がった。

オ インターチェンジ（IC）や新しい道路ができた。

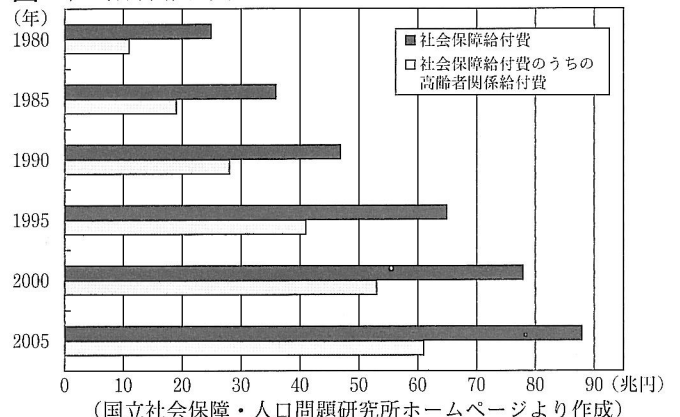
- B 日本の人口推移と将来推計を示した表と、社会保障給付費の推移を示した図を見て、あとの問いに答えなさい。なお、社会保障給付費とは、医療、年金などとして国民に直接給付された費用の総額である。

表 日本の人口推移と将来推計

年	総人口 (千人)	総人口に占める割合 (%)		
		0～14歳	15～64歳	65歳以上
1980	117,060	23.5	67.4	9.1
1985	121,049	21.5	68.2	10.3
1990	123,611	18.2	69.7	12.1
1995	125,570	16.0	69.5	14.6
2000	126,926	14.6	68.1	17.4
2005	127,768	13.8	66.1	20.2
2010	128,057	13.2	63.8	23.0
2015	125,430	11.8	61.2	26.9
2020	122,735	10.8	60.0	29.2
2025	119,270	10.0	59.5	30.5

割合の合計は四捨五入の関係で100%にならない場合がある。  
(国立社会保障・人口問題研究所ホームページなどより作成)

図 社会保障給付費の推移



- 1 表や図から読み取れることについて述べた文として適切なものを、次のア～オから2つ選んで、その符号を書きなさい。

ア 総人口が最も多い年は、総人口に占める15～64歳の割合が最も高い年と同じである。

イ 1980年と2005年を比べると、社会保障給付費は4倍以上に増加している。

ウ 1995年から2000年の間で、総人口に占める65歳以上の割合が0～14歳の割合をはじめて上回っている。

エ 1980年から2005年にかけて、総人口に占める65歳以上の割合は増加し、社会保障給付費のうちの高齢者関係給付費も増加している。

オ 社会保障給付費が最も多い年は、高齢者関係給付費が社会保障給付費の50%以下である。

- 2 次の文章を読み、あとの問いに答えなさい。

日本は少子高齢化が急速に進んでおり、医療や年金などの国民が加入する  をはじめ、社会保障制度に影響をおよぼしている。たとえば、表の総人口に占める65歳以上の割合と15～64歳の割合を比べると、1980年には、65歳以上の高齢者1人を、主な働き手である15～64歳の7.4人で支えていたが、2025年には、 人で支えることが予測される。そのため、高齢社会を支える給付と負担のあり方など、これからの社会保障制度の改革が議論されている。

- (1)  に入る適切な語句を、次のア～エから1つ選んで、その符号を書きなさい。

ア 社会福祉      イ 公衆衛生      ウ 公的扶助      エ 社会保険

- (2)  に入る適切な数字を、次のア～エから1つ選んで、その符号を書きなさい。

ア 1.3      イ 2.0      ウ 3.9      エ 5.8

受験番号

番

平成24年度兵庫県公立高等学校学力検査

社会解答用紙

得点	
----	--

I ( ) 点	1 ( ) 点	(1)	
		(2)	
		(3)	
		(4)	
		(5)	
		(6)	
	2 ( ) 点	(1)	市
		(2)	
		(3)	
		(4)	

II ( ) 点	1 ( ) 点	(1)	①	
			②	
		(2)	①	
			②	
		(3)	①	
			②	
		(4)	①	
			②	海外との
		(5)	①	
			②	
		(6)		
		2 ( ) 点	(1)	
	(2)			
	(3)		条約	

III ( ) 点	1 ( ) 点	(1)		
		(2)		
		(3)		
		(4)		
		(5)		
		(6)	制	
	2 ( ) 点	(1)		
		(2)	所得が	制度である。
		(3)		
		(4)		
		(5)		
		(6)		

IV (選択問題) A, Bのうち、選択した問題の解答欄の左にある  の中に、必ず○印を付けなさい。

<input type="checkbox"/>	A ( ) 点	1 ( ) 点		
		2 ( ) 点		
		3 ( ) 点		
<input type="checkbox"/>	B ( ) 点	1 ( ) 点		
		2 ( ) 点	(1)	
			(2)	