


平成 25 年 度

兵庫県公立高等学校学力検査問題

社 会

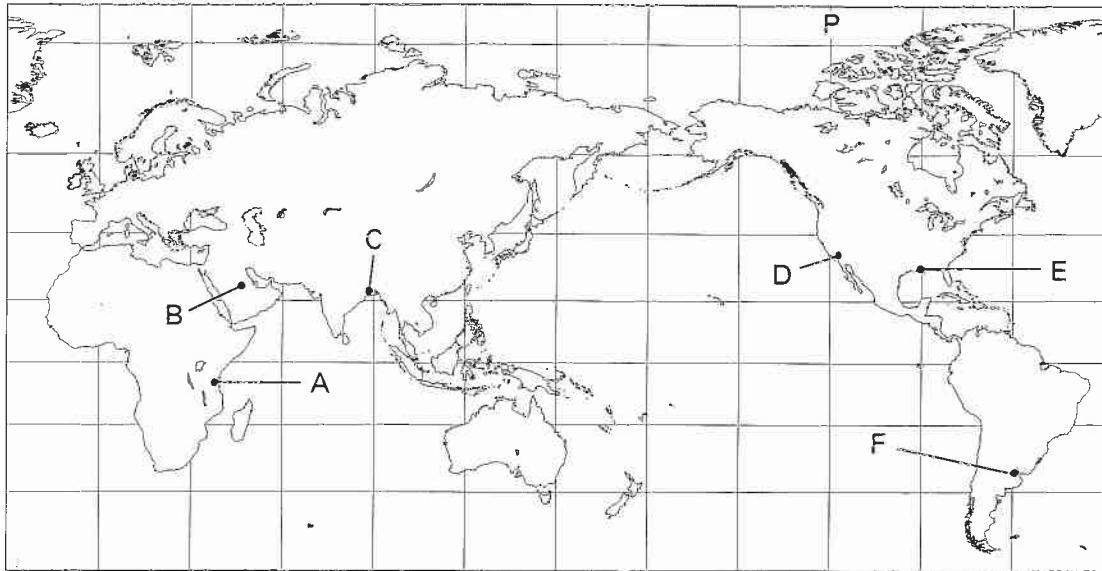
注 意

- 1 「開始」の合図があるまで開いてはいけません。
- 2 「開始」の合図で、1 ページから 6 ページまで問題が印刷されていることを確かめなさい。
- 3 解答用紙の左上の欄に受験番号を書きなさい。
- 4 解答用紙の  の得点欄には、何も書いてはいけません。
- 5 答えは、すべて解答用紙の指定された解答欄に書きなさい。
- 6 問題は 3 題で、6 ページまであります。
- 7 「終了」の合図で、すぐ鉛筆を置きなさい。
- 8 解答用紙は、机の上に置いて、退室しなさい。

I 世界や日本の地理に関するあとの問いに答えなさい。

1 図1を見て、あとの問いに答えなさい。

図1

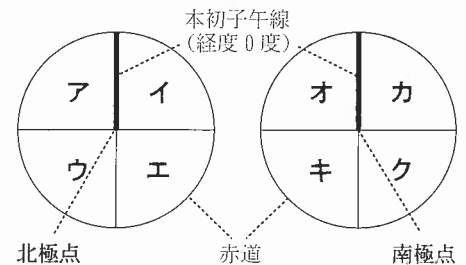


(緯線は20度、経線は30度間隔で描かれている)

(1) ユーラシア大陸の南部には、ヨーロッパからアジアにかけて高くけわしい山脈がつらなる造山帯がある。この造山帯の名称を書きなさい。

(2) 図2は円の中心をそれぞれ北極点と南極点とし、円周を赤道として北半球と南半球をあらわした図である。北半球と南半球をそれぞれ経線によって均等に4分割したとき、図1中の都市Aが位置する範囲として適切なものを、図2中のア〜クから1つ選んで、その符号を書きなさい。

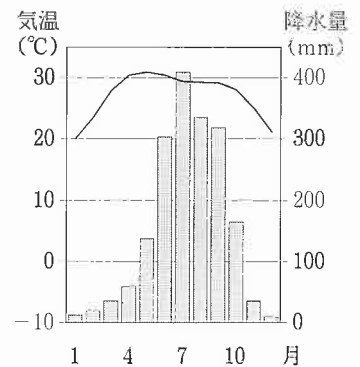
図2



(3) 図1中の都市Dの標準時はPの経線を基準としている。日本が1月1日午前0時のときの都市Dの日付と時刻を書きなさい。ただし、時刻には「午前」または「午後」をつけて書きなさい。

(4) 図3のグラフは図1中のB, C, E, Fのいずれかの都市の気温と降水量を示している。図3のグラフにあたる都市が位置する地域について説明した次の文章を読み、この都市を図1中のB, C, E, Fから1つ選んで、その符号を書きなさい。

図3



(『理科年表 平成24年』より作成)

夏と冬とで風向きが変わる風の影響を受けている。夏に海から大陸へ吹く南西の風が、高くけわしい山脈にぶつかることにより夏の降水量が多く、おもに米が栽培されている。

(5) 表1は面積、人口密度、日本への輸出額、日本からの輸入額を示しており、①〜④はインド、サウジアラビア、中国、アメリカ合衆国のいずれかである。表1中の①と④にあたる国の組み合わせとして適切なものを、次のア〜カから1つ選んで、その符号を書きなさい。

- | | | |
|---|-----------|-----------|
| ア | ① 中国 | ④ サウジアラビア |
| イ | ① 中国 | ④ インド |
| ウ | ① インド | ④ 中国 |
| エ | ① インド | ④ アメリカ合衆国 |
| オ | ① アメリカ合衆国 | ④ インド |
| カ | ① アメリカ合衆国 | ④ サウジアラビア |

表1

国名	面積 (万km ²) (2010年)	人口密度 (人/km ²) (2010年)	日本への輸出額 (億円) (2010年)	日本からの輸入額 (億円) (2010年)
①	963	33	59,114	103,740
②	960	140	134,130	130,856
③	329	378	4,989	7,917
④	215	13	31,494	5,679

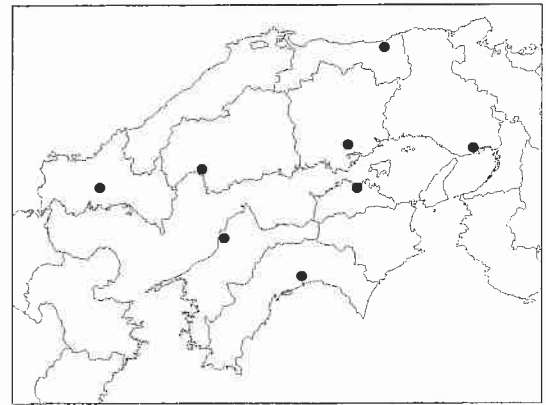
(『世界国勢図会』などより作成)

2 表2は図4中に●で県庁所在地を示した8県の県庁所在地の降水量，水田率，ため池数，漁獲量（川や湖でとれるものを除く）を示したものである。表2，図4を見て，あとの問いに答えなさい。

表2

県名	県庁所在地の降水量 (mm)			水田率 (%) (2010年)	ため池数 (2009年)	漁獲量 (万t) (2005年)		
	1月	7月	全年			海面漁業	海面養殖業	合計
A	59	328	2,548	74.9	431	9.5	1.7	11.2
B	202	201	1,914	68.9	1,094	6.0	0.0	6.0
山口	72	323	1,887	80.9	10,636	4.7	0.4	5.1
C	45	259	1,538	73.2	20,183	1.8	10.0	11.8
愛媛	52	192	1,315	45.0	3,255	9.5	7.8	17.3
D	38	152	1,216	91.6	43,347	6.0	3.9	9.9
岡山	34	161	1,106	77.8	9,802	0.7	2.0	2.7
香川	38	144	1,082	82.8	14,619	2.3	2.7	5.0

図4



水田率は耕地面積のうち田が占める割合を示している。
海面漁業は遠洋漁業、沖合漁業、沿岸漁業のことをいう。

(『データでみる県勢』などより作成)

(1) 表2中のA～Dのうち，瀬戸内海に面していない県の組み合わせとして適切なものを，次のア～カから1つ選んで，その符号を書きなさい。

ア A・B イ A・C ウ A・D エ B・C オ B・D カ C・D

(2) 香川県と愛媛県の農業の特色について述べた次の文章の①～③に入る語句の組み合わせとして適切なものを，あとのア～カから1つ選んで，その符号を書きなさい。

香川県は広い平野があり，水田率が高い。降水量が①ため，ため池を築き，②を栽培してきた。
愛媛県は平野が少なく，水田率が低い。山の斜面などを利用して③を栽培し，その出荷額は全国上位となっている。

- ア ① 少ない ② 小麦 ③ 果樹 イ ① 多い ② 小麦 ③ 野菜
ウ ① 少ない ② 米 ③ 野菜 エ ① 少ない ② 米 ③ 果樹
オ ① 多い ② 米 ③ 野菜 カ ① 多い ② 小麦 ③ 果樹

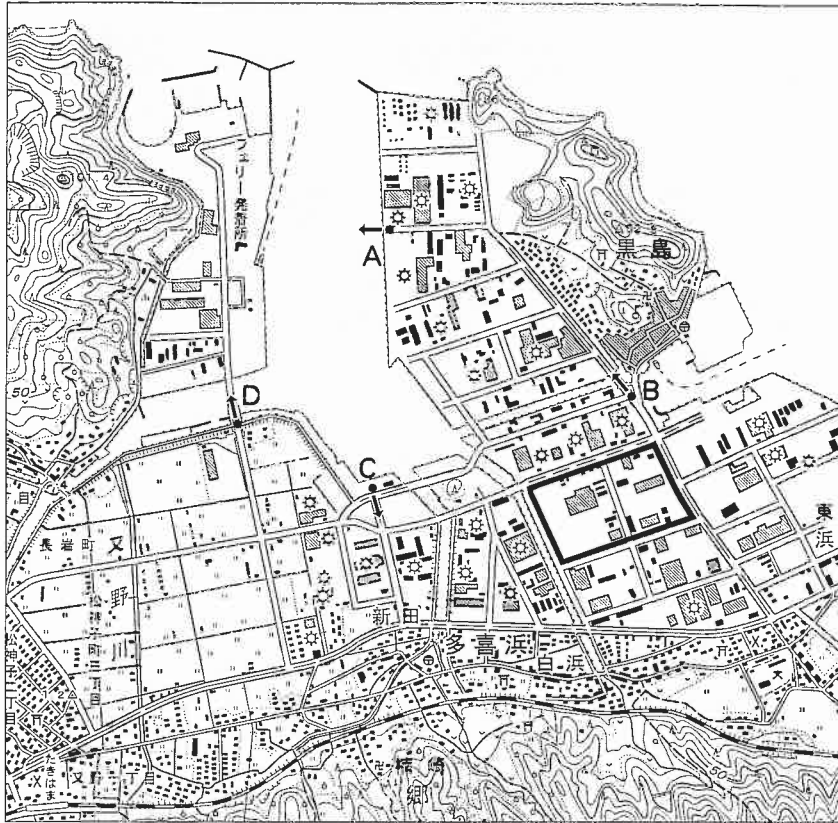
(3) 表2に関して，次の問いに答えなさい。

- ① 兵庫県にあたるものを，表2中のA～Dから1つ選んで，その符号を書きなさい。
② 表2から読み取れることについて述べた文として適切なものを，次のア～エから1つ選んで，その符号を書きなさい。
ア 漁獲量の合計が上位の3県は，いずれも瀬戸内海のみ面に面している。
イ 日本海のみ面に面した県と太平洋のみ面に面した県は，いずれも海面養殖業の漁獲量が2万t以上である。
ウ 漁獲量のうち海面養殖業が占める割合が上位の3県は，いずれも瀬戸内海のみ面に面している。
エ 日本海と瀬戸内海の両方に面した県は，いずれも漁獲量のうち海面養殖業が占める割合が50%以上である。
③ 次の文章の□に入る適切な語句を書きなさい。

瀬戸内海をはじめ各地で，漁業の重点はとる漁業から育てる漁業へ移りつつある。ぶり・たいや貝類などの養殖業（養殖漁業）や，人工ふ化させた稚魚を放流して育てる□漁業に力が入られるようになってきた。

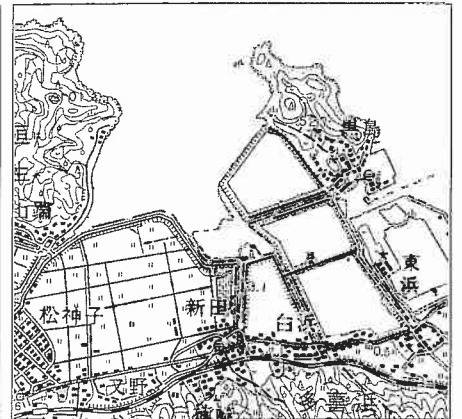
(4) 図5, 図6は, 同じ地域の新旧2枚の地形図である。これを見て, あとの問いに答えなさい。

図5



(2万5千分の1地形図「新居浜」(2006年)を一部改変)

図6



(5万分の1地形図「新居浜」(1971年)より)

写真



- ① 右上の写真は, 図5中のA~Dのいずれかの地点から矢印の方向を向いて写したものである。どの地点から写したものが, A~Dから1つ選んで, その符号を書きなさい。
- ② 図5中の太枠で囲まれた部分の実際の面積に最も近いものを, 次のア~エから1つ選んで, その符号を書きなさい。
ア 0.01km² イ 0.1km² ウ 1km² エ 10km²
- ③ 図5と図6を比較し, この地域の変化について述べた文として適切なものを, 次のア~オから2つ選んで, その符号を書きなさい。
ア 田であったところに, 発電所または変電所ができた。
イ フェリー発着所ができ, その西側の山地に住宅地が広がった。
ウ たきはま駅の北側に隣接して小学校または中学校ができた。
エ 鉄道が川に沿って新しくでき, 駅がつくられた。
オ 黒島の西側は埋め立てられ工場ができた。

II 各時代の土地制度を見ると, その時代の社会のようすを知ることができる。表のA~Hは飛鳥時代から昭和時代までの土地に関することについて, 整理したものである。あとの問いに答えなさい。

1 表を見て, 社会のようすに関する次の問いに答えなさい。

- (1) Aに関して, 次の文章の に入る適切な語句を書きなさい。

戸籍は6年ごとにつくられ, 6歳以上になると身分や男女ごとに決められた広さの口分田が与えられた。税として, 口分田に応じて収穫した稲をおさめる がある。その他にも税があり, 負担は重く, 農地を捨てて逃亡する者もいた。

表

時代	土地に関すること
飛鳥	A 班田収授がはじまった
奈良	B 墾田永年私財法が出された
平安	C 荘園が権力者に集まった
鎌倉	D 徳政令が出された
室町	
安土桃山	E 太閤検地が実施された
江戸	F 新田開発が盛んになった
明治	G 地租改正が実施された
大正	
昭和	H 農地改革が実施された

- (2) Cに関して、藤原氏は他の貴族をしりぞけ勢力をのばした。このことについて述べた次の文章の に入る適切な語句を書きなさい。

藤原氏は、娘を天皇のきさきにし、その子を天皇にたてた。天皇が幼いときは摂政、成人したのちは という職について、政治を動かした。

- (3) Dに関して、鎌倉幕府は徳政令を出し、御家人が手ばなした領地を取りもどさせるなどの救済を試みた。幕府が、領地の裁判や御家人の権利・義務など武士の慣習をまとめた法を何というか、書きなさい。
- (4) Eを実施した人物に関係のあるものを、次のア～エから1つ選んで、その符号を書きなさい。
 ア 刀狩を行い兵農分離を進めた。 イ 寛政の改革を行った。
 ウ 京都に金閣を建てた。 エ ポルトガル船の来航を禁止した。
- (5) Fに関して、この時代の農業について述べた文として適切なものを、次のア～エから1つ選んで、その符号を書きなさい。
 ア 鉄製の農具が使われるようになった。 イ 牛馬を使った農耕がはじまった。
 ウ 米と麦の二毛作がはじまった。 エ 千歯こきが使われるようになった。

- (6) Gに関して、図1は明

治時代に発行された地券である。図2は図1をわかりやすくしたものである。図1、図2を見て、次の問いに答えなさい。

① 図1、図2から読み取れることを述べた文として適切なものを、次のア～エから2つ選んで、その符号を書きなさい。

- ア 廃藩置県がすでに行われていた。
 イ 土地に対する税率は明治時代の間は変わらなかった。
 ウ 地価が書かれている。
 エ 土地は共同所有されている。

② 地租改正に関することについて述べた文として適切なものを、次のア～エから1つ選んで、その符号を書きなさい。

- ア 地租改正は、大日本帝国憲法にもとづいて実施された。
 イ 政府は収入を安定させ、財政の基礎を固めるために地租改正を実施した。
 ウ 政府は地租改正を実施し、諸大名から土地を返させた。
 エ 政府は地租改正に対する反発をかわすため、第1回衆議院議員選挙を実施した。

(7) Hに関して、この改革以降の農村について述べた文として適切なものを、次のア～エから1つ選んで、その符号を書きなさい。

- ア 世界恐慌でアメリカに生糸が売れず、農家は打撃を受けた。
 イ 生活に苦しむ農民たちが役所などをおそう秩父事件がおきた。
 ウ 富山県ではじまった米騒動は、新聞報道を通じて、全国各地に広がった。
 エ 高度経済成長にともない、農村の過疎化が進んだ。

(8) 図3は土一揆に関する奈良市にある碑文である。図4は図3をわかりやすくしたものである。図3、図4を見て、次の問いに答えなさい。

① この土一揆で農民は何を要求したのか、解答欄のことに合わせて書きなさい。

② この土一揆と同じ時代におこった乱として適切なものを、次のア～エから1つ選んで、その符号を書きなさい。

- ア 壬申の乱 イ 応仁の乱
 ウ 承久の乱 エ 大塩平八郎の乱

図2

右検査之上授与之	明治十二年四月十五日	愛知県
尾張国春日井郡上志段味村九百十五番	字大矢	同国同郡同村
一田一反五歩	外二十五歩	持主 川村伊蔵
地価四十九円五十九銭	此百分ノ三金一円四十八銭八厘	地租
此百分ノ二ケ半金一円二十四銭	地租	

「百分ノ三」は100分の3 (3%)、
 「百分ノ二ケ半」は100分の2.5 (2.5%) を示している。

図3




図4

正長元年ヨリサキ者 (は)
 (神戸) (四か郷)
 カンヘ四カンカウニ
 (負目) (べ) (ず)
 ヲキメアルヘカラス

2 表を見て、文化に関する次の問いに答えなさい。

(1) Bの時代の文化に関することについて述べた文として適切なものを、次のア～エから1つ選んで、その符号を書きなさい。

ア 近松門左衛門によって、人形浄瑠璃の台本が書かれた。

イ 紫式部によって、『源氏物語』が書かれた。

ウ 『平家物語』が書かれ、琵琶法師によって広まった。

エ 地方の国ごとに、地理・産物や伝説などを記した『風土記』がまとめられた。

(2) 次の①～③の文は飛鳥時代から昭和時代までの間におこったできごとについて述べている。できごとと時代の組み合わせとして適切なものを、次のア～カから1つ選んで、その符号を書きなさい。

① 鑑真が遣唐使にともなわれて来日し、唐招提寺を開いた。

② パン・カステラ・ボタンなどが貿易商人によってもたらされた。

③ 欧米文化を吸収し大衆文化が生まれ、ラジオ放送がはじまった。

ア ①－飛鳥 ②－鎌倉 ③－昭和 イ ①－奈良 ②－室町 ③－昭和

ウ ①－飛鳥 ②－室町 ③－昭和 エ ①－奈良 ②－鎌倉 ③－大正

オ ①－飛鳥 ②－鎌倉 ③－大正 カ ①－奈良 ②－室町 ③－大正

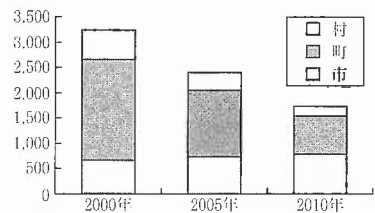
Ⅲ 地方自治と環境問題に関するあとの問いに答えなさい。

1 次の文章は地方自治に関してまとめたものである。あとの問いに答えなさい。

a 地方分権一括法が1999年に成立し、2000年に施行されて以降、国の仕事の多くがb 地方公共団体の独自の仕事となり、国から地方に仕事を移す地方分権が進められている。

図から2010年の市町村数は、2000年の約半数に減少していることがわかる。このように2000年ごろから、市町村の仕事の効率をよくするため、周辺の市町村と一つになる が進んだ。一方、 により行政の組織が大きくなり、住民の声が行政に届きにくくなることなどが心配されている。

図 全国の市町村数の推移



数字は、それぞれの年の4月1日現在の数字を示している。

(総務省ホームページより作成)

(1) 文中の に共通して入る適切な語句を書きなさい。

(2) 下線部aが施行されて以降、行われるようになったこととして適切なものを、次のア～エから1つ選んで、その符号を書きなさい。

ア 都道府県ごとに地方裁判所が設置されるようになった。

イ 国から地方公共団体へ地方交付税交付金(地方交付税)が配分されるようになった。

ウ 市町村ごとに外国と条約を結ぶことができるようになった。

エ 地方公共団体の収入基盤を強めるため、国から財源が移されるようになった。

(3) 下線部bに関して述べた文のうち、正しいものの組み合わせとして適切なものを、次のア～カから1つ選んで、その符号を書きなさい。

① 都道府県知事は内閣総理大臣、市町村長は都道府県知事の承認を得て、それぞれ地方議会を解散することができる。

② 国においては、国民によって国会議員が選挙で選ばれるが、地方公共団体においては、住民によって地方議会の議員と首長が選挙で選ばれる。

③ 条例は、制定した地方公共団体だけに適用されるきまりのことであり、市町村は、都道府県の条例の範囲内で条例を制定することができる。

④ 地方議会の議員の被選挙権の年齢は衆議院議員と同じであり、都道府県知事の被選挙権の年齢は参議院議員と同じである。

ア ①・② イ ①・③ ウ ①・④ エ ②・③ オ ②・④ カ ③・④

(4) 住民には、条例の制定・改廃や議会の解散などを求める権利が認められている。こうした国の政治にはみられない権利をまとめて何というか、書きなさい。

(5) まちづくりや環境などの分野において、ボランティア活動などの社会貢献活動を行う営利を目的としない団体を「非営利組織」というが、この「非営利組織」の略称を何というか、次のア～エから1つ選んで、その符号を書きなさい。

ア NPO イ WTO ウ ODA エ PKO

(6) 次の文の に入る適切な語句を書きなさい。

地方自治は、住民が参加して、身近な地域の問題解決を目指すことから、「地方自治は の学校」といわれている。

2 環境問題と経済発展に関するあとの問いに答えなさい。

表 1

国名	世界の二酸化炭素 総排出量に占める 国別の排出量の割合(%) (2009年)	二酸化炭素総排出量 (百万t)		1990年と2009年を 比べた時の 二酸化炭素総排出量の 増減率(%)
		1990年	2009年	
中国	23.7	2,244	6,877	206
アメリカ合衆国	17.9	4,869	5,195	7
インド	5.5	582	1,586	173
ロシア	5.3	2,179	1,533	-30
日本	3.8	1,064	1,093	3
ドイツ	2.6	950	750	-21

(『世界国勢図会』などより作成)

表 2

国名	国民総所得 (GNI) (億ドル)	
	2000年	2009年
中国	11,838	50,277
アメリカ合衆国	100,705	139,384
インド	4,627	13,454
ロシア	2,519	11,823
日本	47,270	51,711
ドイツ	18,665	33,686

(『世界国勢図会』より作成)


(1) 表 1 はエネルギーを生み出すために排出される二酸化炭素の量について、世界の総排出量に占める排出量の割合が高い順に 6 か国を示したものである。表 2 は表 1 にあげられている国の国民総所得 (GNI) を示したものである。表 1, 表 2 から読み取れることを述べた文として適切なものを、次のア～エから 1 つ選んで、その符号を書きなさい。

- ア 1990年と2009年を比べて二酸化炭素総排出量が減少している国は、いずれも2000年と2009年を比べて国民総所得が減少している。
- イ 2000年と2009年を比べて国民総所得の増加が2倍以下の国は、いずれも1990年と2009年を比べた時の二酸化炭素総排出量の増減率は5%以下である。
- ウ 1990年と2009年を比べて二酸化炭素総排出量が2倍以上に増加している国は、いずれも2000年と2009年を比べて国民総所得が2倍以上に増加している。
- エ 2000年と2009年の国民総所得が最も高い国は、2009年の二酸化炭素総排出量が1番多い国である。

(2) 文中の に共通して入る適切な語句を書きなさい。

1997年、 防止京都会議が開かれ、二酸化炭素などの温室効果ガスの排出削減について話し合われた。温室効果ガスの増加が原因とされる地球規模の環境問題を という。

(3) 図は「ひょうごバイオマスecoモデル」のロゴマークである。兵庫県ではバイオマスの利用を推進するため、先進的な取組を登録し、普及を図っている。バイオマスの説明として適切なものを、次のア～エから 1 つ選び、その符号を書きなさい。



兵庫県登録モデル第〇〇号

- ア 太陽光を利用したエネルギー
- イ 動植物から得られる有機性のエネルギー
- ウ 地熱を利用したエネルギー
- エ 風を利用したエネルギー

(4) 次の文章を読み、あとの問いに答えなさい。

地球サミットから20周年をむかえた2012年、ブラジルのリオデジャネイロでリオプラス20が開催された。会議の中では、環境への負荷の少ない社会を目指す先進国と、経済発展を優先させたい発展途上国との間に意見の違いがみられた。

問題解決のためには、将来の世代の幸福と現在の世代の幸福を両立させることのできる な社会の形成を目指し、地球サミットの理念でもある な開発(発展)が実現できるよう、先進国と発展途上国が協調していくことが必要である。

- ① 文中の に共通して入る適切な語句を書きなさい。
- ② 下線部に関して、日本は1960年代を中心に重化学工業化が進み、先進国に加わった。1960年代に国が行ったこととして適切なものを、次のア～エから 1 つ選んで、その符号を書きなさい。
 - ア 環境に配慮した社会資本の整備などを進める環境省が設置された。
 - イ 消費者保護政策を行う消費者庁が設置された。
 - ウ 生態系の保全を進める環境基本法が制定された。
 - エ 公害防止の努力をうながす公害対策基本法が制定された。
- ③ 環境を保全するための対策として、環境アセスメントがある。環境アセスメントとはどのような制度か、解答欄のことばに合わせて書きなさい。

受検番号

平成25年度兵庫県公立高等学校学力検査

社会解答用紙

得点

I	1	(1)	造山帯		
		(2)			
		(3)	月	日	時
		(4)			
		(5)			
	2	(1)			
		(2)			
		(3)	①		
			②		
			③		
(4)		①			
	②				
	③				

III	1	(1)		
		(2)		
		(3)		
		(4)		
		(5)		
		(6)		
	2	(1)		
		(2)		
		(3)		
		(4)	①	
②				
③	工場建設や地域開発など大規模な開発にあたって、 事前に環境への 制度である。			

II	1	(1)			
		(2)			
		(3)			
		(4)			
		(5)			
		(6)	①		
			②		
	(7)				
	2	(8)	①	正長元年以前については、 神戸四か郷の にすること。	
			②		
(1)					
(2)					