

I 世界や日本の地理に関するあとの問いに答えなさい。

1 ヨーロッパに関する次の問いに答えなさい。

(1) 図1はEU加盟国の

拡大のようす、図2はEU加盟国の1人あたり国民総所得、図3は図1中の都市A～Dのいずれかの気温と降水量を示している。図1～図3に関する次の問いに答えなさい。

① 図1中の緯線P～Sのうち、日本の東北地方を通る緯線を1つ選んで、その符号を書きなさい。

② 図3のグラフは図1中の都市A～Dのどの都市にあたるか、1つ選んで、その符号を書きなさい。

③ 図3のグラフにあたる都市と同じ気候でみられるヨーロッパの農業の特色について述べた文として適切なものを、次のア～エから1つ選んで、その符号を書きなさい。

- ア オリーブやオレンジなどを栽培する農業が行われている。
- イ 麦類の栽培と家畜の飼育を組み合わせた農業が行われている。
- ウ 乳牛などを飼育して乳製品を生産する農業が行われている。
- エ 寒さに強いトナカイなどの放牧が行われている。

④ 図1、図2から読み取れることについて述べた文として適切なものを、次のア～エから1つ選んで、その符号を書きなさい。

- ア EU創設当時の加盟国は、すべて1人あたり国民総所得が30,000ドル以上で経済的に豊かである。
- イ 1995年の加盟国は、EU創設当時の加盟国と比べて1人あたり国民総所得が低い。
- ウ 東ヨーロッパの2004年の加盟国は、それ以前の加盟国と比べて経済的に豊かである。
- エ 2007年の加盟国は、EU創設当時の加盟国と比べて1人あたり国民総所得が低く、加盟国間の経済格差が広がった。

(2) 表1は4つの国・地域の面積、国内総生産、輸出額を示しており、①～③はEU、中国、アメリカ合衆国のいずれかである。表1中の①～③にあたる国・地域として適切なものを、次のア～ウから1つずつ選んで、その符号を書きなさい。

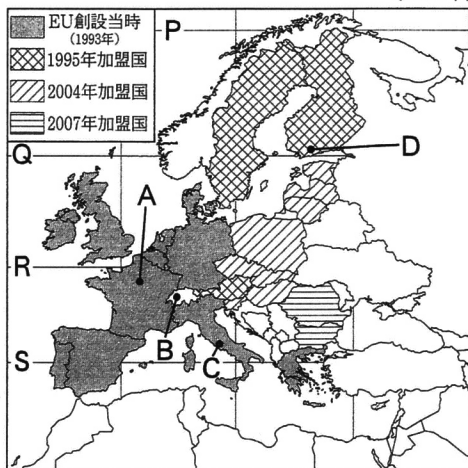
ア EU    イ 中国    ウ アメリカ合衆国

(3) 次の文章の□に入る語句として適切なものを、あとのア～エから1つ選んで、その符号を書きなさい。

EUのように、地域の国々が政治や経済などの協力を強めようとする動きは世界各地で見られる。□は太平洋沿岸地域の経済の協力関係をより活発にする取り組みであり、日本も加盟している。

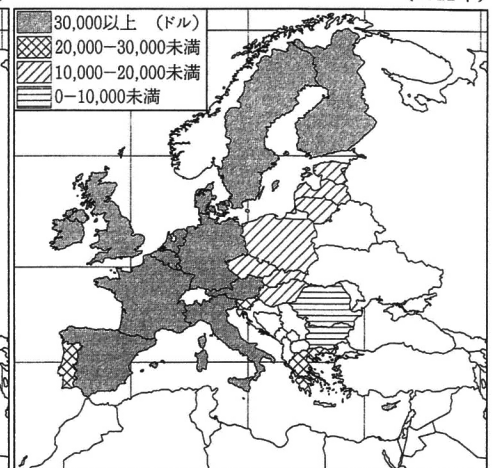
ア APEC    イ ASEAN    ウ WTO    エ NAFTA

図2 (2011年)



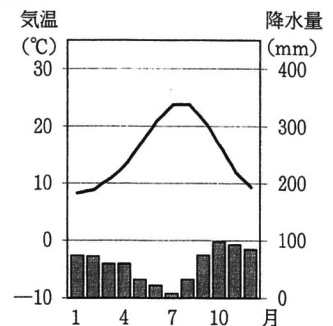
(『世界国勢図会』より作成)

図2 (2011年)



(『世界国勢図会』より作成)

図3



(『理科年表 平成23年』より作成)

表1

国・地域	面積 (万km <sup>2</sup> ) (2011年)	国内総生産 (億ドル) (2011年)	輸出額 (億ドル) (2011年)
①	963	149,913	14,804
②	960	72,038	18,992
③	432	175,906	58,977
日本	38	58,704	8,226

EUの各値は加盟国の合計である。  
(『世界国勢図会』より作成)

2 近畿地方に関する次の問いに答えなさい。

(1) 表2は近畿地方の各府県に関する6項目の数値、図4は宿泊施設での宿泊者のうち観光目的の宿泊者が占める割合を示している。表2、図4に関するあとの問いに答えなさい。

表2

府県名	人口 (東京都を100 とした割合) (2011年)	X (東京都を100 とした割合) (2007年)	宿泊施設で の宿泊者 (万人) (2011年)	宿泊施設 (施設数) (2011年)	国宝・重要 文化財の 指定件数 (件) (2011年)	スキー場 (施設数) (2011年)
大阪	67	56	2,177	1,400	695	0
a	20	17	1,441	1,646	2,247	6
b	42	32	1,189	2,343	470	23
三重	14	11	757	1,987	182	1
滋賀	11	8	431	746	807	10
c	8	5	410	1,364	383	0
d	11	7	203	741	1,378	2

(『データでみる県勢』などより作成)

① 宿泊業と同じ第3次産業にあたるものを、次のア～エから1つ選んで、その符号を書きなさい。

- ア 林業    イ 情報通信業  
ウ 農業    エ 建設業

② 表2中の X にあたる項目として適切なものを、次のア～エから1つ選んで、その符号を書きなさい。

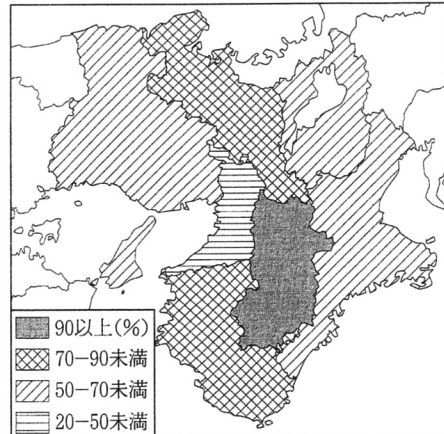
- ア 農業産出額                      イ 工業出荷額  
ウ 小売業年間販売額              エ 漁獲量

③ 表2、図4から読み取れることについて述べた文として適切なものを、次のア～エから1つ選んで、その符号を書きなさい。

- ア 観光目的の宿泊者の割合が最も高い府県は、宿泊施設数も多い。  
イ 宿泊施設での宿泊者が多い府県ほど、観光目的以外の宿泊者の割合が高くなる。  
ウ スキー場の施設数が多い府県ほど、観光目的の宿泊者の割合が高くなる。  
エ 国宝・重要文化財の指定件数が上位の2府県は、観光目的の宿泊者の割合が高い。

④ 兵庫県にあたるものを、表2中の a～d から1つ選んで、その符号を書きなさい。

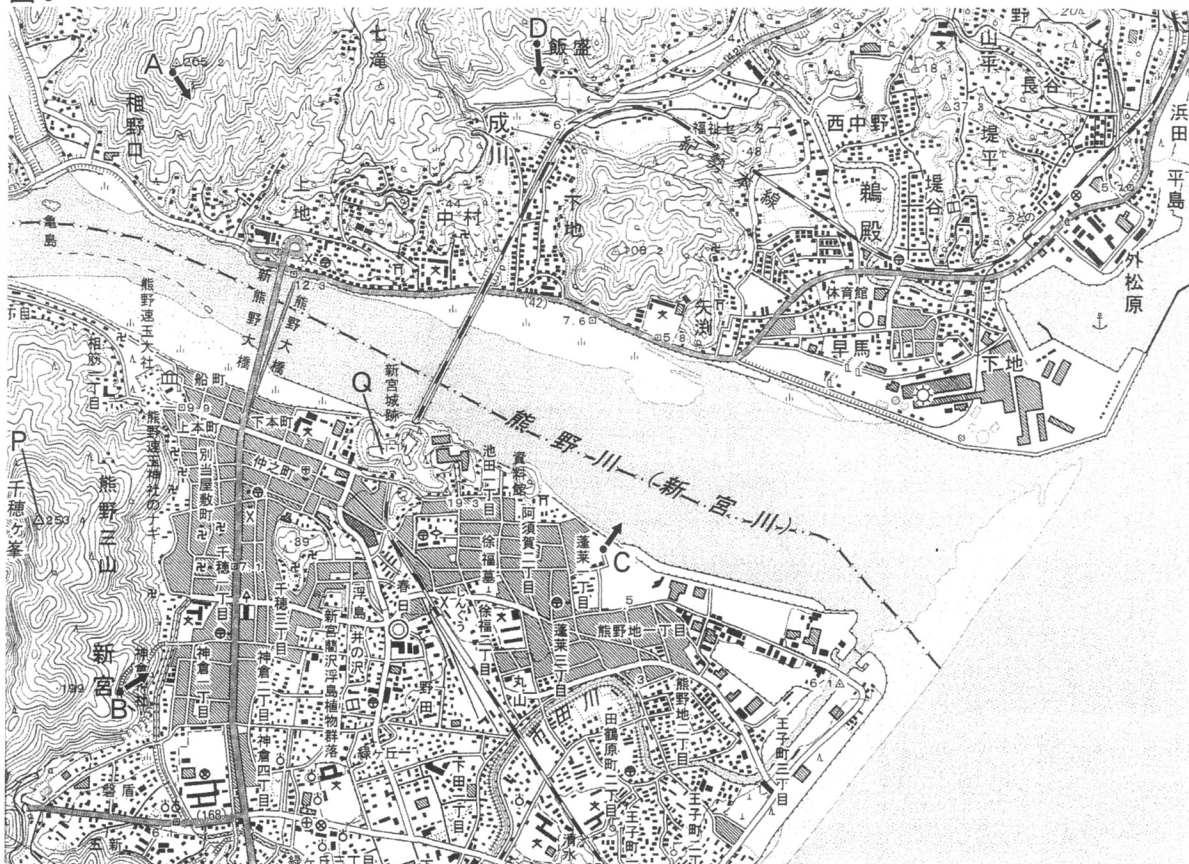
図4 (2011年)



(『データでみる県勢』より作成)

(2) 図5, 写真を見て, あとの問いに答えなさい。

図5



(2万5千分の1地形図「新宮」「鵜殿」(2011年)を一部改変)

- ① 写真は, 図5中のA~Dのいずれかの地点から矢印の方向を向いて写したものである。どの地点から写したのか, A~Dから1つ選んで, その符号を書きなさい。
- ② 図5中のPの千穂ヶ峯の三角点とQの新宮城跡の標高差に最も近いものを, 次のア~エから1つ選んで, その符号を書きなさい。  
ア 50m    イ 100m    ウ 150m    エ 200m
- ③ 次の文章は図5の地域についてまとめたものである。下線部ア~カのうち, 図5から読み取れることとしてあてはまらないものを2つ選んで, その符号を書きなさい。

写真



この地域は紀伊半島の南東部に位置して太平洋に面し, 温暖で夏に多雨な気候である。熊野川の水運により, 製材業や製紙業で繁栄し, ア熊野川の河口部の北に港がある。陸上交通はイ熊野川の北と南に鉄道の駅があり, ウ熊野川を境とする2つの市が鉄道で結ばれている。その鉄道の西にエ新熊野大橋があり, 国道として整備されている。住宅地は古くから熊野川の南の河川沿いに集中していたが, そのオ住宅地に隣接して工場が広がっている。歴史的には熊野信仰の中心として栄え, 新熊野大橋の西のカ熊野速玉大社に隣接して博物館がある。「紀伊山地の霊場と参詣道」として世界遺産に登録された地域であり, 豊かな自然と文化を生かし, 地域の活性化が図られている。

II 日本にある世界遺産について整理したカードに関するあとの問いに答えなさい。なお、カードA～Hは下線部にもとづいて、時代の古いものから順に並べている。

カードA




この建物は、現存する世界最古の木造建築で、飛鳥文化を代表する多くの仏像や美術工芸品も残されている。

カードB



この建物は、摂関政治が最も栄えたころに建てられ、阿弥陀仏の世界をこの世に再現したとされている。

カードC



幕府の支援や民衆の寄付などにより再建されたこの門は、宋から伝えられた雄大な建築様式が取り入れられている。

カードD



東山文化を代表するこの建物の建築様式は、武家の住居に取り入れられ、こんにちの和風住宅のもととなっている。

カードE



この城は豊臣秀吉や黒田官兵衛にもゆかりがある。雄大な天守閣をもつ現在の姿は、白鷺城ともよばれている。

カードF



日光にあるこの建物は、260年余り続いた時代の将軍の権威と力を示すような豪華さと勇壮さで知られている。

カードG



琉球王国は廃藩置県により沖縄県となった。この城は、日本と中国の建築様式で建てられ、琉球文化を今に伝えている。

カードH



原子爆弾の爆心地近くにあったこの建物は、第二次世界大戦後、核兵器の恐ろしさを伝えるために保存されている。

1 カードAの建物を建てたといわれる人物に関係のあるものを、次のア～エから1つ選んで、その符号を書きなさい。

- ア 隋と対等の関係を結ぼうと使節を派遣した。 イ 大化の改新とよばれる改革を推進した。  
ウ 大宝律令を制定し、律令国家が成立した。 エ 坂上田村麻呂を東北に派遣した。

2 カードBに関して、次の問いに答えなさい。

(1) この建物が建てられた時代の政治や社会のようすについて述べた文として適切なものを、次のア～エから1つ選んで、その符号を書きなさい。

- ア 聖武天皇は仏教の力で国を治めようと考え、国ごとに国分寺と国分尼寺をつくった。  
イ 後醍醐天皇は公家と武士をひとつにまとめて、天皇中心の新しい政治を行った。  
ウ 藤原氏が朝廷の高い地位を独占して実権をにぎり、地方の政治は国司に任された。  
エ 後鳥羽上皇は北条氏を討つために兵をあげ、朝廷の勢力を回復しようとした。

(2) この建物には阿弥陀如来像（阿弥陀仏像）が置かれている。このことについて述べた次の文章の□に共通して入る適切な語句を書きなさい。

世の中が乱れるという考えが広まり、阿弥陀仏にすがって、死後に極楽□に生まれ変わろうという願いが貴族や民衆の間に広がった。これを□信仰という。

3 カードCの門に置かれている一對の力強い作風の像を何というか、書きなさい。

4 カードDに関して、次の問いに答えなさい。

(1) この建物にみられる、ふすまや障子でしきり、畳をしき、床の間をもつような住宅建築の様式を何というか、書きなさい。



- (2) この建物が建てられた時代の社会のようすについて述べた文として適切なものを、次のア～エから1つ選んで、その符号を書きなさい。
- ア 有力な農民の指導のもとで、惣（惣村）とよばれる自治的な村落がつけられた。
- イ 大規模ないわし漁が行われ、肥料（干鰯）に加工されて売られるようになった。
- ウ 戸籍がつけられ、6歳になると決められた広さの農地があたえられた。
- エ 兵庫（現在の神戸市）に港が整備され、宋との貿易が行われた。
- 5 カードEの下線部の人物は、全国の田畑をはかり、土地の良し悪しや生産高、耕作している農民の名前を調べた。このことを何というか、書きなさい。
- 6 カードFの下線部の時代の前期に、幕府が貿易を統制するようになり、オランダ船と中国船のみに貿易が許されることになった。この時代の後期のヨーロッパ諸国の動きについて述べた文として適切なものを、次のア～エから1つ選んで、その符号を書きなさい。
- ア カトリック教会の腐敗に対する不満が高まり、宗教改革がはじまった。
- イ イギリスはアヘン戦争に勝利し、清から香港を手に入れ、新たに港を開かせた。
- ウ 人間の個性や自由を表現しようとするルネサンスがおこった。
- エ スペインやポルトガルはこしょうなどの香辛料を手に入れるため、新航路を開拓した。
- 7 カードGの下線部の時代の社会のようすについて述べた文として適切なものを、次のア～エから1つ選んで、その符号を書きなさい。
- ア 教育勅語が發布されたことにより、すべての国民が学校教育を受けられるようになった。
- イ 文明開化により、オランダ語で西洋の文化を学ぶ蘭学という学問がおこった。
- ウ 福沢諭吉は『西洋事情』で民本主義をとらえ、普通選挙の実施を主張した。
- エ 中江兆民がヨーロッパの民主主義思想を紹介し、自由民権運動に大きな影響をあたえた。
- 8 カードHの下線部に関して、次の問いに答えなさい。
- (1) 第二次世界大戦後の日本国内の動きについて述べた文として適切なものを、次のア～エから1つ選んで、その符号を書きなさい。
- ア 労働運動が激しくなり、社会主義勢力をおさえるために言論の自由は認められなかった。
- イ 農地改革が行われたが、地主に対する強制力はなく、自作農は増えなかった。
- ウ 日本の産業や経済を独占してきた財閥を戦争に協力した勢力として解体させた。
- エ 男女に選挙権があたえられたが、女性が立候補することは制限された。
- (2) 第二次世界大戦後の世界について述べた文として適切なものを、次のア～エから1つ選んで、その符号を書きなさい。
- ア アメリカを中心とする勢力とソ連を中心とする勢力の対立は冷たい戦争（冷戦）とよばれ、ソ連が解体したあとも続いている。
- イ アメリカを中心とする国々と日本との間にサンフランシスコ平和条約が結ばれたことにより、日本は国際連合への加盟が認められ、国際社会に復帰した。
- ウ 核保有国以外の国々が核兵器をもつことを禁じた核拡散防止条約（核不拡散条約）が結ばれたため、新たな核保有国は増えていない。
- エ 高度経済成長によって経済大国となった日本は、政府開発援助（ODA）などの技術協力や経済援助を中心に国際貢献を行っている。
- 9 次の①～③の文はカードA～Fの下線部の時代のいずれかについて述べている。それぞれにあたるものを、A～Fから1つずつ選んで、その符号を書きなさい。
- ① この時代の前期に、大阪や京都などの上方を中心とした町人文化が生まれ、井原西鶴や近松門左衛門などが活躍した。
- ② 貴族の間で日本の風土や生活にあった文化が生まれ、清少納言や紫式部などが活躍した。
- ③ 新興の大名や大商人の気風を反映した雄大な文化が生まれ、千利休や狩野永徳などが活躍した。

Ⅲ 日本の政治や経済のしくみと私たちの生活に関するあとの問いに答えなさい。

1 国の歳出と社会保障に関するあとの問いに答えなさい。

図1 国の歳出のうちわけ(平成25年度一般会計予算)

総額 約93兆円	社会保障関係費 31.4%	国債費 24.0%	□ など 17.7%	その他 26.9%
-------------	------------------	--------------	---------------	--------------

(財務省ホームページより作成)

- (1) 図1に関して、予算について述べた文として適切なものを、次のア～エから1つ選んで、その符号を書きなさい。
- ア 予算は、衆議院と参議院が異なった議決をした場合、衆議院の再可決により成立する。  
 イ 予算案は、内閣によって作成され、国会に提出される。  
 ウ 予算は、国会において本会議で審議が行われたのちに、委員会で議決される。  
 エ 予算案は、参議院が先に審議するという優越が認められている。
- (2) 図1の□は、税収入の地方公共団体間の格差を減らすために、国が配分するものである。この名称を書きなさい。
- (3) 図1の社会保障関係費に関して、日本国憲法では「すべて国民は、健康で文化的な最低限度の生活を営む権利を有する。」と定めている。社会権の1つであるこの権利を何というか、書きなさい。
- (4) 社会保障に関して述べた文①～③と、それぞれ関係の深い語句A～Dの組み合わせとして適切なものを、次のア～カから1つ選んで、その符号を書きなさい。
- ① 収入が少なく生活に困っている人に対して、生活費や教育費などを給付する。  
 ② 国民の健康を増進し、感染症の予防などを行う。  
 ③ 障害のある人や高齢者などに対して、生活の保障や支援サービスを提供する。
- A 社会福祉    B 社会保険    C 公衆衛生    D 公的扶助
- ア ①-A ②-B ③-D    イ ①-A ②-D ③-B  
 ウ ①-B ②-A ③-C    エ ①-B ②-D ③-A  
 オ ①-D ②-C ③-B    カ ①-D ②-C ③-A
- (5) 福祉の充実を図るため、2000年に新たな社会保障制度が導入された。40歳以上の全員が加入し、国や地方公共団体などからサービスが受けられる制度を何というか、書きなさい。
- (6) 表は日本の人口推移、図2は一般会計歳出、一般会計税収、国債発行額、社会保障給付費の推移を示している。表、図2を見て、日本の社会保障について述べた文として適切なものを、あとのア～エから1つ選んで、その符号を書きなさい。

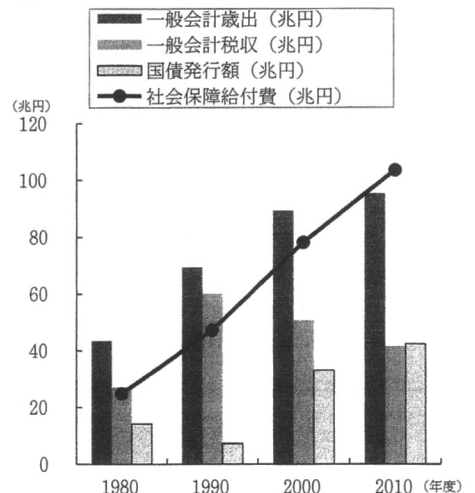
表

	1980年	1990年	2000年	2010年
総人口(千万人)	11.7	12.4	12.7	12.8
総人口に占める0～14歳の割合(%)	23.5	18.2	14.6	13.2
総人口に占める65歳以上の割合(%)	9.1	12.0	17.3	23.0

(『日本の統計』より作成)

- ア 社会保障給付費の増加などにより、一般会計歳出が増加し、歳入が不足している状態が続いているが、国債残高は年々減少している。  
 イ 高齢世代が増大するにつれて、医療費にかかる個人の負担が増加しているため、社会保障給付費は減少している。  
 ウ 増大していく高齢世代を支える財源の多くを、減少していく働く世代が負担していくこととなる。  
 エ 年金保険は一般会計税収のみによって支えられており、少子高齢化の進行により国全体の給付費は減少している。

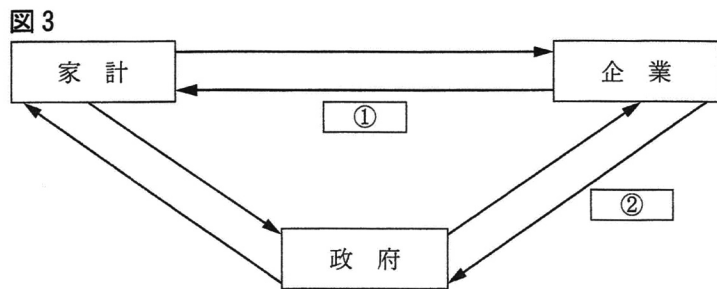
図2



社会保障給付費とは、医療保険、年金保険、福祉手当など、国民に直接給付される費用のことである。  
 (財務省ホームページなどより作成)

2 家計、企業、政府の結びつきに関する次の問いに答えなさい。

- (1) 図3は、家計、企業、政府の結びつきを示したものである。①，②に入るものとして適切なものを、次のア～エから1つずつ選んで、その符号を書きなさい。



- ア 労働力    イ 賃金  
ウ 税金    エ 公共サービス

- (2) 図3中の政府に関して、企業の健全な競争を維持するための独占禁止法を運用する機関を何というか、書きなさい。
- (3) 図3中の企業に関して、企業の多くが株式会社という形態をとっている。株式会社のしくみにおいて、株式を所有している人が出席し、事業の基本方針や経営者の選出などを行う機関を何というか、書きなさい。
- (4) 図3中の企業について述べた文として適切なものを、次のア～エから1つ選んで、その符号を書きなさい。
- ア 企業は資金を調達するとき、銀行などの金融機関を通してお金のやり取りを行うが、このしくみを直接金融という。
- イ 企業の規模において、日本の製造業における中小企業の事業所数は、全体のうちの半数以下である。
- ウ 企業の多くは、利益を得ることを目的として自由に設立できる公企業であるが、国や地方公共団体が資金を出して経営する私企業もある。
- エ 現代の企業は利潤を大きくするだけでなく、よりよいものを安く提供することや雇用を守ることなどの社会的責任を負っている。
- (5) 図3中の企業で働く労働者について述べた文として適切なものを、次のア～エから1つ選んで、その符号を書きなさい。
- ア 日本国憲法では、労働基本権（労働三権）として、労働者に請求権、団体交渉権、団体行動権（争議権）を保障している。
- イ 日本の企業は、経済状況の変化に対応することや人件費をおさえることなどの理由から、アルバイトや派遣労働者のような非正規雇用の労働者を増やすようになった。
- ウ 労働組合法では、労働時間を1日8時間以内、週40時間以内とするなどの労働条件の最低基準について定めている。
- エ 日本では年齢にかかわらず仕事の成果に応じて賃金を支払うシステムが一般的であったが、年齢とともに賃金の上がる新たな制度が導入されている。

- (6) 図4は、消費者、事業者、行政の信頼と協働により、安全で安心な消費生活を推進する兵庫県の理念をあらわした「ひょうごの消費生活シンボルマーク」である。消費者が欠陥商品によって被害を受けた際の企業の責任について定めた法律を何というか、書きなさい。

