

I 世界や日本の地理に関するあとの問いに答えなさい。

1 北アメリカ州に関する次の問いに答えなさい。

- (1) 図1中のニューヨークの標準時は西経75度を基準としている。ニューヨークが1月5日午前9時のときの東京の日付と時刻を書きなさい。ただし、時刻には「午前」または「午後」をつけて書きなさい。
- (2) 図1, 図2, 表1から読み取れることを述べた文として適切なものを、あとのア～エから1つ選んで、その符号を書きなさい。

図1 北アメリカ州

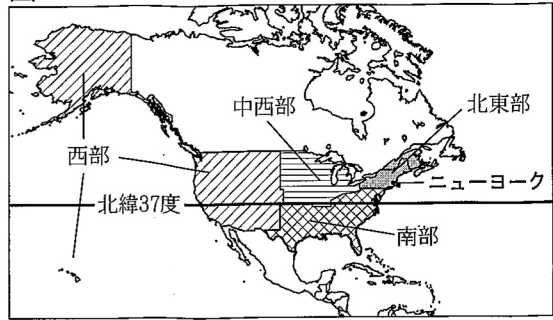


図2 アメリカ合衆国の国内総生産の地域別割合

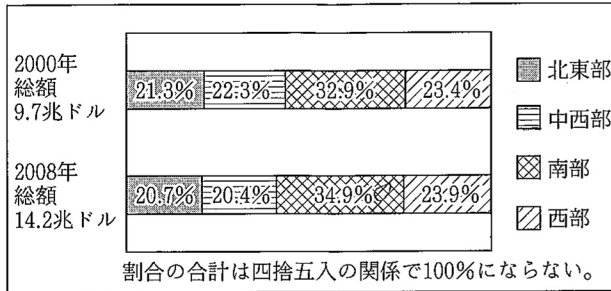


表1 アメリカ合衆国の地域別の人口増加率, 産業ごとの生産額の地域別割合

地域	人口増加率 (%) (2007~2008年)	生産額の地域別割合 (%) (2008年)		
		農業	製造業	金融保険業
北東部	0.2	4.5	16.6	32.7
中西部	0.6	45.2	28.5	20.7
南部	1.0	27.1	35.9	28.3
西部	1.5	23.1	19.1	18.4

各産業の地域別割合の合計は四捨五入の関係で100%にならない。
〔現代アメリカデータ総覧〕などより作成

- ア 国内総生産の地域別割合の差は少なく, 人口増加率も地域差は見られない。
- イ 金融保険業の生産額の地域別割合が最も高い北東部は, 国内総生産の地域別割合も増加している。
- ウ 国内総生産の地域別割合が増加している南部は, 製造業の生産額の地域別割合が最も高く, 北東部と比べて人口増加率も高い。
- エ 中西部は国内総生産の地域別割合は減少しているが, 農業の生産額の地域別割合が最も高く, 西部と比べて人口増加率も高い。

- (3) 図1に関して, 北緯37度より南にある先端技術産業(ハイテク産業)などが発達した, アメリカ合衆国のカリフォルニア州からメキシコ湾岸にいたる地域を何というか, 書きなさい。
- (4) アメリカ合衆国が世界経済に大きな影響を与えていることを調べるために活用する資料として最も適切なものを, 次のア～エから1つ選んで, その符号を書きなさい。

ア 貿易額 イ 産業別人口割合 ウ 国土面積 エ 食料自給率

- (5) カナダ, アメリカ合衆国, メキシコの3か国が貿易や投資の自由化を進めるために締結した協定を, 次のア～エから1つ選んで, その符号を書きなさい。

ア ASEAN イ NAFTA ウ EU エ APEC

- (6) 表2, 表3を見て, カナダ, アメリカ合衆国, メキシコの貿易について述べた文として適切なものを, 次のア～エから1つ選んで, その符号を書きなさい。

- ア アメリカ合衆国の輸出入品はともに電気機械が多く, 輸出入の相手国の割合はともにカナダが最も高い。
- イ カナダ, アメリカ合衆国, メキシコの3か国とも中国からの輸入の割合より, 中国への輸出の割合の方が高い。
- ウ カナダはイギリス系の移民が多いので, 輸出の相手国の割合はアメリカ合衆国よりイギリスの方が高い。
- エ メキシコの輸出入品はともに電気機械が多く, 輸出入の相手国の割合はともにアメリカ合衆国が最も高い。

表2 3か国の主要輸出入品 (2011年)

国名	主要輸出品	主要輸入品
カナダ	原油	自動車
	自動車	電気機械
	一般機械	一般機械
アメリカ合衆国	電気機械	電気機械
	一般機械	原油
	自動車	自動車
メキシコ	電気機械	電気機械
	自動車	一般機械
	原油	自動車

表3 3か国の輸出入相手国の割合 (2011年)

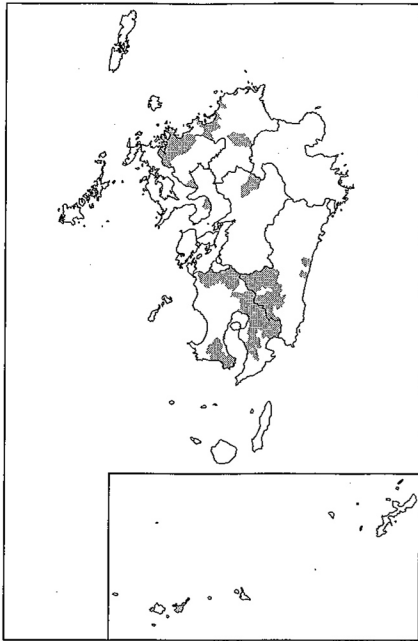
国名	輸出相手国の割合 (%)	輸入相手国の割合 (%)
カナダ	アメリカ合衆国 73.7	アメリカ合衆国 49.5
	イギリス 4.2	中国 10.8
	中国 3.8	メキシコ 5.5
アメリカ合衆国	カナダ 19.0	中国 18.4
	メキシコ 13.3	カナダ 14.1
	中国 7.0	メキシコ 11.7
メキシコ	アメリカ合衆国 78.7	アメリカ合衆国 49.8
	カナダ 3.1	中国 14.9
	中国 1.7	日本 4.7

(表2, 表3は『データブックオブ・ザ・ワールド』より作成)

2 九州地方に関するあとの問いに答えなさい。

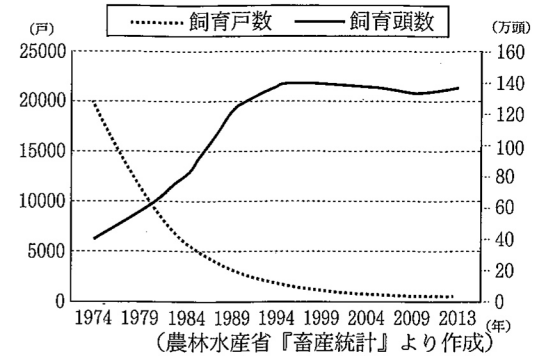
(1) 図3～図6に関するあとの問いに答えなさい。

図3 九州地方



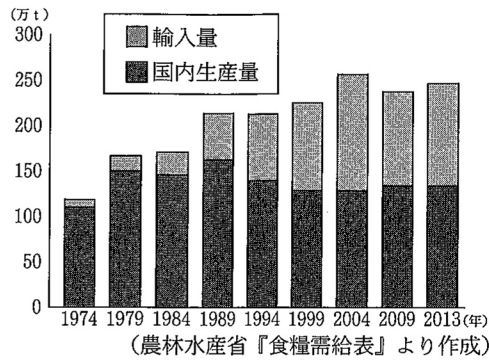
(農林水産省『畜産統計』より作成)

図4 鹿児島県の豚の飼育戸数と飼育頭数



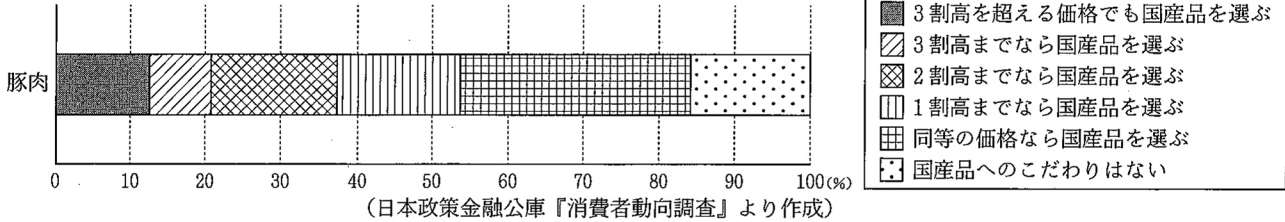
(農林水産省『畜産統計』より作成)

図5 日本の豚肉の国内生産量と輸入量



(農林水産省『食糧需給表』より作成)

図6 食に関する意識についてのアンケート調査 (2011年)



(日本政策金融公庫『消費者動向調査』より作成)

① 図3中のぬられた地域は、九州地方で畜産がさかんな地域である。その中でも鹿児島県で畜産がさかんになった要因について述べた文として適切なものを、次のア～エから1つ選んで、その符号を書きなさい。

- ア 火山活動による噴出物によってできた土地で、水の確保が難しく稲作が困難だった。
- イ フォッサマグナとよばれるみぞ状の地形で、水の確保が難しく稲作が困難だった。
- ウ カルデラとよばれる地形で、水はけが悪く耕作地には適さなかった。
- エ 枯れた草などが分解されずにできた泥炭地で、水はけが悪く耕作地には適さなかった。

② 図4から読み取れることを述べた文として適切なものを、次のア～エから1つ選んで、その符号を書きなさい。

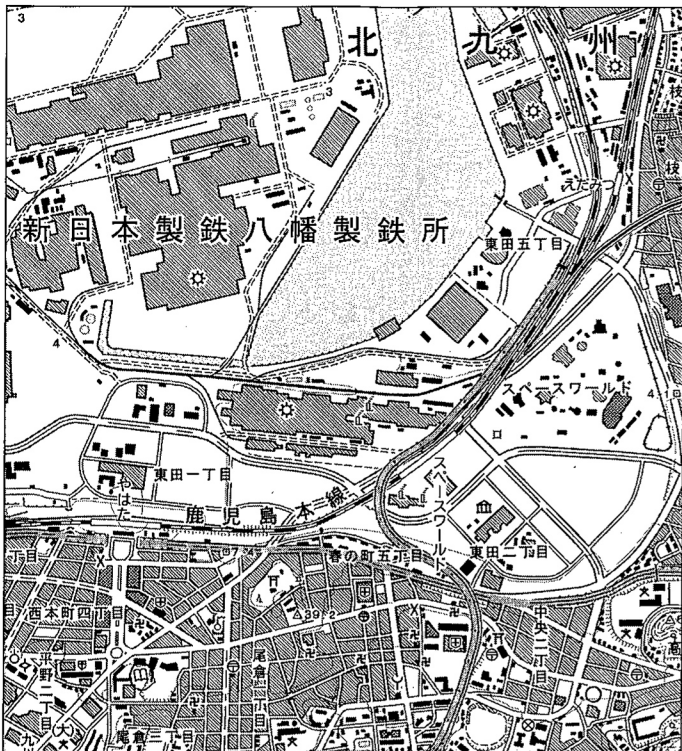
- ア 1974年から1984年の間に1戸あたりの飼育頭数は減少している。
- イ 飼育頭数は年々伸び続けているが、飼育戸数は減少し続けている。
- ウ 1974年から1994年の間に飼育頭数が増加し、飼育戸数も増加している。
- エ 約40年間で飼育戸数は減少しており、1戸あたりの飼育頭数は増加している。

③ 図4～図6から読み取れることを述べた文として適切なものを、次のア～カから2つ選んで、その符号を書きなさい。

- ア 割高でも国産品を選ぶ消費者が多く、年々飼育戸数は増加している。
- イ 1974年から1989年の間に飼育頭数は増加し、国内生産量と輸入量の合計も増加している。
- ウ 3割高を超える価格でも国産品を選ぶ消費者が多く、年々輸入量は減少している。
- エ 輸入量が年々増加しているので、飼育頭数は減少し続けている。
- オ 割高でも国産品を選ぶ消費者が50%以上おり、1999年以降の国内生産量の変化は少ない。
- カ 国産品にこだわらない消費者が多いので、輸入量は年々増加している。

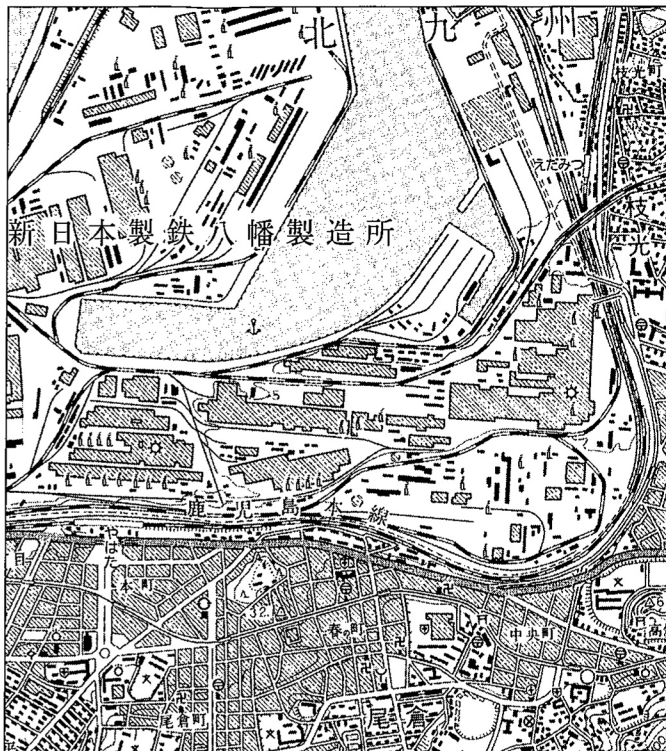
(2) 図7と図8は北九州市の同じ地域の新旧2枚の地形図である。これを見て、あとの問いに答えなさい。

図7



スペースワールドとは、1990年開業のテーマパークである。
(2万5千分の1地形図「八幡」(2007年)を一部改変)

図8



(2万5千分の1地形図「八幡」(1969年)を一部改変)

① 図7中のやはた駅から図書館までの距離に最も近いものを、次のア～エから1つ選んで、その符号を書きなさい。

ア 100m イ 500m ウ 1000m エ 1500m

② 図7から読み取れることを述べた文として適切なものを、次のア～エから1つ選んで、その符号を書きなさい。

- ア やはた駅の北側に病院がある。
- イ えだみつ駅の西側に郵便局がある。
- ウ 消防署の北側には寺院が点在している。
- エ 官公署に隣接して警察署がある。

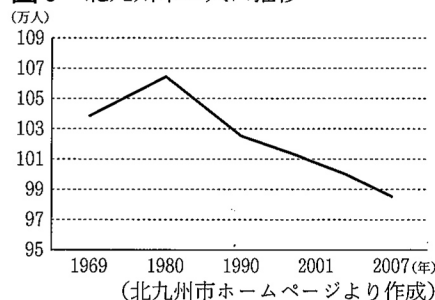
③ 図7, 図8を比較し、この地域の変化について述べた文として適切なものを、次のア～エから1つ選んで、その符号を書きなさい。

- ア 鉄道の北側に沿って建物密集地が広がった。
- イ 工場内に敷かれた線路が増えた。
- ウ 新しい駅がつけられ、その東側に市役所ができた。
- エ 鉄道の上を交差する道路が新たにつくられた。

④ 図7～図10から読み取れることを述べた文として適切なものを、次のア～エから1つ選んで、その符号を書きなさい。

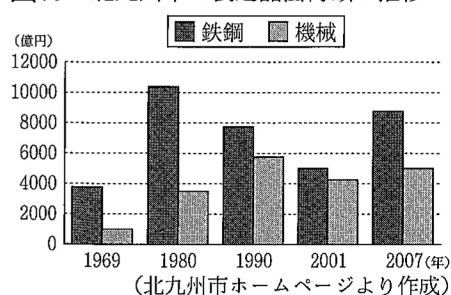
- ア 2001年から鉄鋼の製造品出荷額が再び増加に転じて人口も増加し、工場の一部が住宅になっている。
- イ 1969年から1990年の間、機械の製造品出荷額が増加し、人口の減少は止まっている。
- ウ 1980年から2001年の間、鉄鋼の製造品出荷額が減少し、工場の一部が再開発された。
- エ 1990年から機械の製造品出荷額が減少に転じて人口も減少し、えだみつ駅の東の建物密集地も減少した。

図9 北九州市の人口推移



(北九州市ホームページより作成)

図10 北九州市の製造品出荷額の推移



(北九州市ホームページより作成)

II 日本の歴史に関するあとの問いに答えなさい。


1 江戸時代までの日本の文化に関する文章を読み、あとの問いに答えなさい。

日本では大陸との交流を通じて文化が形成されてきた。中国の歴史書には、a 3世紀前半に倭から使いが送られたことが書かれている。朝鮮半島からは漢字や儒教、仏教が伝えられた。b 推古天皇の頃には仏教を中心とした文化が栄え、c 天武天皇の頃には唐の文化の影響を受けた。d 聖武天皇の頃には仏教や大陸の影響を受けた国際色豊かな文化が開花したが、平安時代になり遣唐使が停止されると、貴族の間では、e 日本の風土や生活に合わせた文化が生まれた。f 鎌倉時代には質素で素朴な武士の気風を反映した文化が栄え、室町時代には、g 貴族と武士の文化の一体化が進み、金閣や銀閣が建てられた。安土桃山時代になると、h 大名の権力や商人の経済力を背景にして雄大で豪華な文化が生み出された。i 江戸時代には、社会が安定していく中で町人が文化の中心となり、前期の、j 元禄文化は上方を中心に、後期の化政文化は江戸を中心に栄え、交通の発達によって地方にも広がりを見せた。

- (1) 下線部 a に関して、魏に使いを送った卑弥呼が治めたとされる国名を漢字で書きなさい。
- (2) 下線部 b に関して、推古天皇のもとで行われたことについて述べた文として適切なものを、次のア～エから1つ選んで、その符号を書きなさい。
- ア 班田収授が行われ、戸籍に登録された6歳以上の男女に口分田があたえられた。
 - イ 才能のある人物を役人に取り立てるため、冠位十二階の制度が定められた。
 - ウ 神話や国のなりたちについて記した『日本書紀』がつくられた。
 - エ 国には国司が派遣され、地方の豪族が郡司に任命され、政治が行われた。
- (3) 下線部 c に関して、天武天皇について述べた文として適切なものを、次のア～エから1つ選んで、その符号を書きなさい。
- ア 大宝律令を制定し、律令国家の新しい都として平城京をつくった。
 - イ 坂上田村麻呂を征夷大將軍に任命して、東北地方に派遣した。
 - ウ 壬申の乱に勝って即位し、天皇を中心とする国家づくりを進めた。
 - エ 墾田永年私財法を出し、新たに開墾した土地の私有を認めた。
- (4) 下線部 d に関して、この頃の仏教について述べた文として適切なものを、次のア～エから1つ選んで、その符号を書きなさい。
- ア 阿弥陀如来にすがり、極楽浄土に生まれ変わることを願う浄土信仰が流行した。
 - イ 天台宗を広めた最澄が比叡山に延暦寺、真言宗を広めた空海が高野山に金剛峯寺を建てた。
 - ウ 浄土真宗がさかんであった加賀などでは、信者たちが団結して一向一揆をおこした。
 - エ 仏教の力にたよって国家を守ろうと、諸国に国分寺と国分尼寺、都に東大寺が建てられた。
- (5) 下線部 e に関して、この文化について述べた文として適切なものを、次のア～エから1つ選んで、その符号を書きなさい。
- ア 紫式部は、かな文字を使用して『源氏物語』をあらわした。
 - イ 朝鮮の陶工が陶磁器の技術を伝え、有田焼などがつくられるようになった。
 - ウ 床の間を持つ書院造とよばれる建築様式が生まれた。
 - エ 天皇や貴族、庶民の和歌を広く集めた『万葉集』がまとめられた。
- (6) 下線部 f に関して、この時代の政治について述べた文として適切なものを、次のア～エから1つ選んで、その符号を書きなさい。
- ア 幕府は、親藩、譜代大名を要地に、外様大名を遠い地に配置した。
 - イ 將軍の補佐役である執権が幕府の実権を握るようになった。
 - ウ 守護が領国の武士を家来として従え、一国を支配する守護大名に成長した。
 - エ 幕府と藩が全国の土地と人民を支配する幕藩体制を確立した。
- (7) 下線部 g に関して、次の文中の には人物名を、 には当時の中国の国名をそれぞれ漢字で書きなさい。

南北朝を統一し、金閣を建てた は、正式な貿易船であることを証明するものとして図1を用いて、 との間で貿易をはじめた。

図1



(8) 下線部 h に関して、大名や商人の間に茶の湯が広まった。この時代に茶の湯を大成した人物名を漢字で書きなさい。

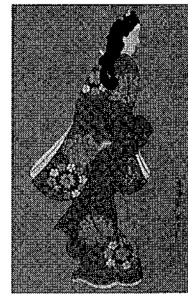
(9) 下線部 i に関して、この時代の社会のようすについて述べた文として適切なものを、次のア～エから1つ選んで、その符号を書きなさい。

- ア 商人や手工業者によって同業者ごとに座がつくられるようになった。
- イ 町衆とよばれる有力な商工業者によって自治を行う都市があらわれた。
- ウ 寺社の門前や交通の便のよいところに定期市が開かれるようになった。
- エ 西まわり航路や東まわり航路が整備され、船での輸送がさかんになった。

(10) 下線部 j に関して、図2のような美人画など町人の風俗をえがいた絵画を何というか、次のア～エから1つ選んで、その符号を書きなさい。

- ア 水墨画
- イ 浮世絵
- ウ 絵巻物
- エ 装飾画

図2



2 図3を見て、次の問いに答えなさい。

(1) 図3のAの時期における貿易額の変化の要因について述べた文として適切なものを、次のア～エから1つ選んで、その符号を書きなさい。

- ア 第一次世界大戦中に中国で革命がおきた影響により、日本は輸出額が伸びた。

- イ 日本は、第一次世界大戦に参戦しなかったため、戦争の影響を受けず、輸出額が伸びた。
- ウ 日本は、第一次世界大戦で得た賠償金で工業化を進め、輸出額が伸びた。
- エ 第一次世界大戦でヨーロッパ諸国がアジア市場から後退したため、日本は輸出額が伸びた。

(2) 図3のBの時期の社会のようすについて述べた文として適切なものを、次のア～エから1つ選んで、その符号を書きなさい。

- ア 大正デモクラシーの風潮の中、社会主義運動などの拡大をおさえるため、治安維持法が制定された。

- イ 戦争のために必要な労働力や物資を動員できるように、国家総動員法が制定された。
- ウ 社会主義運動に対して政府がきびしい取りしめりを行う中で、大逆事件がおこった。
- エ 米の値段が上がり米騒動がおこったあと、原敬を首相とする政党内閣が成立した。

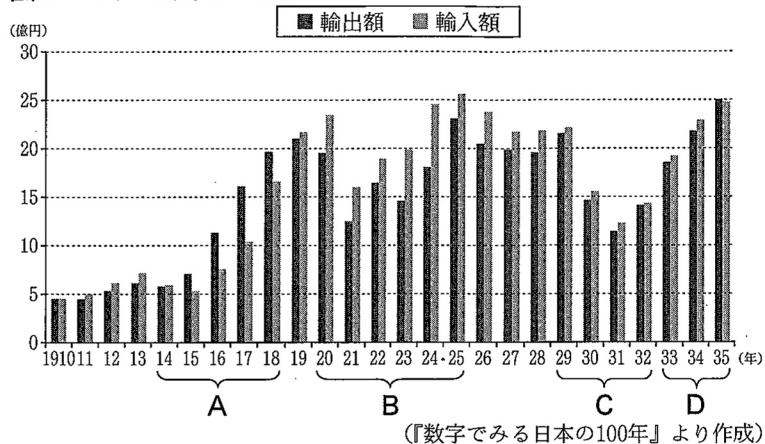
(3) 1929年に世界恐慌がおこり、図3のCの時期の貿易額にも影響をあたえた。世界恐慌への各国の対応について述べた文として適切なものを、次のア～エから1つ選んで、その符号を書きなさい。

- ア アメリカでは計画経済を実施し、重工業化と農業の集団化が進められた。
- イ ソ連ではスターリンが大規模な公共事業をおこし、失業者を救済する政策を行った。
- ウ イギリスでは植民地との貿易を拡大し、他国の商品をしめ出す政策がとられた。
- エ ドイツではヒトラーの率いるファシスト党政権が、軍備拡張を進め景気回復をはかった。

(4) 図3のDの時期におこったできごとについて述べた文として適切なものを、次のア～エから1つ選んで、その符号を書きなさい。

- ア 日本は日独伊三国同盟を結び、さらに北方の安全の確保のため日ソ中立条約を結んだ。
- イ 国際連盟が満州国を独立した国として認めなかったため、日本は国際連盟から脱退した。
- ウ 日本は大陸への影響力を警戒され、列強から遼東半島の返還をせまられた。
- エ 戦争での賠償金が得られなかったことへの不満から、日比谷焼き打ち事件がおこった。

図3 日本の貿易額の推移



Ⅲ 日本の政治や経済のしくみと私たちの生活に関するあとの問いに答えなさい。

1 日本国憲法に関する文章を読み、あとの問いに答えなさい。

1945年、日本はポツダム宣言を受け入れ、第二次世界大戦が終わった。その後、平和で民主的な社会をつくるため日本国憲法を制定した。

明治時代に制定された大日本帝国憲法では、天皇が主権をもち、軍隊を指揮、命令するとされた。また、国民の権利は法律の範囲内で認められていた。これに対し、日本国憲法は、国民が国のあり方を決める a 国民主権、個人を尊重する b 基本的人権の尊重、世界の恒久平和のために努力する c 平和主義の三つを基本原理としている。

国の権力には強制力があり、政治の権力が集中すると、人々の自由をおびやかすおそれがあるため、権力を分割し、たがいに抑制と均衡をはかる工夫がされている。日本国憲法では、国の権力は立法権・行政権・司法権の三権に分割され、それぞれ d 国会、内閣、e 裁判所が担当している。近年、司法を国民の身近なものにするために、f 司法制度改革が進められてきた。

- (1) 下線部 a に関して、国民主権に基づく制度について述べた文として適切なものを、次のア～エから1つ選んで、その符号を書きなさい。
- ア 衆議院と参議院の選挙制度は、一つの選挙区から一人の代表を選ぶ小選挙区制を取り入れている。
- イ 国会は、国民が選挙によって選んだ代表者によって構成され、国権の最高機関とされている。
- ウ 国会議員による審査により適任かどうか判断され、罷免させられることがあるのは、最高裁判所の裁判官のみである。
- エ 憲法は、各議院の総議員の過半数の賛成により、国会が発議し、国民投票で過半数の賛成があれば改正される。
- (2) 下線部 b に関して、日本国憲法によって保障される権利について述べた文として適切なものを、次のア～エから1つ選んで、その符号を書きなさい。
- ア 基本的人権は侵すことのできない永久の権利として保障されており、どのような場合でも制限を受けることはない。
- イ 自由権の中の精神の自由として、裁判官の令状がなければ逮捕されないことが保障されている。
- ウ すべての国民は法のもとに平等であり、人種や社会的身分などを理由に差別されない権利が保障されている。
- エ 大日本帝国憲法では、1919年に制定されたドイツのワイマール憲法で初めて保障された社会権が取り入れられ、日本国憲法に引き継がれた。
- (3) 下線部 c に関して、次の文中の に共通して入る略称をアルファベットで書きなさい。

国際連合を中心とした国際平和を実現するために、1992年、日本は 協力法を制定した。カンボジアや東ティモールなどの地域において に参加し、停戦を監視して、戦争の再発を防ぐ活動などを行った。

- (4) 下線部 d に関して、国会と内閣の関係について述べた文として適切なものを、次のア～エから1つ選んで、その符号を書きなさい。
- ア 内閣総理大臣は国会議員の中から国会の議決により指名され、内閣総理大臣はすべての国務大臣を国会議員の中から任命しなければならない。
- イ 内閣は、天皇の信任に基づいて成立し、国会に対して責任を負うしくみをとっており、これを議院内閣制という。
- ウ 法律には内閣が提出する法律案と議員が提出する法律案があり、衆議院と参議院の各院の本会議と委員会では審議される。
- エ 衆議院と参議院が内閣不信任の決議を行って内閣の責任を問うことができ、決議が可決された場合は、内閣は総辞職をしなければならない。
- (5) 下線部 e に関して、裁判のしくみと裁判所について述べた文として適切なものを、次のア～エから1つ選んで、その符号を書きなさい。

ア すべての裁判所には、法律や命令などが憲法に違反していないかどうかを判断する権限である違憲審査権（違憲立法審査権）があたえられている。

イ 被疑者は検察官によって起訴されると被告人となり、無罪の判決を受けるまでは有罪と推定される。

ウ 裁判は、大きく民事裁判と刑事裁判に分けられ、刑事裁判では原告、被告がそれぞれの考えを主張し、判決が下される。

エ 裁判官は裁判を行うにあたり、国会や内閣の意見を聞いた上で、自らの良心に従い、憲法及び法律にのみ拘束される。

(6) 下線部 f に関して、裁判員制度についての表 1、表 2 から読み取れることを述べた文として適切なものを、あとのア～エから 1 つ選んで、その符号を書きなさい。

表 1 裁判員裁判の実施状況

	2009年	2010年	2011年	2012年	2013年
平均実審理期間（日）	3.7	4.9	6.2	7.4	8.1
判決人数（人）	142	1506	1525	1500	1387

（最高裁判所ホームページより作成）

表 2 裁判員等経験者に対するアンケート結果

（2013年）

質問	回答			
	わかりやすかった	普通	わかりにくかった	その他
審理内容のわかりやすさ	66.6%	29.4%	2.4%	1.6%
評議における議論の充実度	十分に議論ができた 74.0%	わからない 17.5%	不十分であった 6.8%	その他 1.7%
裁判員に選ばれる前の気持ち	あまりやりたくなかった 31.3%	やってみたい 24.8%	やりたくなかった 18.0%	その他 25.9%
裁判員として裁判に参加した感想	非常によい経験と感じた 56.9%	よい経験と感じた 38.3%	あまりよい経験とは感じなかった 2.4%	その他 2.4%

（最高裁判所ホームページより作成）

ア 平均実審理期間が伸びているにもかかわらず、審理内容はわかりにくかったと思う人が多い。

イ 平均実審理期間が短くなっており、評議における議論の充実度が不十分であったと感じる人が多い。

ウ 判決人数が年々増加し続けており、裁判員に選ばれる前から裁判員をやってみたいと思っている人も多い。

エ 平均実審理期間が長くなっているにもかかわらず、裁判に参加した後は裁判員の経験を非常によかったと感じる人が多い。

2 第二次世界大戦後の日本の社会や経済に関する文章を読み、あとの問いに答えなさい。

<p>日本では表 3 に示すように、今まで 3 回のオリンピックが開催された。2013年、国際オリンピック委員会総会で、2020年オリンピック・パラリンピック競技大会の開催都市が東京に決定した。アジアでは初めての同じ都市での開催となる。</p> <p>高度経済成長期の1964年に開催された東京オリンピックは、第二次世界大戦後の日本のめざましい復興・発展の姿を示し、日本経済のさらなる発展にもつながった。</p>	<p>表 3</p> <table border="1"> <thead> <tr> <th>開催年</th> <th>開催都市</th> </tr> </thead> <tbody> <tr> <td>1964</td> <td>東京</td> </tr> <tr> <td>1972</td> <td>札幌</td> </tr> <tr> <td>1998</td> <td>長野</td> </tr> </tbody> </table>	開催年	開催都市	1964	東京	1972	札幌	1998	長野
開催年	開催都市								
1964	東京								
1972	札幌								
1998	長野								

(1) 東京、札幌オリンピックが開催された1960年代から1970年代前半の日本の社会や経済について述べた文として適切なものを、次のア～エから 1 つ選んで、その符号を書きなさい。

ア 石炭をおもなエネルギー源として、鉄鋼をはじめとする重化学工業が発展した。

イ 大気汚染や騒音などの公害が発生し、持続可能な社会へ向けて環境基本法が制定された。

ウ 新幹線が開通し、家庭では洗濯機や冷蔵庫などの家庭電化製品が普及した。

エ 国民の所得が上昇し、所得水準にかかわらず税率が一定である消費税が導入された。

(2) 長野オリンピックが開催された1990年代の日本の社会や経済について述べた文として適切なものを、次のア～エから 1 つ選んで、その符号を書きなさい。

- ア 不景気（不況）が続いたため、日本銀行は国債を売って市場に出まわってお金の量を増やし、景気を調整した。
- イ 政府は財政政策を実施し、景気の調整をはかったが、デフレーションとよばれる物価が上がる状態が続いた。
- ウ 土地や株式の価格が下がり、物価が異常に上がる「バブル」とよばれる好景気（好況）が続いた。
- エ 阪神・淡路大震災以降、ボランティアや社会貢献活動をおこなうNPOの活動がさかんになった。

(3) 下線部に関して、現在、オリンピックの開催地では、障害のある人を対象としたもうひとつのオリンピックであるパラリンピックも開催されている。人々がともに助け合う社会について述べた次の文中の に入る適切な語句をカタカナ6字で書きなさい。

通路の段差をなくしたり、駅にエレベーターを設置するなど、障害のある人や高齢者などにとっての身体的、精神的、社会的な障壁を取り除く とともに、誰もが使いやすいように配慮して施設、製品などを設計するユニバーサルデザインという考え方が推進されている。

図1 円のドルに対する為替相場（為替レート）

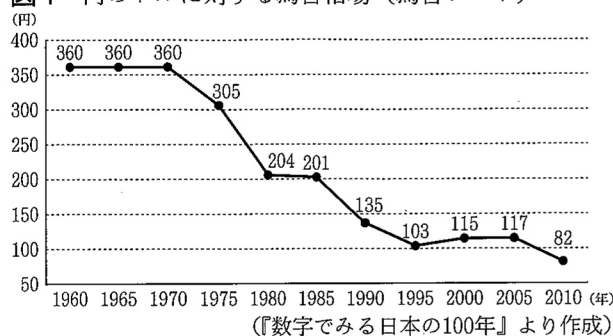
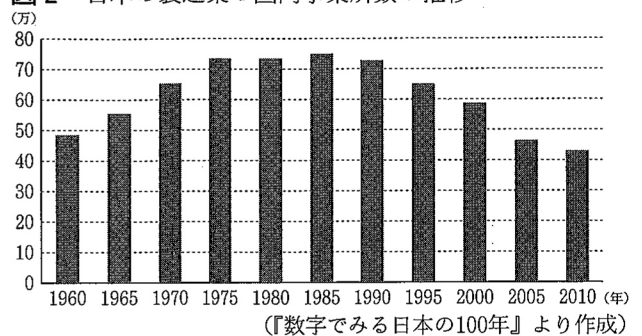


図2 日本の製造業の国内事業所数の推移



(4) 図1について述べた文として適切なものを、次のア～エから1つ選んで、その符号を書きなさい。

- ア 1ドル=201円から1ドル=103円になることを円高になるといい、日本にとっては輸入をする場合、一般に有利である。
- イ 1ドル=201円から1ドル=103円になることを円安になるといい、日本にとっては輸出をする場合、一般に有利である。
- ウ 1ドル=103円から1ドル=117円になることを円高になるといい、日本にとっては輸出をする場合、一般に有利である。
- エ 1ドル=103円から1ドル=117円になることを円安になるといい、日本にとっては輸入をする場合、一般に有利である。

(5) 図1～図3、表4、表5から読み取れることを述べた文として適切なものを、次のア～カから2つ選んで、その符号を書きなさい。

- ア 1960年代から1970年にかけて、為替相場が変化しなかったため、国内の製造業の事業所数に変化はなかった。
- イ 1980年代後半以降、為替相場の変動の影響を受け、日本の製造業で海外へ移転する企業が増加した。
- ウ 2000年以降、為替相場の影響を減らすため、日本の製造業でアメリカ合衆国へ移転する企業が増加した。
- エ 日本の製造業の現地法人数は増加しており、労働者の賃金が日本と同じ程度の国へ移転する企業が増加している。
- オ 日本の製造業は企業の利益を守るため、海外への進出を減らしている。
- カ 日本の製造業は生産にかかる費用を下げるため、アジアに移転する企業が増加している。

図3 日本の製造業の現地法人数の推移

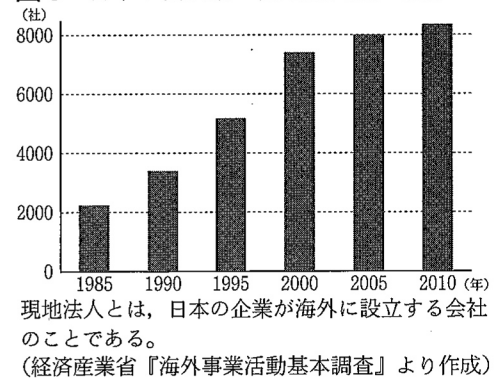


表4 日本の製造業の現地法人数の推移(国別)
(単位:社)

国名	2000年	2005年	2010年
アメリカ合衆国	1368	1221	998
イギリス	274	219	176
タイ	619	750	877
ベトナム	94	134	263

(経済産業省『海外事業活動基本調査』より作成)

表5 製造業における労働者の賃金
(2012年)

国名	日本を100とした割合
アメリカ合衆国	93.8
イギリス	91.1
タイ	7.5
ベトナム	2.9

タイ、ベトナムはそれぞれ首都であるバンコク、ハノイの数値である。

(『世界国勢図会』などより作成)