


平成 31 年 度

兵庫県公立高等学校学力検査問題

社 会

注 意

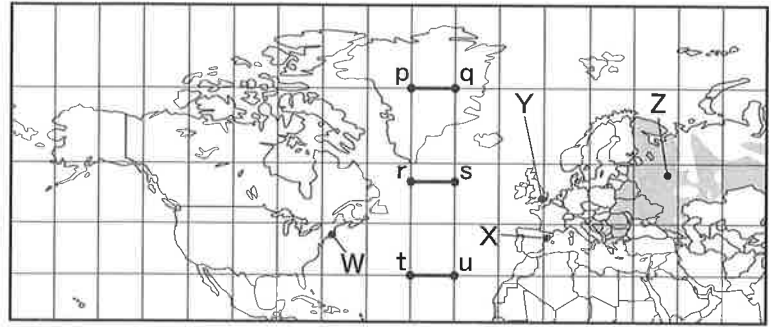
- 1 「開始」の合図があるまで開いてはいけません。
- 2 「開始」の合図で、1 ページから 8 ページまで問題が印刷されていることを確かめなさい。
- 3 解答用紙の左上の欄に受検番号を書きなさい。
- 4 解答用紙の  の得点欄には、何も書いてはいけません。
- 5 答えは、全て解答用紙の指定された解答欄に書きなさい。
- 6 問題は 3 題で、8 ページまであります。
- 7 「終了」の合図で、すぐ鉛筆を置きなさい。
- 8 解答用紙は、机の上に置いて、退室しなさい。

I 世界や日本の地理に関するあとの問いに答えなさい。

1 図1に関する次の問いに答えなさい。

(1) 図1は緯線と経線が直角に交わった地図である。図1中に示した2点間p-q, r-s, t-uの実際の直線距離について述べた文として適切なものを、次のア～エから1つ選んで、その符号を書きなさい。

図1

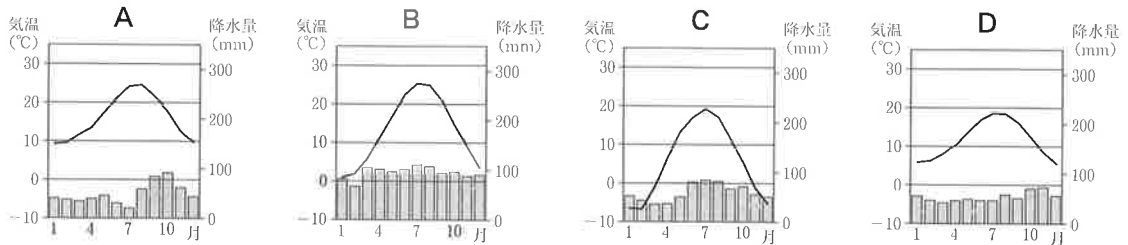


- ア p-q間が最も長い。
- イ r-s間が最も長い。
- ウ t-u間が最も長い。
- エ いずれの距離も同じである。

(2) 北アメリカ大陸の中央平原を流れ、メキシコ湾に注ぐ河川として適切なものを、次のア～エから1つ選んで、その符号を書きなさい。

- ア ドナウ川
- イ ライン川
- ウ ミシシッピ川
- エ アマゾン川

(3) 次のA～Dのグラフは、図1中の都市W～Zの気温と降水量を示している。グラフと都市の組み合わせとして適切なものを、あとのア～エから1つ選んで、その符号を書きなさい。



(『理科年表 平成31年』より作成)

- ア A-X B-W C-Z D-Y
- イ A-Z B-Y C-X D-W
- ウ A-Y B-Z C-W D-X
- エ A-W B-X C-Y D-Z

(4) 図1中の■で示された地域で、最も多くの人が信仰している宗教として適切なものを、次のア～エから1つ選んで、その符号を書きなさい。

- ア キリスト教の正教会
- イ ヒンドゥー教
- ウ イスラム教
- エ キリスト教のカトリック

(5) かずやさんは、夏休みの自由研究で、北アメリカとヨーロッパの主要産業である航空機について調べた。資料1～資料5は調査資料で、A～Cは調査資料から読み取ったことをまとめたものである。あとの問いに答えなさい。

資料1 航空宇宙工業輸出額 (2016年)

| 国名 | 輸出額 (百万ドル) |
|---------|------------|
| フランス | 53,352 |
| ドイツ | 44,444 |
| イギリス | 20,502 |
| アメリカ合衆国 | 13,708 |
| スペイン | 5,056 |

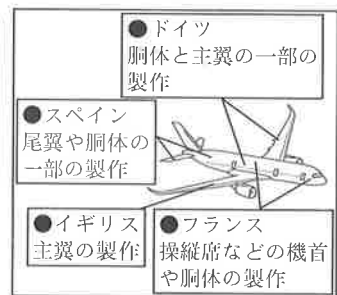
(『国際連合貿易統計年鑑』より作成)

資料3 各国の輸出上位品目 (上位5品目)

| 国名 | 1位 | 2位 | 3位 | 4位 | 5位 |
|---------|-----|-----|-------|------|--------|
| アメリカ合衆国 | 機械類 | 自動車 | 航空機 | 精密機械 | プラスチック |
| フランス | 機械類 | 自動車 | 航空機 | 医薬品 | 鉄鋼 |
| イギリス | 機械類 | 自動車 | 医薬品 | 原油 | 石油製品 |
| ドイツ | 機械類 | 自動車 | 医薬品 | 精密機械 | プラスチック |
| スペイン | 自動車 | 機械類 | 野菜・果実 | 石油製品 | 鉄鋼 |

(2006年)

資料5 国際分業のしくみの例



資料2 航空宇宙工業輸入額 (2016年)

| 国名 | 輸入額 (百万ドル) |
|---------|------------|
| フランス | 33,744 |
| アメリカ合衆国 | 31,028 |
| ドイツ | 19,726 |
| イギリス | 18,701 |
| スペイン | 4,211 |

(『国際連合貿易統計年鑑』より作成)

資料4 各国の輸出上位品目 (上位5品目)

| 国名 | 1位 | 2位 | 3位 | 4位 | 5位 |
|---------|-----|-----|-------|------|---------|
| アメリカ合衆国 | 機械類 | 自動車 | 石油製品 | 精密機械 | 医薬品 |
| フランス | 機械類 | 航空機 | 自動車 | 医薬品 | 精密機械 |
| イギリス | 機械類 | 自動車 | 医薬品 | 航空機 | 金(非貨幣用) |
| ドイツ | 機械類 | 自動車 | 医薬品 | 精密機械 | 航空機 |
| スペイン | 自動車 | 機械類 | 野菜・果実 | 衣類 | 医薬品 |

(2016年)

(『世界国勢図会』より作成)

- A アメリカ合衆国の航空機は2016年の輸出上位品目になく、航空宇宙工業輸入額はフランスの次に多い。
- B イギリスは主翼を製作しており、2006年の輸出上位品目でなかった航空機が2016年には入っている。
- C スペインの航空宇宙工業輸出額は50億ドルを超えているが、2016年の輸出上位品目に航空機はない。

- ① A～Cのいずれをも読み取るための調査資料として適切なものを、次のア～オから1つ選んで、その符号を書きなさい。
- ア 資料1 イ 資料2 ウ 資料3 エ 資料4 オ 資料5
- ② これらの調査資料からわかることとして適切なものを、次のア～エから1つ選んで、その符号を書きなさい。
- ア アメリカ合衆国の航空宇宙工業輸出額は、フランスの約4倍である。
- イ ヨーロッパ4か国の航空宇宙工業輸出入額においては、いずれの国も黒字である。
- ウ アメリカ合衆国の航空宇宙工業輸入額は、航空宇宙工業輸出額より少ない。
- エ 5か国の航空宇宙工業輸出入額においては、ドイツの黒字の額が最も少ない。

2 図2に関する次の問いに答えなさい。

- (1) 図2, 表1中のA・B・C・Dは本州四国連絡橋を示している。図2, 表1, 表2から読み取れることを述べた文として適切なものを、次のア～エから1つ選んで、その符号を書きなさい。
- ア 2000年と2016年の本州四国連絡橋の通行台数を比べると、全ての橋で増加しており、四国地方発全国着の貨物輸送量と北九州地方発全国着の貨物輸送量も増加している。
- イ 2000年と2016年の本州四国連絡橋の通行台数においては、明石海峡大橋より大鳴門橋の方がいずれも多い。
- ウ 2000年と2016年の本州四国連絡橋の通行台数を比べると、瀬戸大橋の増加量は、全ての橋の中で最も多い。
- エ 2000年と2016年の本州四国連絡橋の通行台数を比べると、明石海峡大橋は400万台以上増加しており、徳島県・兵庫県発着の乗合バス旅客輸送人員も増加している。

表1 本州四国連絡橋の通行台数 (台)

| 名称 (開通年) | 2000年 | 2016年 |
|-----------|-----------|------------|
| D (1985年) | 6,326,762 | 9,059,233 |
| B (1988年) | 5,352,201 | 8,030,869 |
| C (1998年) | 9,089,036 | 13,358,911 |
| A (1999年) | 1,467,785 | 2,727,319 |

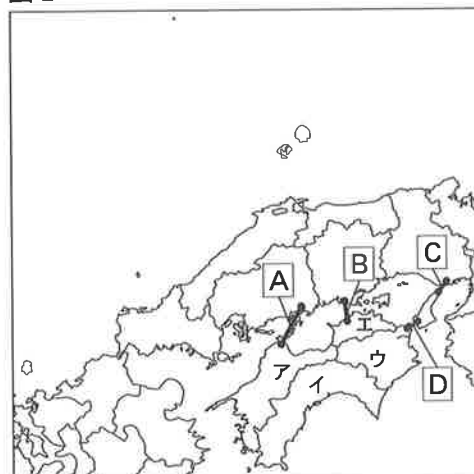
(四国運輸局『四国地方における運輸の動き』より作成)

表2

| | 2000年 | 2016年 |
|---------------------------|---------|---------|
| 四国地方発全国着の貨物輸送量 (千t) | 285,803 | 317,813 |
| 北九州地方発全国着の貨物輸送量 (千t) | 326,021 | 267,299 |
| 徳島県・兵庫県発着の乗合バス旅客輸送人員 (千人) | 618 | 712 |

(国土交通省『交通経済統計要覧』より作成)

図2



- (2) 表3中のE～Hは、図2中のア～エのいずれかの県を示している。G, Hにあたる県を図2中のア～エからそれぞれ1つ選んで、その符号を書きなさい。

表3 四国4県の人口と農作物の収穫量 (2016年)

| 県名 | 人口 (千人) | 収穫量 (t) | | | |
|----|---------|---------|--------|--------|---------|
| | | 小麦 | にんじん | なす | みかん |
| E | 750 | 151 | 52,000 | 8,200 | 12,900 |
| F | 972 | 4,710 | 3,080 | 1,910 | 13,000 |
| G | 1,375 | 496 | 554 | 3,670 | 127,800 |
| H | 721 | 10 | 856 | 38,900 | 7,030 |

(『データでみる県勢』より作成)

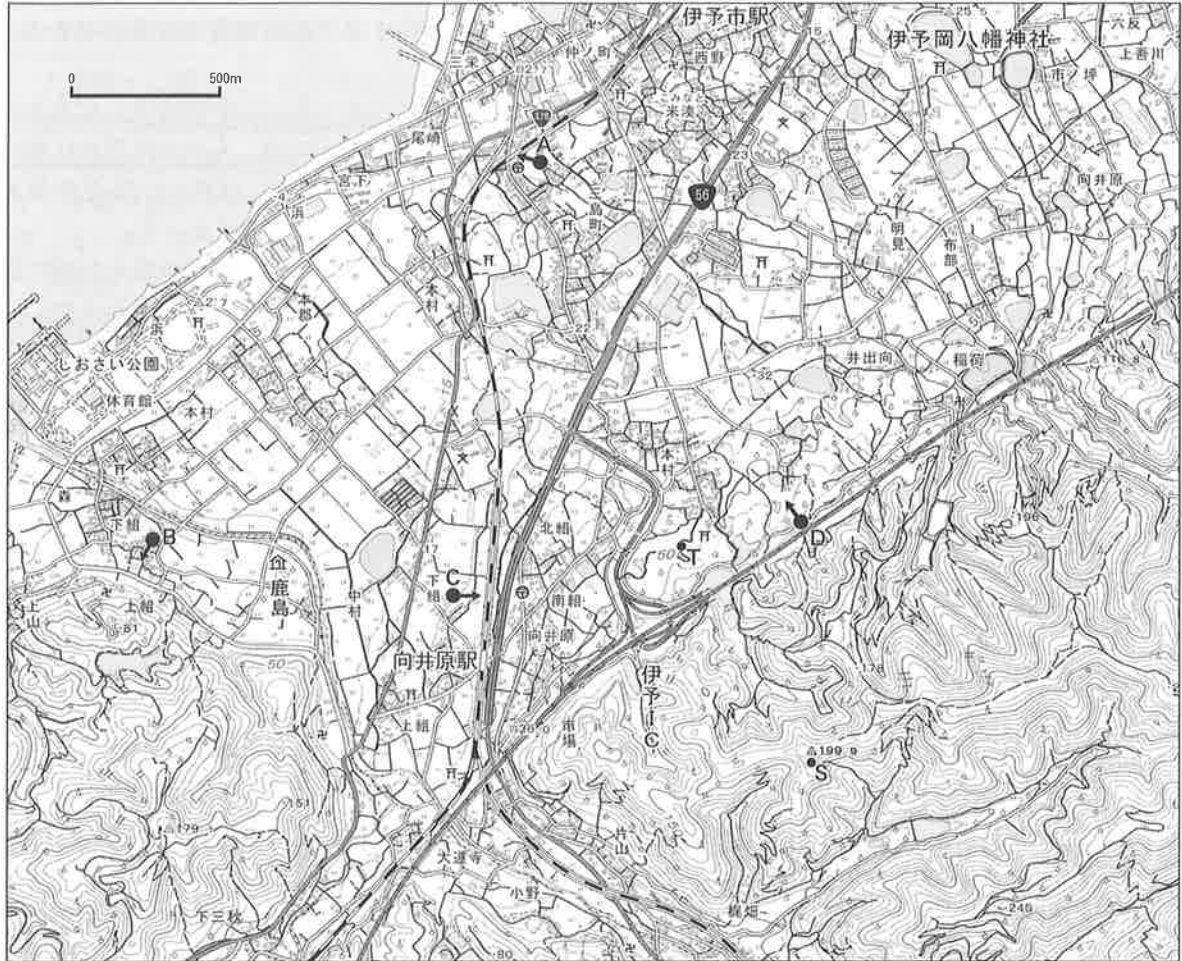
- (3) 小豆島の特産物について述べた次の文中の①～③に入る語句の組み合わせとして適切なものを、あとのア～エから1つ選んで、その符号を書きなさい。

瀬戸内は、中国山地と四国山地にはさまれ、夏と冬の①がさえぎられるため、晴天の日が比較的②、降水量が③地域であり、オリーブの栽培に適している。

- ア ① 偏西風 ② 少なく ③ 少ない イ ① 偏西風 ② 少なく ③ 多い
- ウ ① 季節風 ② 多く ③ 多い エ ① 季節風 ② 多く ③ 少ない

(4) 図3は愛媛県伊予市の一部を表している。あとの問いに答えなさい。

図3



(2万5千分の1地形図「伊予市」(2015年)を一部改変)

- ① 図3から読み取れることを述べた文として適切なものを、次のア～エから1つ選んで、その符号を書きなさい。
- ア 鹿島の老人ホームから向井原駅までは、直線距離で約750m離れている。
 - イ 鉄道で向井原駅から伊予市駅へ向かうと、西側に伊予岡八幡神社がある。
 - ウ 国道56号線沿いには、茶畑が広がっている。
 - エ 伊予ICの南側に、学校が2つある。
- ② 図3中のS地点とT地点の標高差に最も近いものを、次のア～エから1つ選んで、その符号を書きなさい。
- ア 50m イ 100m ウ 150m エ 200m
- ③ 次の写真(i), (ii)は、図3中のA～Dのいずれかの地点から矢印の方向を撮影したものである。撮影した写真の場所として適切なものを、図3中のA～Dからそれぞれ1つ選んで、その符号を書きなさい。

(i)

(ii)



II 歴史に関するあとの問いに答えなさい。

1 日本と世界の文化に関する文章を読み、あとの問いに答えなさい。

人類の祖先である新人は、a 洞くつに壁画を残している。約1万年前に最後の氷期が終わり、b 農耕や牧畜が始まった。

西アジアやインドの文化は、シルクロードを通して、c 日本に伝わった。d 平安時代になると多くの文学作品が生まれ、後に絵巻物の題材ともなった。また、絵巻物の中には、e 人々の生活や仏教の布教の様子をえがいたものもある。14世紀に f 幕府が鎌倉から京都に移る頃には新しい文化が生まれたが、15世紀に g 京都で戦乱がおきたことをきっかけに、中央の文化が地方に広まった。

17世紀末から h 都市の繁栄を背景に、i 元禄文化が栄えた。その後、j 化政文化が栄えた頃に葛飾北斎や歌川広重がえがいた浮世絵は、海外に伝わり、ヨーロッパの絵画に大きな影響を与えた。



- (1) 下線部 a に関して、図1はラスコーの壁画の一部である。この遺跡がある国名をカタカナで書きなさい。
- (2) 下線部 b に関して、日本の農耕について述べた次の文中の ①～③ に入る語句の組み合わせとして適切なものを、あとのア～エから1つ選んで、その符号を書きなさい。

兵庫県にある ① 時代の遺跡から出土した図2の ② には、秋の農作業と思われる様子がえがかれている。稲作が盛んになると、土地や水、たくわえた食料についての争いが ③ と考えられている。

- ア ① 縄文 ② 銅鐸 ③ 減った イ ① 縄文 ② 銅鏡 ③ 減った
 ウ ① 弥生 ② 銅鐸 ③ 増えた エ ① 弥生 ② 銅鏡 ③ 増えた

- (3) 下線部 c に関して、図3のような宝物が納められた東大寺の建築物を何というか、漢字3字で書きなさい。
- (4) 下線部 d に関して、この頃の世界の様子について述べた文として適切なものを、次のア～エから1つ選んで、その符号を書きなさい。
- ア 白村江の戦いの後に、新羅が朝鮮半島を統一した。
 イ 唐が滅亡し、その後、宋が中国を統一した。
 ウ モンゴル帝国のフビライは、都を大都に移した。
 エ イエズス会が海外に宣教師を派遣した。

- (5) 下線部 e に関して、備前国福岡の様子をえがいた図4について述べた文として適切なものを、次のア～エから1つ選んで、その符号を書きなさい。

図4



- ア 交通の要地であり、定期市が開かれて商品が並べられている。
 イ 禅宗を日本に伝えた栄西が、布教を行っている。
 ウ 楽市・楽座などの政策により、城下町に商人が集まっている。
 エ 役人による検地が行われ、村ごとに検地帳が作成されている。

- (6) 下線部 f に関して述べた①～③の文について、古いものから順に並べたものを、あとのア～カから1つ選んで、その符号を書きなさい。

- ① 奈良県の吉野で後醍醐天皇が正統の皇位にあることを主張した。
 ② 足利義満が京都の北山に金閣を建てた。
 ③ 建武の新政が始まると、「此比都ニハヤル物」という落書が二条河原にかかげられた。
- ア ①-②-③ イ ①-③-② ウ ②-①-③
 エ ②-③-① オ ③-①-② カ ③-②-①

(7) 下線部 g に関して述べた次の文中の [] に入る語句を、漢字 2 字で書きなさい。

1467年に始まった [] の乱では、鎌倉時代の戦い方と変わって集団戦法が広まった。戦場となった京都は焼け野原となり、幕府の影響力は失われていった。

(8) 下線部 h に関して、江戸時代の都市を結ぶ交通について述べた次の文 X と Y について、その正誤の組み合わせとして適切なものを、あとのア～エから 1 つ選んで、その符号を書きなさい。

X 手紙などを運ぶ飛脚が、街道を盛んに行き来した。

Y 木綿や酒などが、菱垣廻船や樽廻船で江戸から大阪へ大量に送られた。

ア X-正 Y-正 イ X-正 Y-誤 ウ X-誤 Y-正 エ X-誤 Y-誤

(9) 下線部 i に関して、この頃に活躍した人物として適切なものを、次のア～エから 1 つ選んで、その符号を書きなさい。

ア 千利休 イ 狩野永徳 ウ 近松門左衛門 エ 与謝蕪村

(10) 下線部 j に関して、この頃の様子について述べた文として適切なものを、次のア～エから 1 つ選んで、その符号を書きなさい。

ア スペインやポルトガルとの南蛮貿易で、ガラス製品が日本にもたらされた。

イ 李参平をはじめとする朝鮮人陶工により、有田焼がつくられるようになった。

ウ 朱印船貿易により、多くの日本人が、東南アジア各地に渡った。

エ 長崎に来たシーボルトが、多くの医学者を育てた。

2 次の資料に関するあとの問いに答えなさい。ただし、資料は一部書き改めたところがある。

- A 藩ヲ廢シ^な県ト為ス。
 B 要するに事務局は国際連盟を成立せしめ、その効果を發揮せしむる重要機関の一である。
 C 連合国は、日本国及びその領水に対する日本国民の完全な主権を承認する。

(1) A は、廃藩置県についての資料の一部である。廃藩置県が行われた頃の世界の様子を述べた文として適切なものを、次のア～エから 1 つ選んで、その符号を書きなさい。

ア イギリスでは、ピューリタン革命がおきて国王が処刑された。

イ アメリカが、フランスなどの支援を受けて独立戦争に勝利した。

ウ フランスでは、革命が始まり人権宣言が発表された。

エ ドイツが、ビスマルクの指導の下で統一帝国になった。

(2) B は、「国際連盟とは如何^どなるものか」という資料の一部である。この資料に関する次の文中の [①]、[②] に入る語句の組み合わせとして適切なものを、あとのア～エから 1 つ選んで、その符号を書きなさい。

[①] が事務局次長を務めた国際連盟は、アメリカの [②] 大統領の提案をもとに設立された。

- ア ① 新渡戸稻造 ② ウィルソン
 イ ① 陸奥宗光 ② リンカン (リンカーン)
 ウ ① 陸奥宗光 ② ウィルソン
 エ ① 新渡戸稻造 ② リンカン (リンカーン)

(3) C は、ある条約の一部である。この条約が結ばれた時期を、表中のア～エから 1 つ選んで、その符号を書きなさい。

(4) 平成になってからの時期に行われたことについて述べた文として適切なものを、次のア～エから 1 つ選んで、その符号を書きなさい。

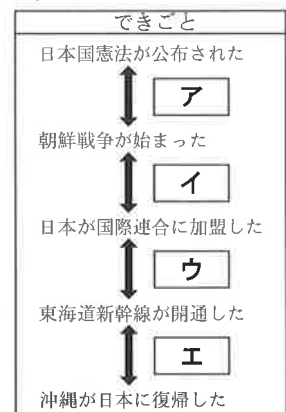
ア インドネシアのバンドンで、アジア・アフリカ会議が初めて開かれた。

イ 西ヨーロッパでは、ヨーロッパ共同体 (EC) が結成された。

ウ 石油危機の後、第 1 回先進国首脳会議 (サミット) が開かれた。

エ 日本では、湾岸戦争後に国際平和協力法 (PKO 協力法) が制定された。

表



Ⅲ 日本の政治や経済のしくみと私たちの生活に関するあとの問いに答えなさい。

1 地方自治に関する文章を読み、あとの問いに答えなさい。

私たちの暮らしは、それぞれが住んでいる地域社会の上に成り立っているので、a地域住民の幸せを実現するためには、地域課題を解決し、住民の意思を反映させる地域運営が大切である。b地方自治は、日本国憲法によって保障されており、c首長や地方議会が地方の運営を行い、住民自らの意思と責任で地方の政治に取り組むしくみである。

(1) 下線部 a に関して、次の問いに答えなさい。

① 次の文は兵庫県のユニバーサル社会づくりの推進に関する法の一部である。文中の に入る地方公共団体独自の法を何というか、漢字 2 字で書きなさい。

年齢、性別、障害の有無、言語、文化等の違いを問わず、全ての人が包摂され自信と尊厳を持って暮らすことのできるユニバーサル社会こそが豊かな社会である。兵庫県民が培ってきた「支え合う文化」を継承し、ユニバーサル社会を実現するため、この を制定する。

② この法にあるユニバーサル社会の趣旨に関係するものとして適切なものを、次のア～エから 1 つ選んで、その符号を書きなさい。

ア カルテル イ バリアフリー ウ クーリング・オフ エ デフレーション

(2) 下線部 b について述べた次の文 X と Y について、その正誤の組み合わせとして適切なものを、あとのア～エから 1 つ選んで、その符号を書きなさい。

X 住民が主体的に政治に参加する機会があることから、「民主主義の学校」と呼ばれる。

Y 住民には、首長の解職や議会の解散などを求める直接請求権が認められている。

ア X-正 Y-正 イ X-正 Y-誤 ウ X-誤 Y-正 エ X-誤 Y-誤

(3) 下線部 c に関して、次の問いに答えなさい。

① 都道府県の首長である知事の被選挙権年齢（満年齢）を解答欄に合わせて書きなさい。

② 国政と地方政治について、表 1～表 3、図 1 に関して述べた文として適切なものを、あとのア～エから 1 つ選んで、その符号を書きなさい。

表 1 国政と地方政治の役割

| | |
|------|---------------|
| 国 政 | 司法、安全保障、防衛など |
| 地方政治 | ごみの処理、消防、警察など |

(総務省ホームページなどより作成)

表 2 国から地方公共団体へ移行された事務・権限

| | |
|---|---|
| 例 | 看護師など各種資格者の養成施設等の指定・監督等 直轄道路・河川に係る整備等に関する計画、工事及び管理の実施等 |
|---|---|

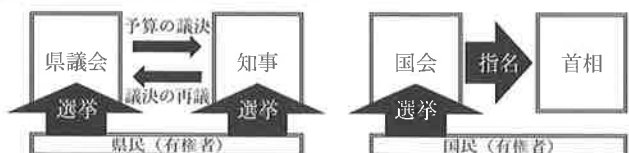
(内閣府ホームページより作成)

表 3 地方交付税交付金の推移 (兆円)

| | |
|-------|------|
| 2015年 | 16.7 |
| 2016年 | 15.2 |
| 2017年 | 15.4 |

(総務省ホームページより作成)

図 1 地方政治と国政のしくみ



(兵庫県議会、衆・参議院事務局ホームページなどより作成)

ア 地方公共団体間の財政格差を解消するために支給される地方交付税交付金が、年々増加し続けている。

イ 地方政治においては知事を県民が、また国政においては首相を国民が、それぞれ直接選挙で選んでいる。

ウ 地方分権により国から地方へ移行された事務や権限もあるが、国の安全を守る防衛は国政が担っている。

エ 県議会は知事に対して議決のやり直しを求め、知事は県議会に対して予算の議決を行い、お互いに抑制し合う関係にある。

③ 地方政治に関して述べた文として適切なものを、次のア～エから 1 つ選んで、その符号を書きなさい。

ア 法律や命令に対して、憲法に違反しているかどうかを判断するために、与えられた違憲審査権を行使している。

イ 景気の安定を図るために、国債を売買することで世の中に出回るお金の量を調整している。

ウ 環境問題の解決や自然環境保護のために、関係する法律を整備し、諸外国と条約を結んでいる。

エ 依存財源に頼らず、寄付を用いた制度を活用するなど、自主財源を確保する努力をしている。

2 日本の社会保障制度とその課題に関する文章を読み、あとの問いに答えなさい。

社会保障は、全ての国民が健康で文化的な最低限度の生活を営むことができるように、病気や失業などによって生活が困難になった人の生活を保障することである。日本の社会保障制度は、a 公的扶助、社会福祉、b 社会保険、公衆衛生の4つの柱が中心である。近年では、c 少子高齢化が進む中、安定した年金や医療費の給付に向けたd 財源確保の問題が生じるなど、e 社会保障の推進に向けた課題の早急な解決が求められている。

(1) 下線部 a について述べた文として適切なものを、次のア～エから1つ選んで、その符号を書きなさい。

- ア 病気や高齢、失業などで生活が困難になった際に、医療費の一部や年金を給付する。
- イ 高齢者や障害のある人など、社会的に弱い立場の人に対して、生活を保障する。
- ウ 収入が少なく生活に困っている人に対して、生活費や教育費などを支給する。
- エ 環境衛生の改善をはかって国民の健康を増進し、感染症の予防などを行う。

(2) 下線部 b に関して、介護保険制度を説明した次の文中の [①]、[②] に入る語句の組み合わせとして適切なものを、あとのア～エから1つ選んで、その符号を書きなさい。

原則として、[①] 以上の国民の [②] が加入し、介護が必要となったときに、国や地方公共団体などから、介護サービスが受けられる制度である。

- ア ① 40歳 ② 全員 イ ① 18歳 ② 全員
- ウ ① 40歳 ② 一部 エ ① 18歳 ② 一部

(3) 下線部 c に関して述べた次の文①～④のうち、正しいものの組み合わせとして適切なものを、あとのア～カから1つ選んで、その符号を書きなさい。

- ① 日本で1人の女性が一生に産む子どもの数の平均は、2000年から2.1人を上回っている。
- ② 高齢化が進んだ背景として、医療技術の進歩などにより、平均寿命が伸びたことがある。
- ③ 今後、高齢者を支える現役の若い世代の経済的負担が、年々軽くなると予想される。
- ④ 子どもを生み育てやすいように、保育所整備などの子育て支援での充実が求められている。


- ア ①・② イ ①・③ ウ ①・④ エ ②・③ オ ②・④ カ ③・④

(4) 下線部 d に関して、次の問いに答えなさい。

① 図2中の [R] に入る地方公共団体の借金を返すための費用として適切なものを、次のア～エから1つ選んで、その符号を書きなさい。

- ア 民生費
- イ 公債費
- ウ 教育費
- エ 商工費

図2 兵庫県民一人あたりの歳出決算額の割合 (2017年度)



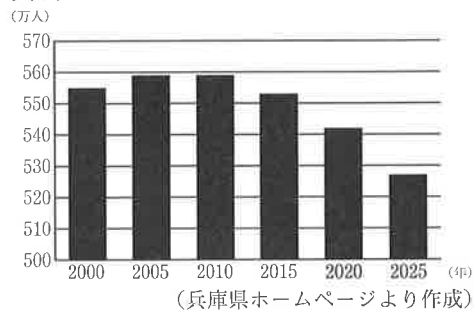
(兵庫県ホームページより作成)

② 税金のしくみに関して述べた文として適切でないものを、次のア～エから1つ選んで、その符号を書きなさい。

- ア 所得税は、個人の所得に対してかかる税金であり、所得の高い人ほど税率が高くなる累進課税の制度がとられている。
- イ 税金は、税を納める人と負担する人が同じ直接税と、税金を納める人と負担する人が異なる間接税の2種類の徴収方法に分けられる。
- ウ 税金には国税と地方税があり、国税には酒税や相続税、地方税には固定資産税やゴルフ場利用税がある。
- エ 消費税は、所得に関係なく税率が変動し、所得の低い人ほど負担が軽くなるので公平である。

- (5) 下線部 e に関して、ちはるさんは、社会科の授業で兵庫県に関する資料 1～資料 5 を参考にして、グループで話し合った。資料から読み取れる現状と課題設定について述べた次の文中の ① ～ ③ に入る語句の正しい組み合わせとして適切なものを、あとのア～カから 1 つ選んで、その符号を書きなさい。

資料 1 人口推移と将来推計



資料 3 要介護認定者数の将来推計

| | 75歳以上の認定者数 (万人) |
|--------|-----------------|
| 2018年度 | 26.5 |
| 2019年度 | 27.3 |
| 2020年度 | 28.0 |
| 2025年度 | 32.3 |

(『兵庫県老人福祉計画』より作成)

資料 2 年齢別人口割合の推計

| | 0～14歳 | 15～64歳 |
|-------|-------|--------|
| 2015年 | 12.8% | 60.0% |
| 2020年 | 12.2% | 58.3% |
| 2025年 | 11.5% | 57.7% |

(国立社会保障・人口問題研究所ホームページより作成)

資料 4 年齢区分別の転入超過人口

| | 2015年 | 2016年 | 2017年 |
|--------|--------|--------|--------|
| 0～4歳 | +212 | +488 | +436 |
| 5～9歳 | -16 | +107 | -40 |
| 10～14歳 | -62 | -92 | -56 |
| 15～19歳 | +226 | -73 | -123 |
| 20～24歳 | -3,219 | -3,696 | -3,997 |
| 25～29歳 | -2,299 | -2,047 | -1,994 |
| 30～34歳 | -898 | -810 | -572 |
| 35～39歳 | -501 | -144 | -122 |
| その他 | -852 | -493 | -189 |

(『兵庫2030年の展望』関連資料などより作成)

資料 5 人口の転出入状況

| | 2011年 | 2012年 | 2013年 | 2014年 | 2015年 | 2016年 | 2017年 |
|------|--------|--------|--------|--------|--------|--------|--------|
| 転入 | 93,085 | 90,850 | 88,382 | 86,390 | 87,946 | 85,933 | 85,438 |
| 転出 | 91,851 | 92,145 | 93,596 | 93,482 | 95,355 | 92,693 | 92,095 |
| 転入超過 | +1,234 | -1,295 | -5,214 | -7,092 | -7,409 | -6,760 | -6,657 |

(『兵庫2030年の展望』関連資料より作成)

【資料から読み取れる現状と課題設定】

ちはるさん： 65歳以上の高齢者の割合は2025年には ① を超えますね。
 つかささん： そうだね。将来、65歳以上の高齢者の割合は高くなると予測されていますね。
 ひかるさん： 今後、特に75歳以上の要介護認定者数は ② と予測されることから、今まで以上に介護サービスが重要になってくるね。
 ひろみさん： 人口の転出入状況を見ると、2012年以降、転出が転入を上回る傾向にありますね。さらに、年齢区分別の転入超過人口の状況を見ると、20～24歳の転出が多いですね。
 ちはるさん： 兵庫県のことを調べてみると、今後さらに進行する ③ について考える必要があるとわかりました。また、兵庫県に移り住んで来る人を増やすために、地域全体で支援するしくみを考え、将来にわたり活力に満ちた地域づくりを一層進めていくことが大切ですね。

- ア ① 30% ② 減少する ③ 人口増加
 イ ① 50% ② 減少する ③ 人口減少
 ウ ① 30% ② 増加する ③ 人口増加
 エ ① 50% ② 減少する ③ 人口増加
 オ ① 30% ② 増加する ③ 人口減少
 カ ① 50% ② 増加する ③ 人口減少