


令和 3 年 度

兵庫県公立高等学校学力検査問題

社 会

注 意

- 1 「開始」の合図があるまで開いてはいけません。
- 2 「開始」の合図で、1 ページから 8 ページまで問題が印刷されていることを確かめなさい。
- 3 解答用紙の左上の欄に受検番号を書きなさい。
- 4 解答用紙の  の得点欄には、何も書いてはいけません。
- 5 答えは、全て解答用紙の指定された解答欄に書きなさい。
- 6 問題は 3 題で、8 ページまであります。
- 7 「終了」の合図で、すぐ鉛筆を置きなさい。
- 8 解答用紙は、机の上に置いて、退室しなさい。

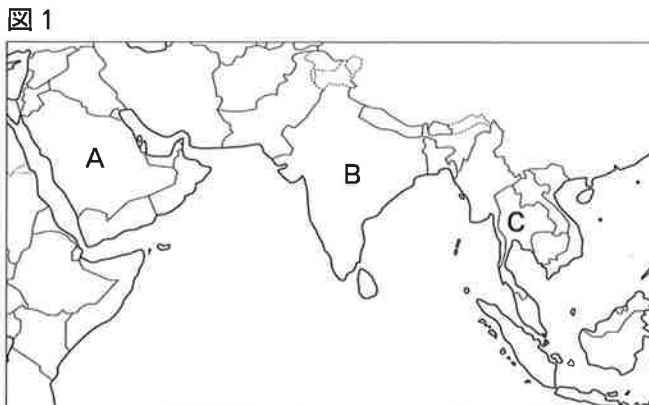
I 世界や日本の地理に関するあとの問いに答えなさい。

1 図1に関する次の問いに答えなさい。

- (1) 図1に関して述べた次の文中の **i** , **ii** に入る語句の組み合わせとして適切なものを、あとのア～エから1つ選んで、その符号を書きなさい。

船でアフリカ東岸から南アジアへ向かう場合、**i** 頃であれば追い風を受けて航海することができる。
この地域の風は、夏と冬で向きを変える特徴があり、この風を **ii** という。


- ア i - 1月 ii - モンスーン
イ i - 7月 ii - モンスーン
ウ i - 1月 ii - ハリケーン
エ i - 7月 ii - ハリケーン



- (2) 図2のX～Zは、それぞれ図1のA～Cいずれかの国の宗教別人口構成を示している。そのうちA, BとX～Zの組み合わせとして適切なものを、次のア～カから1つ選んで、その符号を書きなさい。

- ア A-X B-Y イ A-X B-Z
ウ A-Y B-X エ A-Y B-Z
オ A-Z B-X カ A-Z B-Y

図2 ■イスラム教 □ヒンドゥー教 ▨仏教 ▩キリスト教 ▪その他



(『データブック オブ・ザ・ワールド』より作成)

- (3) 写真1は、図1のAで見られる気候帯の伝統的な家屋である。この家屋の説明として適切なものを、次のア～エから1つ選んで、その符号を書きなさい。

- ア 遊牧を行っているため、解体や組み立てがしやすいように建てられている。
イ 湿気がこもらないようにするため、大きな窓や入口を設け、石を組んで建てられている。
ウ 風通しを良くするため、床を地面から離して木材で建てられている。
エ 森林が少なく木材を得にくいいため、日干しレンガを積み上げて建てられている。

写真1



- (4) 図1のBの産業について述べた次の文X, Yについて、その正誤の組み合わせとして適切なものを、あとのア～エから1つ選んで、その符号を書きなさい。

- X 理数教育の水準の高さなどを背景とし、バンガロールを中心にIT産業が発展している。
Y 自動車産業の分野では、日本をはじめとする外国の企業が進出している。
ア X-正 Y-正 イ X-正 Y-誤
ウ X-誤 Y-正 エ X-誤 Y-誤

- (5) 表1は、図1のCとベトナムの輸出品目について、2001年と2018年における輸出額が上位の品目の輸出総額に占める割合を示したものであり、X, Yには品目名が入る。X, Yの組み合わせとして適切なものを、次のア～エから1つ選んで、その符号を書きなさい。

表1

	C				ベトナム			
		2001年 (%)	2018年 (%)		2001年 (%)	2018年 (%)		
ア X-機械類 Y-魚介類	1位	X 42.0	X 31.2	1位	原油 20.8	X 40.4		
イ X-機械類 Y-鉄鋼	2位	Y 6.2	自動車 12.1	2位	衣類 12.0	衣類 11.9		
ウ X-果実類 Y-魚介類	3位	衣類 5.6	プラスチック 4.7	3位	Y 12.0	はきもの 6.9		
エ X-果実類 Y-鉄鋼	4位	繊維品 2.9	石油製品 3.7	4位	はきもの 10.8	Y 3.5		
	5位	プラスチック 2.9	ゴム製品 2.9	5位	X 5.5	繊維品 3.4		
	6位	米 2.4	金属製品 2.6	6位	米 4.2	精密機械 3.1		

(『世界国勢図会』より作成)

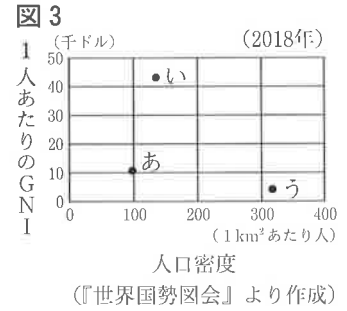
(6) 表2はマレーシア、スリランカ、アラブ首長国連邦の人口を示している。図3は1人あたりの国民総所得（GNI）と人口密度を示しており、あ～うはマレーシア、スリランカ、アラブ首長国連邦のいずれかである。マレーシアとスリランカにあたるものの組み合わせとして適切なものを、次のア～カから1つ選んで、その符号を書きなさい。

- ア マレーシアーあ スリランカーい
 イ マレーシアーあ スリランカーう
 ウ マレーシアーい スリランカーあ
 エ マレーシアーい スリランカーう
 オ マレーシアーう スリランカーあ
 カ マレーシアーう スリランカーい

表2 (2018年)

国名	人口(千人)
マレーシア	32,042
スリランカ	20,950
アラブ首長国連邦	9,542

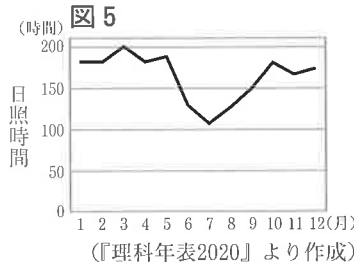
(『世界国勢図会』より作成)



2 図4に関する次の問いに答えなさい。

(1) 図5は、図4のAにおける日照時間の月別平均値を示している。Aの夏季の特徴と関連が深い要因の組み合わせとして適切なものを、あとのア～エから1つ選んで、その符号を書きなさい。


- a 白夜 b 濃霧
 c 千島海流(親潮)
 d 対馬海流
 ア a・c イ a・d
 ウ b・c エ b・d



(2) 北海道地方の生活に関して述べた次の文中の [i], [ii] に入る語句の組み合わせとして適切なものを、あとのア～エから1つ選んで、その符号を書きなさい。

写真2の標識は、[i] を示したものであり、冬に自動車が安全に通行できるための工夫がなされている。
 また、この地方特有の自然環境を観光に活用する例もみられ、オホーツク海沿岸では [ii] を見学するツアーが行われている。

写真2



- ア i 急な上り坂 ii 流水 イ i 急な上り坂 ii 有珠山
 ウ i 路肩の位置 ii 流水 エ i 路肩の位置 ii 有珠山

(3) 図4のp～sに関して述べた文として適切でないものを、次のア～エから1つ選んで、その符号を書きなさい。

- ア pは、土地や品種の改良により自然環境を克服し、米の産地となっている。
 イ qは、多くの野生生物が生息する貴重な生態系が評価され、世界遺産に登録された。
 ウ rは、北方領土のうち、面積が最も大きい島である。
 エ sは、日本が水産資源や鉱産資源を管理できる排他的経済水域に含まれる。

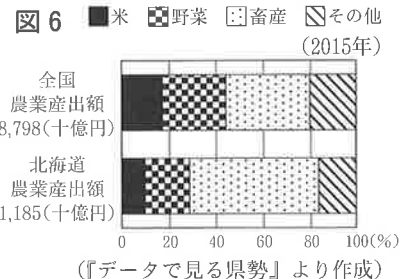
(4) 表3、図6から読み取れる全国と北海道の農業の特徴について述べた次の文X、Yについて、その正誤の組み合わせとして適切なものを、あとのア～エから1つ選んで、その符号を書きなさい。

X 耕地面積に占める田の面積の割合、農業産出額に占める米の割合とも北海道が全国を下回っている。

表3 (2015年)

	全国	北海道
耕地面積(千ha)	4,496	1,147
耕地面積(田)(千ha)	2,446	223
人口(千人)	127,095	5,382
農業従事者(千人)	3,399	104

(『データで見る県勢』より作成)

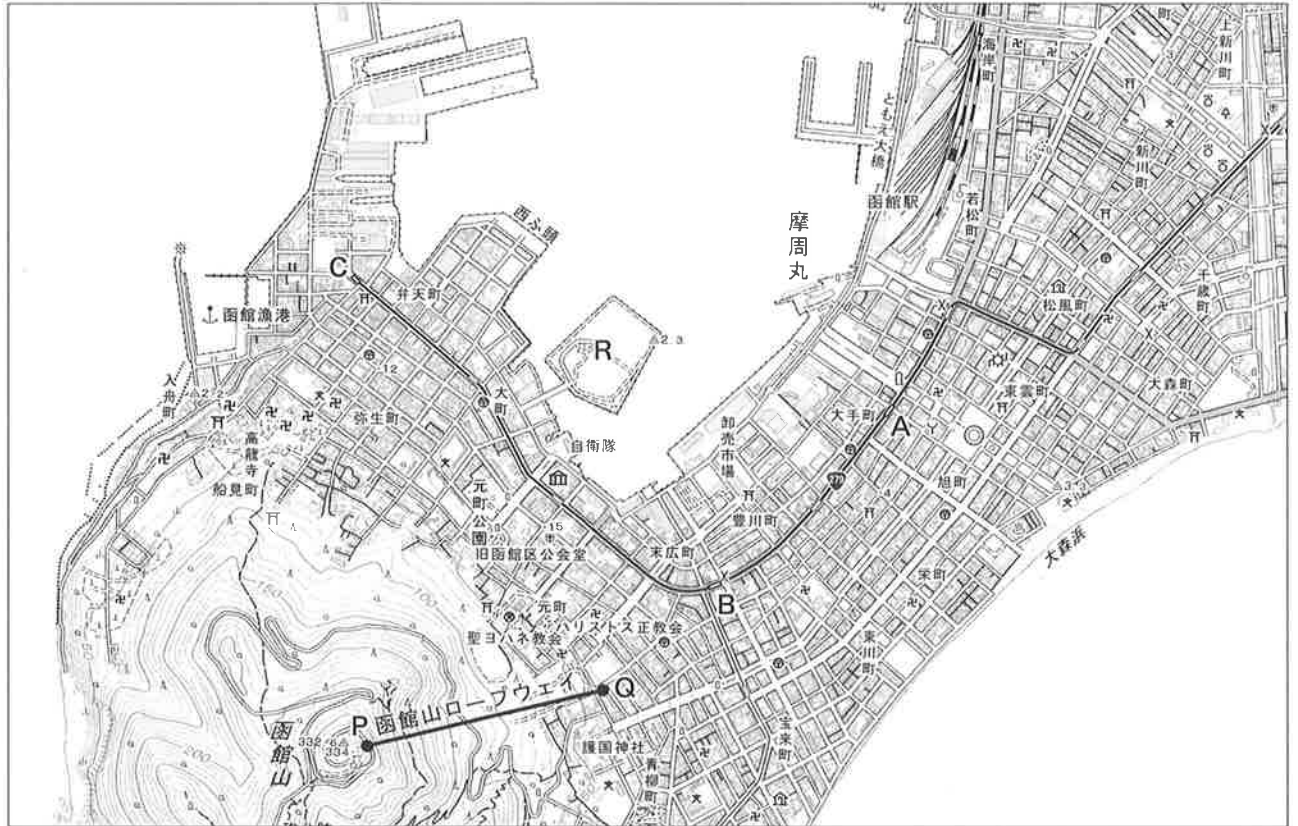


Y 人口に占める農業従事者の割合は北海道が全国を上回っているが、農業従事者1人あたりの農業産出額は、北海道が全国を下回っている。

- ア X-正 Y-正 イ X-正 Y-誤 ウ X-誤 Y-正 エ X-誤 Y-誤

(5) 図7を見て、あとの問いに答えなさい。

図7



(2万5千分の1地形図「函館」(2017年)を一部改変)

- ① この地域について述べた次の文の下線部ア～エのうち、図7から読み取れることとして適切でないものを1つ選んで、その符号を書きなさい。

市役所から、かつて青函連絡船として運航し現在は記念館として活用されている摩周丸の方向へと進むと、ア国道279号線と交差する付近に記念碑が立っている。アの駅から路面鉄道に乗り、Bの駅を通過してイの駅へ進む途中には博物館がある。ウの駅と函館山の間には寺院や神社が見られ、エ函館山北側の斜面には果樹園が広がっている。

- ② 図7の函館山ロープウェイの山頂駅Pと山麓駅Qの地形図上の長さを測ると約3.2cmである。実際の距離に最も近いものを、次のア～エから1つ選んで、その符号を書きなさい。

ア 320m イ 800m ウ 1.6km エ 8.0km

- ③ 次の景観は、図7のRの上空から東、西、南、北いずれかの向きを見たものである。西向きものを次のア～エから1つ選んで、その符号を書きなさい。



ア



イ



ウ



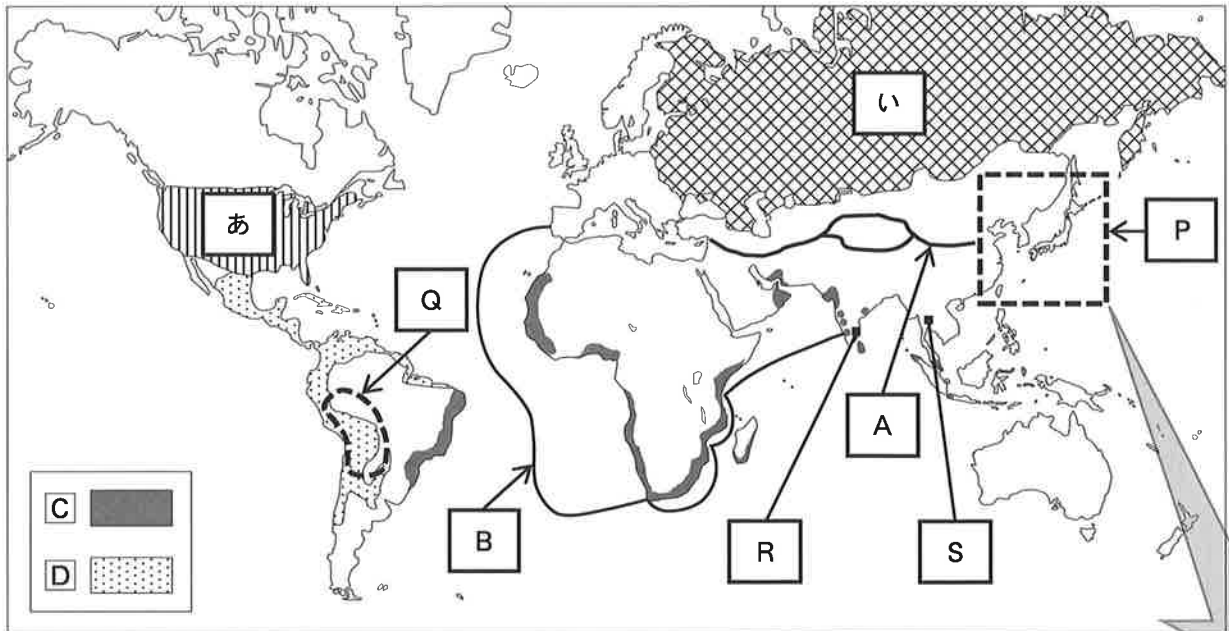
エ

(Google Mapsより作成)

II 歴史に関するあとの問いに答えなさい。

1 次の世界地図に関して、あとの問いに答えなさい。

世界地図




(1) 世界地図中の **A** について、ユーラシアの東西を結ぶこの交易路を何というか、解答欄に合わせて漢字1字で書きなさい。


(2) 世界地図中の **P** に関するあとの問いに答えなさい。

① 7世紀の状況を示した次の説明があてはまる場所として適切なものを、図1の **ア**～**エ** から1つ選んで、その符号を書きなさい。

日本は白村江の戦いの後、唐・新羅の攻撃から防衛の拠点を守るため、朝鮮式山城である大野城を築いた。

② 9世紀に遣唐使船で唐にわたって仏教を学び、帰国後、高野山に金剛峯寺を建てて真言宗を広めた人物名を、漢字2字で書きなさい。

③ 図1の  で示した場所について述べた次の文中の **i**、**ii** に入る語句の組み合わせとして適切なものを、あとの **ア**～**エ** から1つ選んで、その符号を書きなさい。

東アジアでは、 の場所を海賊行為で荒らしていた **i** の取り締まりが課題となっていたので、正式な貿易船に勘合を持たせる日中間の貿易が、**ii** 時代に行われた。

ア i 倭寇 ii 鎌倉 **イ** i 元寇 ii 鎌倉 **ウ** i 倭寇 ii 室町 **エ** i 元寇 ii 室町

(3) 世界地図を見て、15世紀～16世紀頃のできごとに関するあとの問いに答えなさい。

① **B** は航路、**C**、**D** はある国の支配領域を示している。ヨーロッパで初めて **B** の航路を開拓した国と人物名、また、その国が支配した領域の組み合わせとして適切なものを、次の **ア**～**カ** から1つ選んで、その符号を書きなさい。

ア スペイン — コロンブス — **C** **イ** スペイン — コロンブス — **D**

ウ ポルトガル — コロンブス — **C** **エ** スペイン — バスコ=ダ=ガマ — **D**

オ ポルトガル — バスコ=ダ=ガマ — **C** **カ** ポルトガル — バスコ=ダ=ガマ — **D**

② この頃のヨーロッパの様子を説明した次の文中の **i**、**ii** に入る語句の組み合わせとして適切なものを、あとの **ア**～**エ** から1つ選んで、その符号を書きなさい。

教皇が免罪符（しょくゆう状）を売り出すと、ドイツの **i** はこれを批判して宗教改革を始めた。カトリック教会はこれに対抗し、その中心となったイエズス会は **ii** などの宣教師を海外へ派遣した。

ア i ルター ii ザビエル **イ** i ルター ii シーボルト

ウ i クロムウェル ii ザビエル **エ** i クロムウェル ii シーボルト

- ③ この頃、世界経済に影響を与えた **Q** の地域の産物として適切なものを、次の **ア**～**エ** から1つ選んで、その符号を書きなさい。

ア 茶 **イ** 銀 **ウ** 陶磁器 **エ** 綿織物

- ④ 次の資料に示すものが1543年に伝わった場所と、その後、生産の中心となり織田信長が自治権をうばった都市を図2の **a**～**f** から選び、その組み合わせとして適切なものを、あとの **ア**～**ク** から1つ選んで、その符号を書きなさい。

手に一物を携ふ。長さ二三尺、其の体為るや中は通り外は直くして、重きを以て質と為す。其の中は常に通ずと雖も、其の底は密しく塞がんことを要す。其の傍に一穴あり、火を通ずるの路なり。

ア a-e **イ** a-f **ウ** b-e **エ** b-f
オ c-e **カ** c-f **キ** d-e **ク** d-f

- (4) 世界地図中の **R**、**S** は町を示している。17世紀前半に行われた朱印船貿易における主な輸入品と日本人が居住した日本町の組み合わせとして適切なものを、次の **ア**～**エ** から1つ選んで、その符号を書きなさい。

ア 生糸-**R** **イ** 生糸-**S** **ウ** 俵物-**R** **エ** 俵物-**S**

- (5) 世界地図中の **あ**、**い** は国を示している。次の資料はオランダから江戸幕府に伝えられた海外情報の一部である。この情報がもたらされた後におこったできごととして正しいものを、**X**、**Y** から選びなさい。また、選んだ文により説明されている国を **あ**、**い** から選び、その組み合わせとして適切なものを、あとの **ア**～**エ** から1つ選んで、その符号を書きなさい。

…日本の一、二の港へ出入するを許されん事を願ひ、且又相応なる港を以て石炭の置場と為すの許を得て、…

X ラクスマンが根室に来航し、日本の漂流民を送り届けるとともに、通商を求めた。

Y ペリーが浦賀に来航し、貿易船や捕鯨船などへの燃料の提供を要求した。

ア X-**あ** **イ** X-**い** **ウ** Y-**あ** **エ** Y-**い**

2 近代の国際関係に関する文章を読み、あとの問いに答えなさい。

東アジアの伝統的な国際関係は、^a **明治時代**以降に日本が近代化を果たしたことにより、大きく変化した。アジア諸国から日本への留学生が増加する一方で、中国では を倒して近代国家をつくる運動が高まり、^b **孫文** は東京などで革命運動を進めた。

- (1) 下線部 **a** に関して、明治時代の日本の様子について述べた文として 適切でないもの を、次の **ア**～**エ** から1つ選んで、その符号を書きなさい。

ア 近代産業の育成を図るため、群馬県に富岡製糸場を設立した。

イ 関門海峡を通過する外国船を砲撃したが、4か国の連合艦隊に砲台を占領された。

ウ 衆議院と貴族院で構成される議会の同意により、予算や法律が成立するようになった。

エ 条約改正を進める政府は、国際的なきまりに従い、国境を定めた。

- (2) 文中の に入る当時の中国の国名を漢字1字で書きなさい。

- (3) 下線部 **b** に関して、次の問いに答えなさい。

① 孫文が東京で活動していた1905年に、アメリカの仲介により日本とロシアの間で結ばれた条約名を、解答欄に合わせてカタカナで書きなさい。

② 孫文の動向に関して述べた **P**～**R** の文について、古いものから順に並べたものを、あとの **ア**～**カ** から1つ選んで、その符号を書きなさい。

P 民衆の力を革命に生かそうとして、孫文は中国国民党を結成した。

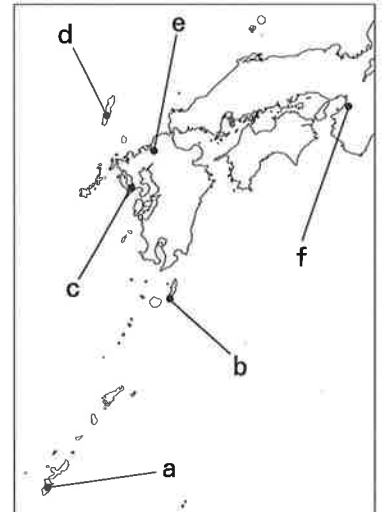
Q 孫文は、加藤高明内閣が成立していた日本で演説し、新聞や雑誌で広く報道された。

R 孫文にかわって袁世凱が臨時大總統となった。

ア P-Q-R **イ** P-R-Q **ウ** Q-P-R

エ Q-R-P **オ** R-P-Q **カ** R-Q-P

図2



Ⅲ 政治や経済のしくみと私たちの生活に関するあとの問いに答えなさい。

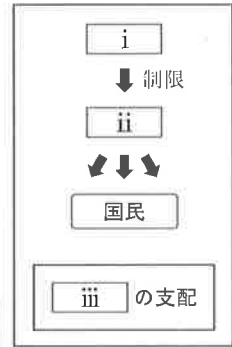
1 政治に関する文章を読み、あとの問いに答えなさい。

政治には様々な原則があるが、近代になると、a 政治権力も民主的に定められた法に従わなければならないという考えが発達した。現在の日本では、憲法で b 国民が政治のあり方を最終的に決めることを定めており、 c 権力を分割し互いに抑制と均衡をはかり、 d 国民の権利や自由を守っている。私たちは、現在のしくみやきまりを理解したうえで積極的に社会に参画し、私たち自身のために、よりよい社会の実現をめざして行動することが必要となる。

(1) 下線部 a を説明した資料 1 の ~ に入る語句の組み合わせとして適切なものを、次のア~エから 1 つ選んで、その符号を書きなさい。

- | | | | |
|---|------------|-------------|-------|
| ア | i 国王・君主・政府 | ii 法 | iii 法 |
| イ | i 国王・君主・政府 | ii 法 | iii 人 |
| ウ | i 法 | ii 国王・君主・政府 | iii 法 |
| エ | i 法 | ii 国王・君主・政府 | iii 人 |

資料 1



(2) 下線部 b について、日本国憲法の前文と第 1 条に明記されている民主主義の基本原則を何というか、漢字 4 字で書きなさい。

(3) 下線部 c に関して、次の問いに答えなさい。

資料 2



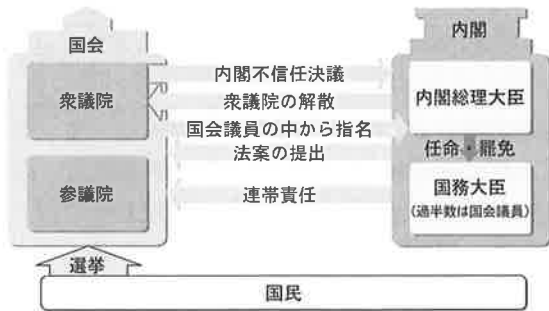
① 18世紀に権力分立を説いた資料 2 のフランスの人物名をカタカナで書きなさい。

② 日本とアメリカの政治のしくみを示した資料 3、4 に関して述べた次の文中の ~ に入る語句の組み合わせとして適切なものを、あとのア~カから 1 つ選んで、その符号を書きなさい。

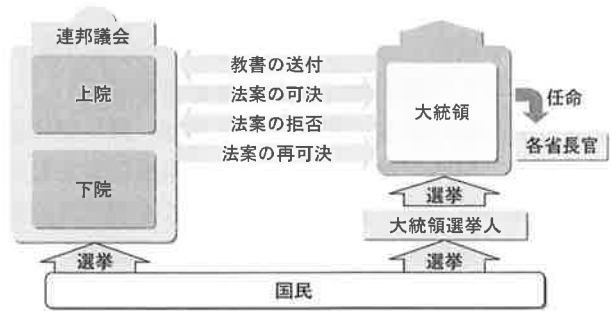
国民が議会の議員と行政府の長を別々の選挙で選ぶ では、行政府が 。一方、 では、行政府が立法府に連帯して責任を負う を採用している。

- | | | | | |
|---|--------|--------------|----------|----------|
| ア | i 日本 | ii 法案を提出できる | iii アメリカ | iv 直接民主制 |
| イ | i 日本 | ii 法案を提出できない | iii アメリカ | iv 直接民主制 |
| ウ | i 日本 | ii 法案を提出できない | iii アメリカ | iv 議院内閣制 |
| エ | i アメリカ | ii 法案を提出できる | iii 日本 | iv 議院内閣制 |
| オ | i アメリカ | ii 法案を提出できない | iii 日本 | iv 議院内閣制 |
| カ | i アメリカ | ii 法案を提出できない | iii 日本 | iv 直接民主制 |

資料 3



資料 4



(4) 下線部 d に関して、日本の裁判制度について述べた文として適切なものを、次のア~エから 1 つ選んで、その符号を書きなさい。

- ア 最高裁判所の裁判官は、国民審査により適任かどうか判断される。
- イ 裁判が公正に行われるように、原則として非公開の法廷で実施される。
- ウ 民事裁判、刑事裁判ともに国民が裁判員として参加している。
- エ 確定した判決は、新たな証拠によって再審されることはない。

- (5) 資料5は、国政選挙における年代別投票率の状況を示したものである。この資料に関して述べたあとの文中の i ii に入る語句の組み合わせとして適切なものを、あとのア～カから1つ選んで、その符号を書きなさい。

資料5

(%)

	10歳代	20歳代	30歳代	40歳代	50歳代	60歳代	70歳代以上	全体
2016年参議院議員通常選挙	45.45	35.60	44.24	52.64	63.25	70.07	60.98	54.70
2017年衆議院議員総選挙	41.51	33.85	44.75	53.52	63.32	72.04	60.94	53.68
2019年参議院議員通常選挙	32.28	30.96	38.78	45.99	55.43	63.58	56.31	48.80

全体の投票率は全数調査、その他はすべて抽出調査

(総務省ホームページより作成)

全体の投票率は50%前後で推移しており、各年代別の投票率を見ると、3回の選挙とも10歳代から i 歳代までの投票率が、全体よりも低い。投票率の低さから考えられる政治に対する無関心の広がり、 ii という点で民主政治にとって問題となる。

- ア i 30 ii 公正な世論の形成 イ i 30 ii 一票の格差
 ウ i 40 ii 公正な世論の形成 エ i 40 ii 一票の格差
 オ i 50 ii 公正な世論の形成 カ i 50 ii 一票の格差

2 経済に関する文章を読み、あとの問いに答えなさい。

a 市場では、消費者が何をかうか決める権利があり、企業は法律を守って公正な経済活動を行い、b よりよい商品やサービスを提供して消費者の生活を豊かにする役割がある。また、c 企業は利益に応じて税金を負担し、d 株式会社では株主の利益を確保することも求められる。さらに、現代の企業は、利潤を追求するだけでなく、e 社会の一員として地域文化に貢献することや環境保全の取組を推進することなども期待されている。また、f 災害時に企業がボランティア活動を行うなどの取組が進められている。

- (1) 下線部 a に関して説明した次の文中の i ii iii に入る語句の組み合わせとして適切なものを、あとのア～カから1つ選んで、その符号を書きなさい。

商品の性能などについては、 i がすべてを理解することは困難で、 ii の方が圧倒的に多くの専門知識や情報を持っている。そこで、 i は自ら商品に対する知識や情報を広く収集するとともに、 iii が i を守るために法律やしきみを整備することなどが重要になる。

- ア i 消費者 ii 企業 iii 政府 イ i 消費者 ii 政府 iii 企業
 ウ i 企業 ii 消費者 iii 政府 エ i 企業 ii 政府 iii 消費者
 オ i 政府 ii 消費者 iii 企業 カ i 政府 ii 企業 iii 消費者

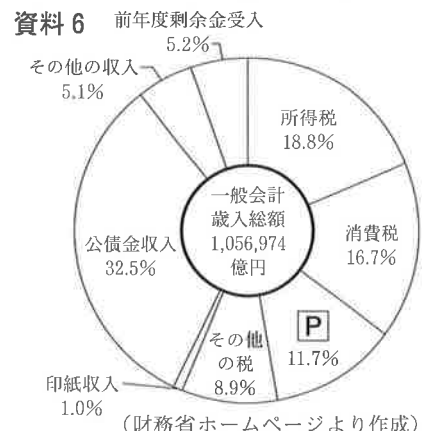
- (2) 下線部 b に関して、流通について述べた次の文 X、Y について、その正誤の組み合わせとして適切なものを、あとのア～エから1つ選んで、その符号を書きなさい。

X 販売データを分析し効率的に店を運営する目的で、POSシステムが導入されている。

Y 商業の発達に伴い、大規模小売業者が生産者から直接仕入れる流通経路はなくなった。

- ア X-正 Y-正 イ X-正 Y-誤 ウ X-誤 Y-正 エ X-誤 Y-誤

- (3) 下線部 c に関して、次の資料6は平成30年度の日本の一般会計歳入の構成である。資料6中の P に入る語句を、解答欄に合わせて漢字2字で書きなさい。



(4) 下線部 d に関して、次の X、Y の一般的な立場を説明した文の組み合わせとして適切なものを、あとのア～エから 1 つ選んで、その符号を書きなさい。

X 株主の立場

Y 経営者の立場

① 株式を発行して資金を集める	あ 利潤の一部を配当する
② 経営の基本方針について議決権を持つ	い 会社が倒産しても出資額以上の責任はない

ア X-①-あ Y-②-い イ X-①-い Y-②-あ
 ウ X-②-あ Y-①-い エ X-②-い Y-①-あ

(5) 下線部 e に関して、このような企業の役割を何というか、解答欄に合わせて漢字 5 字で書きなさい。

(6) 下線部 f に関して、あとの資料 7、8 について述べた文として適切なものを、次のア～エから 1 つ選んで、その符号を書きなさい。

ア 1995年の阪神・淡路大震災の後は、社会のために役立ちたいと思っている人の割合が高くなり続けており、ボランティア活動をしたことがある2016年の会社員の割合は他の職業に比べて高いが、自らの成長につながると考えて参加した会社員の割合は全体平均に比べて低い。

イ 1995年の阪神・淡路大震災の後は、社会のために役立ちたいと思っている人の割合が6割以上で推移し、ボランティア活動をしたことがある2016年の会社員の割合は他の職業に比べて低い、職場の取組の一環として参加した会社員の割合は全体平均に比べて高い。

ウ 2011年の東日本大震災の後は、社会のために役立ちたいと思っている人の割合が最も高くなり、社会の役に立ちたいと思って参加した2016年の会社員の割合は全体平均に比べて高いが、自らの成長につながると考えて参加した会社員の割合は他の職業に比べて低い。

エ 2011年の東日本大震災の後は、社会のために役立ちたいと思っている人の割合が1986年より低く、自分が抱えている社会問題の解決のために参加した2016年の会社員の割合は全体平均に比べて高いが、自らの成長につながると考えて参加した会社員の割合は他の職業に比べて低い。

資料 7 社会への貢献意識 (%)

	社会のために役立ちたいと思っている	あまり考えていない	わからない
1986年	47.0	46.4	6.6
1996年	62.1	33.6	4.2
2006年	61.1	35.8	3.1
2016年	65.0	32.4	2.6

(内閣府『社会意識に関する世論調査』より作成)

資料 8 ボランティア活動経験と参加理由 (2016年)

職業	ボランティア活動をしたことがある(%)	参加理由(複数回答) (%)						
		自己啓発や自らの成長につながると考えるため	社会の役に立ちたいと思ったから	職場の取組の一環として	知人や同僚等からの勧め	自分や家族が関係している活動への支援	社会的に評価されるため	自分が抱えている社会問題の解決に必要なから
会社員	12.9	21.2	46.2	33.3	8.3	28.8	1.9	4.5
自営業	24.1	34.2	45.2	12.3	17.8	19.2	2.7	9.6
医師・弁護士等の資格職	22.6	23.8	52.4	38.1	4.8	23.8	0.0	9.5
公務員・団体職員	27.1	25.7	35.1	48.6	5.4	24.3	1.4	2.7
派遣・契約社員、パートタイム従業員、アルバイト	14.3	24.3	38.3	15.9	5.6	42.1	1.9	8.4
主婦・主夫	20.2	42.9	56.0	0.0	13.2	38.5	1.1	7.7
学生	21.9	52.6	57.9	0.0	31.6	10.5	0.0	5.3
無職	18.7	38.5	69.2	1.5	7.7	32.3	1.5	4.6
全体平均	17.4	30.1	47.7	20.1	10.0	30.4	1.9	6.6

(内閣府『市民の社会貢献に関する実態調査』より作成)